



永岸公考

2024年7月6日江苏泰州姜堰区、高港区、兴化市、泰
兴市事业单位《综合能力素质》笔试试题

永岸公考网校

www.chinaexam.org

2024年7月6日江苏泰州姜堰区、高港区、兴化市、泰兴市事业单位《综合能力素质》笔试试题

一、公共基础知识。根据题目要求，在四个选项中选出一个最恰当的答案。

1、2024年2月3日，党的十八大以来第（ ）个指导“三农”工作的中央一号文件由新华社授权发布，文件指出要学习运用（ ）工程经验，有力有效推进乡村全面振兴。

- A、11，农村人居环境整治
- B、11，千村示范、万村整治
- C、12，农村人居环境整治
- D、12，千村示范、万村整治

2、截至2024年6月4日，（ ）完成世界首次月球背面采样和起飞，月球背面（ ）被公认为月球上最大的、最古老、最深的盆地。在这里开展世界首次月背采样、对进一步认识月球意义重大。

- A、嫦娥五号 南极-艾特肯盆地
- B、嫦娥五号 阿波罗盆地
- C、嫦娥六号 南极-艾特肯盆地
- D、嫦娥六号 阿波罗盆地

3、毛泽东同志炉火纯青的斗争艺术，无论是以“打得一拳开，免得百拳来”的战略远见进行抗美援朝、保家卫国，还是以“独有英雄驱虎豹，更无豪杰怕熊罴”的无畏精神反对霸权主义，捍卫民族尊严；无论是以“自力更生为主，争取外援为辅”的战略方针推进国内建设，还是以把世界看作“小小寰球”的恢弘气魄和“小球转动大球”的战略智慧打开对外工作新局面，都在新中国历史上打下鲜明烙印，这启迪我们（ ）。

- A、要深刻塑造中国共产党组织的先锋模范作用
- B、要进行伟大斗争发挥伟大斗争的决定性作用
- C、在实践中不断推进马克思主义中国化的优化
- D、要把中国发展进步的命运牢牢握在自己手中

4、习近平总书记在文化发展座谈会上的讲话中指出，我们的社会主义为什么不一样？为什么能生机勃勃、充满活力？关键就在中国特色。中国特色的关键在于“两个结合”即“坚持马克思主义基本道理与中国具体相结合、同中华优秀传统文化相结合”。对于“两个结合”的重大意义，下列理解正确的是（ ）。

- A、立足优秀传统文化，筑牢了中国特色社会主义道路的文化根基
- B、开创了全面改革开放的新局面，成功把中国特色社会主义推向21世纪
- C、表明我们党对中国特色社会主义道路、理论、制度的认识达到了新高度
- D、是决定实现“两个一百年”奋斗目标、实现中华民族伟大复兴的关键一招

5、2024年2月，习近平总书记在天津考察时强调提升改革精准性、针对性。对此，有媒体撰文指出，全面深化改革不等于平均用力，而是要在根本性问题、关键性问题上取得突破。可以先试点，取得经验后再上升

为制度性成果，最终大范围铺开，实现点与面有机结合，在精准到问题的基础上更有针对性，“开方抓药”，提升改革精准性、针对性（ ）。

- A、有利于坚持两点论和重点论相统一，抓住主流
- B、有利于抓住主要矛盾，提升解决问题的实效性
- C、要在矛盾特殊性的指导下具体分析矛盾的普遍性
- D、要把握矛盾双方的平衡点以推进矛盾双方有效转化

6、自 2024 年 1 月 1 日起，十四届全国人大常委会第五次会议表决通过的新修订的《行政复议法》开始实行。修正后的行政复议法增设便民申请渠道，方便申请人通过互联网渠道提出行政复议申请。对当场作出或者依据电子技术监控设备记录的违法事实作出的行政处罚决定不服申请行政复议的，可通过作出行政处罚决定的行政机关提交行政复议申请。从唯物史观看，新修订的《行政复议法》出台（ ）。

- A、意在遵循社会发展规律，维护人民群众利益
- B、表明生产关系一定要适应生产力的发展要求
- C、说明社会基本矛盾的解决只能靠改革来实现
- D、说明正确的认识要做到主观与客观具体的、历史的统一

7、2024 年 2 月 23 日，人力资源和社会保障部发布《新就业形态劳动者休息和劳动报酬权益保障指引》，将从事网约配送、出行、运输、家政服务等的新就业形态劳动者纳入最低工资保障。此举措旨在（ ）。

- A、健全多层次社会保障体系
- B、通过再分配提高劳动者收入
- C、提高劳动报酬在初次分配中的比重
- D、维护好新就业形态劳动者各种权益

8、2024 年，人力资源社会保障部将继续落实为困难群体代缴城乡居民养老保险费等帮扶政策，进一步提升通过社保卡支持本地和跨省异地就医直接结算的便利性，推进职业伤害保障试点工作。国家医保局还将推动集采“扩围提质”，实现国家和省级集采药品数至少达到 500 个。上述系列举措旨在（ ）。

- A、增强民生建设普惠性，完善多层次社会保障体系
- B、减轻居民生活负担，多渠道增加居民的财产性收入
- C、强化社会福利，使社会成员的生活质量不断得到提高
- D、落实责任共担机制，守好居民生活安全最后一道防线

9、某地深化深化社区党建联建，提高物业管理服务水平，在封闭式小区，推行居委会、网格党组织、业委会、物业公司、共建单位“五方联动”工作机制，社区党组织还定期召集居委会、业委会、物业企业等召开联席会，共商基础设施改造、物业服务、安全管理等问题，提高了社区治理服务水平。该做法有利于（ ）。

- A、发挥党的组织优势，创新基层自治组织形式

- B、完善基层治理机制，发挥自治组织的主导作用
- C、紧扣基层治理难题，增强基层治理的制度保障
- D、形成多元共治格局，提高群众的自我管理能力和

10、中国共产党自成立之日起，高度重视法治建设，特别是党的十八大以来，党中央明确提出全面依法治国，将其纳入“四个全面”战略布局予以有力推进，推动中国特色社会主义法治体系建设取得历史性成就。下列关于新中国法****取得的成就，说法正确的（ ）。

- A、形成了以宪法为核心的中国特色社会主义法律体系
- B、法治国家建设深入推进，全面依法治国总体格局完全形成
- C、中国共产党提高执法水平，为人权法治化保障提供了制度保证
- D、司法机关不断简政放权，优化服务，社会公平正义保障更加坚实

11、财政政策和货币政策是宏观调控最常用的经济手段，下列属于财政政策的是（ ）。

- ①继续优化减税降费，退税停税等措施
- ②不断完善贷款市场报价利率传导机制
- ③扩大地方政府专项债券规模和覆盖范围
- ④运用降准降息等手段保持流动性充裕

- A、①②
- B、①③
- C、②④
- D、③④

12、去餐馆吃饭时，在指定平台签到、打卡、发好评，就可以获赠一份小菜或甜品；网购或点外卖时，包装里常夹着“好评返现”卡片，按照指引给好评就能拿到几元红包；在指定平台发布探店好评，就能置换一顿“霸王餐”……从餐饮、网购到住宿、休闲，“好评返现”已悄然走入大众生活的方方面面。商家“好评返现”（ ）。

- A、属于正当竞争，保障消费者批评监督权
- B、旨在让利促销，是正当的产品推广手段
- C、涉嫌虚假宣传，侵害其他消费者知情权
- D、属于混淆行为，损害了他人的商业信誉

13、“冰雪热”壮大了新型消费，带动了国内冰雪装备制造业的提质升级，东北三省通过资源共享，实现冰雪旅游一体化发展，这表明发展冰雪经济能（ ）。

- ①促进区域协调发展
- ②推动实体经济发展

③优化国有经济布局

④实现社会供求平衡

A、①②

B、①③

C、②④

D、③④

14、千载非遗薪火接续，生生不息历久弥新。一直以来，各地积极探索“非遗+旅游”“非遗+餐饮”“非遗+乡村振兴”“非遗+政策宣讲”等模式，创新传承路径，非遗实现从“活”起来到“火”起来的跨越。材料说明（ ）。

A、非遗的传承与发展需要挖掘其经济价值

B、传承路径的创新丰富了传统文化的内涵

C、非遗与经济、政治融合有助于非遗传承

D、发展公益性文化事业是文化传承的根基

15、网络剧《我的阿勒泰》对散文进行了创新的影视改编，通过轻喜剧的故事风格、质朴疗愈的影像，展示了阿勒泰的自然与生活风貌，北豫的人文民俗和牧民们的朴素坚毅。一经播出即以高品质姿态去领跑国剧市场，收获了海内外观众的广泛好评，该片成功在于（ ）。

A、集中体现了中华民族的整体风貌和精神特征

B、满足市场需求，融通不同资源实现综合创新

C、立足时代之基，坚守中华民族的文化主体性

D、坚持以发展社会主义先进文化为标准进行创新

二、言语理解与表达。本部分包括表达与理解两方面的内容。请根据题目要求，在四个选项中选出一个最恰当的答案。

16、习近平总书记指出，发展新质生产力不是忽视、放弃传统产业。在现阶段以及未来的一段时间内，传统产业依然是我国经济的_____、稳定器，关系到国计民生的方方面面，对于保持经济稳定增长、人民充分就业、社会长治久安具有重要意义。发展新质生产力关键是聚焦“创新”二字做好文章，让新兴产业与传统产业相互促进、相得益彰。通过科技赋能对传统产业进行升级改造，让新兴产业与传统产业良性互动，形成新质生产力发展的_____。

依次填入画横线处最恰当的一项是（ ）。

A、晴雨表 助力

B、定盘星 动力

C、压舱石 合力

D、新引擎 潜力

17、人类四大文明只有华夏文明注重自然环境保护，也正是这使得华夏文明历经两千年依旧_____，对于那些可以长久屹立在漫漫历史长河中的统治势力来说，用赖以生存的生态换取短期资本是_____之举，生态文明建设的好才能吸引人才与投资入住，才是长远良性发展的举措。

依次填入画横线处最恰当的一项是（ ）。

- A、熠熠生辉 竭泽而渔
- B、熠熠生辉 得不偿失
- C、源远流长 竭泽而渔
- D、源远流长 得不偿失

18、2023年，全国棉花单产134.3公斤/亩，比上年增加1.5公斤/亩，增长1.1%。分地区看，新疆春季大部棉区低温多雨，棉花生育进程比上年_____，夏季持续高温对棉花生长_____，但秋季气象条件_____棉花采收，加之低产棉田逐步_____，单产略有下降，新疆棉花单产143.9公斤/亩，比上年减少0.2公斤/亩，下降0.1%。

依次填入画横线处最恰当的是（ ）。

- A、提前 有利 不利 增多
- B、推迟 不利 利于 调减
- C、提前 不利 利于 调减
- D、推迟 有利 不利 增多

19、在自媒体日益兴盛的背景下，主流媒体应在加强正面宣传的基础上，要把关注和引导网上热点作为主流媒体义不容辞的工作责任，作为主流媒体彰显主导能力、倡导主流价值的工作机遇，对网上的热点既不能视而不见、_____，更不允许哗众取宠、_____。要发挥主流媒体在权威品牌、专业人才、采编机制等方面的诸多优势，在澄清事实真相、回应公众关切、疏导社会情绪中，_____全媒体传播体系的建设成效。

依次填入画横线处最恰当的一项是（ ）。

- A、无动于衷 推波助澜 检验
- B、置若罔闻 东施效颦 健全
- C、充耳不闻 火上浇油 展现
- D、漠不关心 煽风点火 提高

20、_____。在二月春耕时节，国家税务总局南宁市西乡塘区税务局税务干部结合“便民办税春风行动”要求，走进农业企业春耕备耕生产现场，积极落实农产品流通、支持农业企业发展等惠农税收优惠政策，助力农业企业生产开好头。

根据文意，填入画横线部分最恰当的一项是（ ）。

- A、晨出肆微勤，日入负禾还
- B、丰穰美报非无事，粒粒曾关圣主忧
- C、布谷声初定，欣看麦已秋
- D、锄麦家家趁晚晴，筑陂处处待春耕

21、红色文化是马克思主义中国化时代化的产物，不同时期形成的红色文化资源与其时代使命紧密联系。马克思主义理论的指导和扎根实际的伟大品质，造就了红色文化守正创新、与时俱进、面向未来的强大张力。新时代新征程，以中国式现代化全面推进强国建设、民族复兴伟业需要更好发挥红色文化的作用，深入挖掘红色文化丰富内涵，推动其创新发展，使红色基因薪火相传，让红色文化激扬出文化自信的强大力量。

这段文字意在强调（ ）。

- A、从红色文化中汲取文化自信的力量
- B、红色文化资源与马克思主义紧密联系
- C、红色文化是中国共产党光荣历史的见证
- D、红色文化凝聚精神文化结晶并构筑精神谱系

22、5月份全国规模以上工业增加值同比增长5.6%。九成地区、八成行业、近六成产品实现同比增长，其中装备制造业增长7.5%，拉动全部规模以上工业增长2.6个百分点，继续发挥“压舱石”的作用。从服务业看，5月份服务业生产指数同比增长4.8%，比上月加快1.3个百分点。5月社会消费品零售总额同比增长3.7%，较4月份回升1.4个百分点。5月份全国城镇调查失业率为5%，与上月持平，同比下降0.2个百分点。

根据文意，下列选项中没有提到的是（ ）。

- A、生产供给稳步增加
- B、转型升级态势向好
- C、就业物价总体稳定
- D、市场需求稳中有升

23、近年来，影视作品与城市之间的联系越发紧密。电视剧《繁花》播出后，上海黄河路成为剧迷们追捧的热门景点。最近热播的电视剧《我的阿勒泰》又将新疆北部城市阿勒泰展现于公众视野。越来越多的城市意识到影视作品对城市形象和文化推广的重要性，纷纷加大对影视创作的支持力度。

最符合本段文意的标题是（ ）。

- A、“双向奔赴”看影视作品与城市双向赋能
- B、“一部剧带火一座城”打造心中诗与远方
- C、“天然摄影棚”透过镜头让更多人爱上文旅
- D、“故事为王”建设城市一流影视制作基地

24、当前中国正处于由金融大国向金融强国迈进的关键时期，面对复杂严峻的全球金融风险以及依然突出的国内金融矛盾，金融系统要坚持稳中求进，着力统筹好发展和安全的关系，在稳定大局的前提下把握时度效，既要根据实际情况积极推进金融发展，又要扎实稳妥地化解风险、牢牢守住不发生系统性金融风险的底线。

这段文字针对的主要问题是（ ）。

- A、诚实守信，不逾越底线
- B、以义取利，不唯利是图
- C、稳健审慎，不急功近利
- D、守正创新，不脱实向虚

25、①离麦场近些的人家，女主人这时会老做好的晚饭端到场里，一家人席地而坐围在饭盆四周开始吃喝起来

②这阵子有人家会拎了竹席来到麦场上准备露天而睡，同来的孩子们聚在麦场上玩着各种游戏，当困倦袭来时，便个个回到自家的大人身边

③最后一装麦扛走之后，人们开始计算斤数，算出今年的总产和亩产，之后满足的笑容在脸上浮现

④月亮也在这时悄无声息地升起来，让银色的光辉把刚刚空旷的麦场一下子铺满

⑤人们先把麦子灌进麻袋，然后开始过秤，过完秤便由赤膊的小伙子嗨一声扛走

⑥一边打着哈欠听大人们笑谈着今年麦子的售价，边慢慢向渺远而美丽的梦乡沉去

⑦夏夜，也就在不知不觉向正式开始了

将以上句子重新排列，语序正确的是（ ）。

- A、⑤③④①⑦②⑥
- B、⑤③①⑦②⑥④
- C、⑦①②⑥⑤③④
- D、⑦④⑤③①②⑥

三、数量关系。在这部分试题中，每道题呈现一段表述数字关系的文字，要求你迅速、准确地计算出答案。

26、一所高校要进购体育设施，足球和篮球定价为 100 元和 120 元，由于买的多，商店分别给予足球 25%、篮球 18%的折扣，共少付 21%。足球和篮球购买的数量比是（ ）。

- A、10:11
- B、9:10
- C、8:9
- D、7:8

27、有一座 18.2 万人口的县城，需要划分为 13 个投票区，任何一个区的人口不得比其他区人口多 8%以上，那么人口最少的区可能有（ ）。

- A、10800
- B、11500
- C、12700
- D、13000

28、商场的自动扶梯以匀速由下而上，两个孩子嫌扶梯慢，于是在行驶的扶梯上，男孩每秒向上走 3 个阶梯，女孩每秒走 2 个阶梯。结果男孩用了 30 秒，女孩用了 40 秒到达。当该扶梯静止时，可见的扶梯有（ ）级。

- A、240
- B、200
- C、160
- D、120

29、小张打算从 6 月某日开始每天进行在线学习，每 4 天学习一次专业课，每 5 天学习一次高等数学，每 6 天学习一次外语。已知小张 8 月 14 日学习专业课，8 月 15 日学习高等数学，8 月 16 日学习外语。则他是从（ ）开始第一次学习的。

- A、6 月 15 日
- B、6 月 17 日
- C、6 月 18 日
- D、6 月 19 日

30、某会议室六排，共 42 个座位，每排座位数相同。小王小赵随机入座，两人同一排的概率是多少？（ ）

- A、不高于 15%
- B、高于 15%，低于 20%
- C、正好 20%
- D、高于 20%

31、1， 2， 6， 37， 1371，（ ）。

- A、1879683
- B、1879642
- C、1879577
- D、1879504

32、3， 7， 20， 54， 148，（ ）。

- A、404
- B、424

C、434

D、444

33、 $\sqrt{3}$, $2\sqrt{2}$, $2\sqrt{6}$, $3\sqrt{7}$, $\sqrt{143}$, ()。

A、 $4\sqrt{14}$

B、 $\sqrt{257}$

C、 $12\sqrt{2}$

D、 $\sqrt{442}$

34、 $\frac{128}{81}$, $\frac{81}{2}$, 8, 18, 12, ()。

A、7.5

B、8.5

C、 $\frac{49}{12}$

D、 $6\sqrt{6}$

35、279, 477, 387, 756, 873, ()。

A、569

B、587

C、588

D、594

四、判断推理。本部分包括图形推理、定义判断、类比推理和逻辑判断四种类型的试题，在四个选项中选出一个最恰当的答案。

36、接力比赛：跑步比赛

A、行政人员：科研人员

B、艺术展览：美术展览

C、智能手机：5G手机

D、木制桌椅：办公桌椅

37、千呼：万唤

A、千家：万户

B、三头：六臂

C、一呼：百应

D、千锤：百炼

38、眼霜：面霜：护肤品

A、金鱼：鲫鱼：海鱼

B、大米：小米：新米

C、蔗糖：食盐：调料

D、中餐：西餐：大餐

39、暴雨：细雨：阵雨

A、白天：黑夜：时光

B、冷色：暖色：深色

C、大树：小树：树林

D、雄鹰：山鹰：老鹰

40、古筝对于（ ）相当于（ ）对于行为。

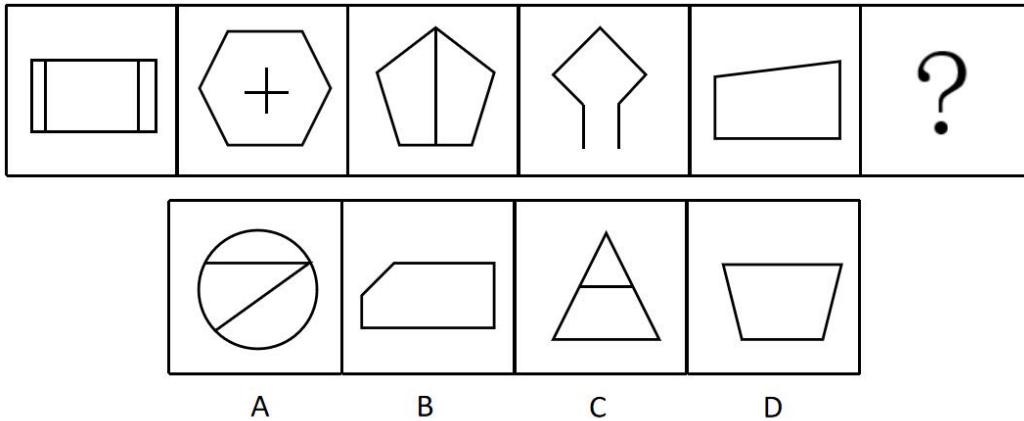
A、弹奏 结果

B、乐器 偷窃

C、音乐 奖励

D、琴弦 动作

41、从所给的四个选项中，选出一个最合适的填入问号处，使之呈现一定的规律（ ）。



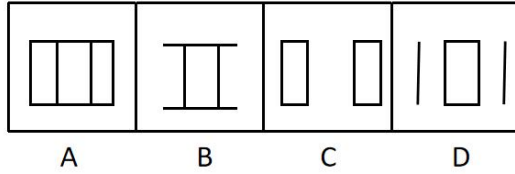

A、A

B、B

C、C

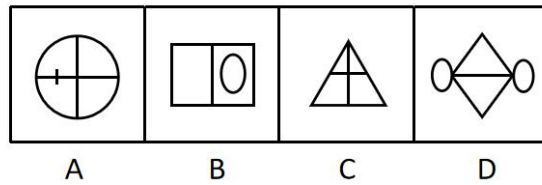
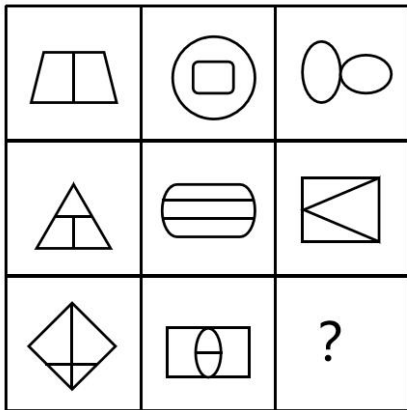
D、D

42、从所给的四个选项中，选出一个最合适的填入问号处，使之呈现一定的规律（ ）。



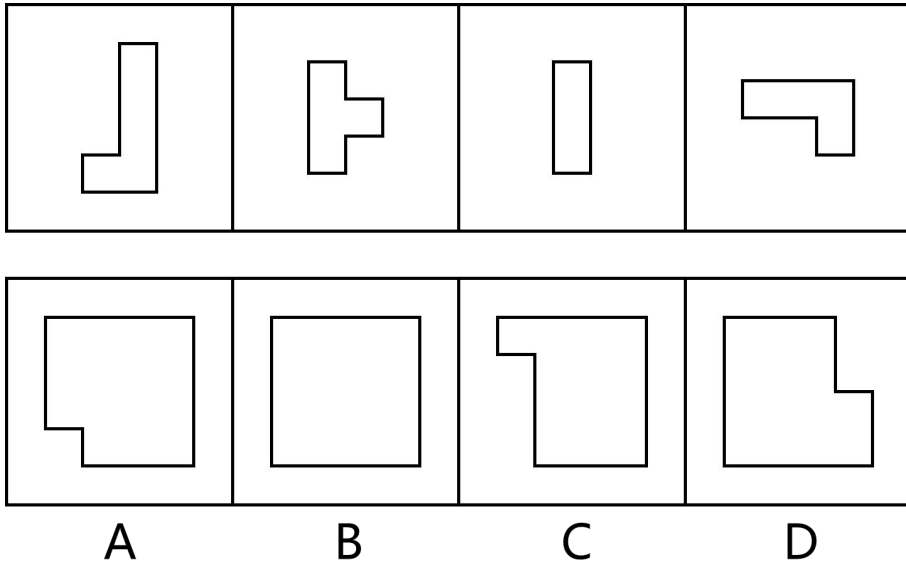
- A、A
- B、B
- C、C
- D、D

43、从所给的四个选项中，选出一个最合适的填入问号处，使之呈现一定的规律（ ）。



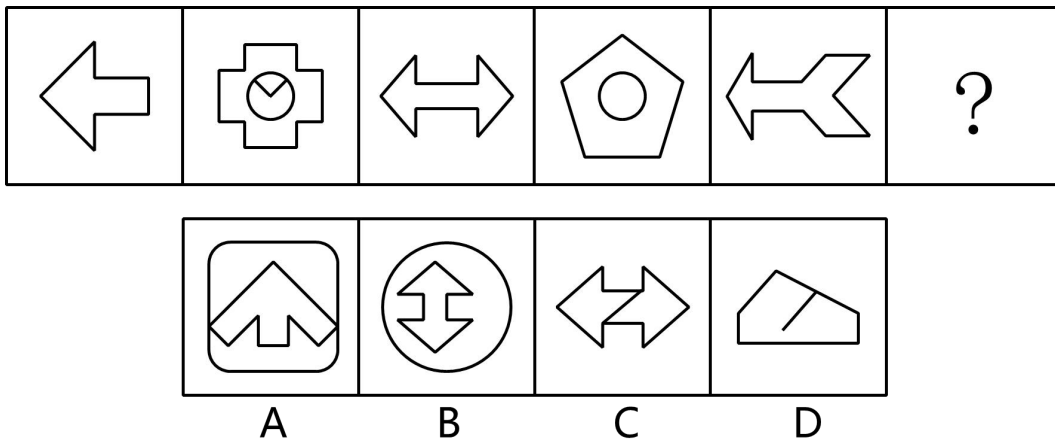
- A、A
- B、B
- C、C
- D、D

44、下面四个图形，可以拼合（只可上、下、左、右平移）成选项中的哪一个图形？（ ）



- A、A
- B、B
- C、C
- D、D

45、请从所给的四个选项中，选出最合适的一个填入问号处，使之呈现一定的规律性（ ）。



- A、A
- B、B
- C、C
- D、D

46、下列事件排序比较合理的一项是（ ）。

- ①小王上网查蝉虫图片
- ②小王与朋友在郊外草地野餐
- ③小王大腿有一处红肿奇痒难耐

④小王打电话提醒朋友远离草丛注意蚊虫

⑤小王看到女子被蚊虫叮咬后身亡的新闻

A、④②③①⑤

B、②④③⑤①

C、④②①⑤③

D、②③⑤①④

47、下列事件排序比较合理的一项是（ ）。

①很多患者吐槽医院停车难

②停车难矛盾并未彻底解决

③医院召开会议讨论如何腾出更多车位

④医院安排医生将车停在附近社会停车场

⑤院长带头坐地铁上下班鼓励医生让车位

A、①⑤③④②

B、①④②⑤③

C、①⑤③②④

D、①⑤②③④

48、下列事件排序比较合理的一项是（ ）。

①小伙新买了一副无线耳机

②小伙新买了一副有线耳机

③哈士奇一改往日活泼精神萎靡

④小伙到处寻找丢失的一只无线耳机

⑤小伙将哈士奇带去宠物医院挂水催吐

A、①③④②⑤

B、②③⑤④①

C、①④③⑤②

D、②④③⑤①

49、下列事件排序比较合理的一项是（ ）。

①王教授获得研究经费购买实验设备

②王教授团队发表多篇高水平论文

③王教授查阅文献思考科研方向

④王教授的科研项目顺利结题

⑤王教授撰写项目申报书

- A、③⑤①②④
- B、③②⑤①④
- C、②①⑤③④
- D、⑤②③①④

50、下列事件排序比较合理的一项是（ ）。

- ①刘女士发现一笔微信转账并非自己消费
- ②刘女士女儿承认自己偷拿手机买装备
- ③刘女士惩罚女儿三个月不能玩网络游戏
- ④刘女士向游戏公司申诉退回转账费用
- ⑤刘女士查询转账去向发现是游戏公司

- A、①③④②⑤
- B、①②⑤④③
- C、①⑤②④③
- D、①⑤③②④

51、音乐治疗，是一个系统的干预过程，在这个过程中，治疗师利用音乐体验的各种形式，以及在治疗过程中发展起来的、作为治疗动力的治疗关系来帮助治疗对象达到健康的目的。

根据上述定义，下列选项中属于音乐治疗的是（ ）。

- A、病人小王听到同病房病友推荐的怀旧歌曲后感觉非常愉快
- B、医生为精神紧张的小朱播放催眠音乐，小朱放松很快入睡
- C、某心理咨询师给病人听某些音乐后，病人出现烦躁症状
- D、小杨说水滴声等白噪音可以治疗失眠，于是在网上下载

52、自媒体，是指一个普通市民或机构组织能够在任何时间、任何地点，以任何方式访问网络，通过现代数字科技与全球知识体系相联，并提供或分享他们的真实看法、自身新闻的一种途径和即时传播方式。

根据上述定义，以下哪项行为没有涉及自媒体？（ ）

- A、老董浏览体育论坛上关于亚运会的新闻
- B、小周在微博上与网友讨论股票走势等问题
- C、小凡将拍摄的“昙花一现”照片用电子邮件发给网友
- D、张教授将他的课程录像上传到网上，免费供学习者下载

53、私德是指人们在不直接涉及对社会整体的义务和责任的私人生活和私人交往中应当遵循的道德准则，这包括个人的生活习惯、行为风度、性格特点以及处理爱情、婚姻、家庭问题的道德等。

根据上述定义，以下不涉及私德的是（ ）。

- A、张老师和蔼可亲，在学校深受爱戴
- B、小杨性格张扬，喜欢穿戴各种新潮服饰
- C、刘某遵纪守法，从没干过违法犯罪的的事情
- D、张医生医术高超，但却被爆出婚内出轨

54、归谬法是一种反驳方法，其基本思路是：为了反驳一个命题，首先假定它是真的，然后由它推出荒谬的结论，进而得出该判断是假的。

根据上述定义，下列属于归谬法的是（ ）。

- A、如果一个东西占据一个与它自身相等的空间，那它是静止的。飞着的箭在任何瞬间都占据一个与它自身相等的空间，所以它任何时间都是静止的
- B、这个证明肯定正确，因为著名的科学家都看过这个证明，他们没有指出其中有错
- C、你说甲是内向的，甲是中国人，那么中国人就是内向的。你是中国人，那么你也内向
- D、有人认为要想长寿，吃多足的不如吃无足的。照此推理，吃蚯蚓的鸡要比吃昆虫的鸡更长寿，可事实未必如此

55、心锚效应是一种心理学现象，它指的是人的某种情绪与行为与外界的某个事物产生连接，形成条件反射。简单来说，就是通过特定的场景、人物或环境来唤醒或产生特定的记忆或感觉。心锚效应属于条件反射的一种形式，当条件和反射的连接模式衔接好后，心锚就建立起来了。

根据上述定义，下列现象不属于心锚效应的是（ ）。

- A、小李每每听到《甜蜜蜜》这首歌，就会想到和初恋一起度过的美好时光
- B、小张在购物时，看到某品牌的标志就会想到它的高品质，并购买该商品
- C、小刘对咖啡有一种特殊的喜好，每次闻到咖啡的香味都会感到心情愉悦
- D、小赵遇到老年人总会尽力帮忙，想象着远在家乡的父母也会遇到好心人

56、大黄蜂种群通过活跃的产热维持其在高温下的育雏，这是种群生存和繁殖的先决条件。昆虫学家研究发现长期暴露于草甘膦的大黄蜂种群在高温下育雏的能力显著下降，但草甘膦对大黄蜂产热的影响微乎其微。对此，昆虫学家认为草甘膦对大黄蜂育雏的影响主要是种内大黄蜂的传粉行为。

假设下列选项为真，以下最能支持上述昆虫学家的结论的是（ ）。

- A、该研究历时三年，观察的大黄蜂样本数量十分庞大
- B、大黄蜂产热的频繁程度对其育雏能力具有显著影响
- C、是否接触草甘膦对大黄蜂的产热频繁程度并无影响
- D、生物学家们得出的研究结论皆基于严谨的科学实验

57、有研究表明，城市绿化面积的增加与市民的健康水平正相关，政府需要加大对绿化工程投入，以提升

市民的健康水平。

以上推论包含的前提是（ ）。

- A、提升市民健康水平是政府工作目标之一
- B、市民的健康水平主要受生活环境的影响
- C、绿化工程是提升市民健康水平的最有效手段
- D、增加城市绿化面积对市民健康的促进作用具有持续性

58、某大学调查学生兴趣爱好后发现，喜欢打乒乓球的学生中，来自体育学院的学生一定喜欢游泳。

根据题干信息，那么下列一定为真的是（ ）。

- A、甲喜欢打乒乓球和游泳，则甲一定是体育学院的学生
- B、乙是体育学院的学生且喜欢游泳，则乙喜欢打乒乓球
- C、丁不喜欢打乒乓球和游泳，则丁不是体育学院的学生
- D、丙喜欢打乒乓球，不喜欢游泳，则丙不是体育学院的学生

某剧团拟将《红楼梦》中经典章节搬上舞台，该剧有林黛玉、贾宝玉、薛宝钗、袭人、王熙凤、紫鹃、贾母7位主要角色，甲、乙、丙、丁、戊、己、庚7个演员每人只能扮演其中一个，且每个角色只能由其中一人扮演，具体安排如下：

- (1) 如果甲不扮演贾宝玉，则乙扮演林黛玉；
- (2) 如果丙或己扮演袭人，则丁扮演贾母；
- (3) 如果乙不扮演林黛玉，则丙扮演袭人；
- (4) 如果丁不扮演紫鹃，则丙扮演贾宝玉。

59、根据上述信息，可以得出（ ）。

- A、甲扮演贾宝玉
- B、乙扮演林黛玉
- C、丙扮演袭人
- D、丁扮演贾母

60、若甲扮演贾宝玉，而庚扮演王熙凤，则可以得出（ ）。

- A、丙扮演薛宝钗
- B、丙扮演贾母
- C、丁扮演薛宝钗
- D、戊扮演袭人

五、资料分析。所给出的图、表、文字或综合性资料均有若干个问题要你回答。你应根据资料提供的信息进行分析、比较、计算和判断处理。

《2023年某市国民经济和社会发展统计公报》显示：

农业生产稳中向好。全市实现农林牧渔业总产值354.8亿元，按可比价格计算比上年增长3.0%。全市农作物播种面积214.1千公顷，其中粮食播种面积132.4千公顷，蔬菜播种面积67.1千公顷。全年粮食产量再创新高，其中夏粮产量26.9万吨，增长6.8%；秋粮产量68.2万吨，增长1.5%。年末地产生猪存栏22.4万头，比上年下降0.4%，全年地产生猪出栏27.1万头，比上年增长33.6%。主要农产品中，猪牛羊禽肉产量2.4万吨，比上年增长31.5%，其中猪肉产量2.2万吨，增长40.0%；蔬菜产量203.8万吨，增长1.0%；水产品产量14.5万吨，增长1.4%。

工业总量迈上新台阶。全年规模以上工业总产值超4.4万亿元，达到44343.9亿元，比上年增长3.6%。分行业看，前六大主导行业实现产值28940.3亿元，占规模以上工业总产值比重为65.3%，比上年提高0.7个百分点。电子信息、装备制造两个万亿级产业沉锚压舱全年产值分别达13441.1亿元和14241.9亿元。计算机、通信和其他电子设备制造业，电气机械和器材制造业，汽车制造业，专用设备制造业产值分别比上年增长4.3%、3.2%、6.3%和3.4%。规模以上工业中，大型企业产值18731.7亿元，比上年增长2.1%；中型企业产值10641.6亿元，下降2.7%；微型企业产值14970.6亿元，下降0.3%。全市百强企业实现产值15377.9亿元，比上年增长8.0%。分经济类型看，国有及国有控股企业产值1730.2亿元，比上年增长2.4%；民营企业产值20689.1亿元，增长6.6%，占规模以上工业总产值比重46.7%；外商及港澳台企业产值22019.7亿元，下降5.5%。

居民收入稳定增长。全市常住居民人均可支配收入74076元，比上年增长4.6%，其中城镇常住居民人均可支配收入82989元，增长4.3%；农村常住居民人均可支配收入46385元，增长5.9%。全市常住居民人均消费支出46018元，比上年增长7.3%，其中城镇常住居民人均消费支出50656元，增长6.8%；农村常住居民人均消费支出31609元，增长10.0%。

61、2022年该市粮食总产量为（ ）万吨。

- A、85.7
- B、89.4
- C、91.1
- D、92.4

62、2023年该市牛羊禽肉产量比2022年（ ）。

- A、增长了21.3%
- B、下降了21.3%
- C、增长了27.0%
- D、下降了27.0%

63、2023年前六大主导行业产值增长率约为（ ）。

- A、6.5%

B、5.6%

C、4.7%

D、3.8%

64、2022 年该市城镇常住居民与农村常住居民的人均可支配收入比为（ ）。

A、1.79:1

B、1.82:1

C、1.83:1

D、1.85:1

65、2023 年该市农村居民人均消费支出较上一年增加了（ ）元。

A、2874

B、2746

C、2647

D、2584

参考答案

1、本题考查时政真题。

2024 年 2 月 3 日，党的十八大以来第 12 个指导“三农”工作的中央一号文件由新华社授权发布，提出有力有效推进乡村全面振兴“路线图”。

这份文件题为《中共中央 国务院关于学习运用“千村示范、万村整治”工程经验有力有效推进乡村全面振兴的意见》，全文共六个部分，包括：确保国家粮食安全、确保不发生规模性返贫、提升乡村产业发展水平、提升乡村建设水平、提升乡村治理水平、加强党对“三农”工作的全面领导。

故正确答案为 D。

2、本题考查时政真题。

2024 年 6 月 4 日 7 时 38 分，嫦娥六号上升器携带月球样品自月球背面起飞，随后成功进入预定环月轨道，完成世界首次月球背面采样和起飞。月面起飞，相当于在月球完成一次火箭发射。经过约 6 分钟的飞行，嫦娥六号上升器顺利进入了预定环月飞行轨道。月面起飞前，6 月 2 日至 3 日，嫦娥六号顺利完成了在月球背面南极-艾特肯盆地的智能快速采样。

故正确答案为 C。

3、本题考查政治常识。

推进中国式现代化是一项前无古人的开创性事业，对以正确的战略策略和顽强的斗争精神应变局、开新局提出了很高要求。在这方面，毛泽东同志博大深邃的战略思想、杰出高超的领导才能、炉火纯青的斗争艺术，给我们以无穷的启迪和教益。无论是以“打得一拳开，免得百拳来”的战略远见进行抗美援朝、保家卫国，还是以“独有英雄驱虎豹，更无豪杰怕熊罴”的无畏精神反对霸权主义、捍卫民族尊严；无论是以“自力更生为主，争取外援为辅”的战略方针推进国内建设，还是以把世界看作“小小寰球”的恢弘气魄和“小球转动大球”的战略智慧打开对外工作新局面，都在新中国历史上打下了鲜明烙印，也深刻塑造了中国共产党和中国人民的精神风骨。近年来国际形势风云变幻，特别是面对外部讹诈、遏制、封锁、极限施压，我们更加深切地体会到，毛泽东同志一贯倡导的自立自强、敢于斗争，不信邪、不怕鬼、不怕压的精神，对于我们战胜前进道路上的各种艰难险阻、维护国家尊严和核心利益、把中国发展进步的命运牢牢掌握在自己手中，发挥着多么大的作用！

故正确答案为D。

4、本题考查时政真题。

A项错误，习近平总书记在文化传承发展座谈会上指出，“结合”筑牢了道路根基。“第二个结合”让中国特色社会主义道路有了更加宏阔深远的历史纵深，拓展了中国特色社会主义道路的文化根基。“立足优秀传统文化”与讲话原文不符。

B项错误，党的十九届六中全会指出，党的十三届四中全会以后，以江泽民同志为主要代表的中国共产党人，团结带领全党全国各族人民，坚持党的基本理论、基本路线，加深了对什么是社会主义、怎样建设社会主义和建设什么样的党、怎样建设党的认识，形成了“三个代表”重要思想，在国内外形势十分复杂、世界社会主义出现严重曲折的严峻考验面前捍卫了中国特色社会主义，确立了社会主义市场经济体制的改革目标和基本框架，确立了社会主义初级阶段的基本经济制度和分配制度，开创全面改革开放新局面，推进党的建设新的伟大工程，成功把中国特色社会主义推向21世纪。

C项正确，在文化传承发展座谈会上的讲话中，习近平总书记对“两个结合”的重大意义做了深刻阐释。习总书记指出，“第二个结合”，是我们党对马克思主义中国化时代化历史经验的深刻总结，是对中华文明发展规律的深刻把握，表明我们党对中国道路、理论、制度的认识达到了新高度，表明我们党的历史自信、文化自信达到了新高度，表明我们党在传承中华优秀传统文化中推进文化创新的自觉性达到了新高度。

D项错误，改革开放是决定当代中国命运的关键一招，也是决定实现‘两个一百年’奋斗目标、实现中华民族伟大复兴的关键一招。

故正确答案为C。

5、本题考查政治常识。

A项错误，矛盾的不平衡性要求我们坚持两点论和重点论的统一，既要抓住重点，又要统筹兼顾。题干体现了抓主要矛盾，而不是抓住主流（矛盾的主要方面）。

B项正确，在复杂事物自身包含的多种矛盾中，处于支配地位，对事物发展起决定作用，这种矛盾就叫做主要矛盾。我们在想问题办事情要善于抓重点、集中力量解决主要矛盾。题干中提到“根本性问题、关键性问题”，由此可见，提升改革精准性、针对性有利于抓住主要矛盾，提升解决问题的实效性。

C项错误，具体问题具体分析是指在矛盾普遍性原理的指导下，具体分析矛盾的特殊性，并找出解决矛盾的正确方法。“先试点，取得经验后再上升为制度性成果，最终大范围铺开，实现点与面有机结合，在精准找到问题的基础上更有针对性地“开方抓药。”由此可见，提升改革精准性、针对性要在矛盾普遍性的指导下具体分析矛盾的特殊性。选项表述错误。

D项错误，矛盾双方既对立又统一，并在一定条件下可以相互转化。题干未体现。

故正确答案为B。

6、本题考查政治常识。

A项正确，人民群众是历史的主体和历史的创造者。新修订的行政复议法，积极回应社会关切，将更好发挥行政复议公正高效、便民为民的制度优势和化解行政争议的主渠道作用，有利于保护人民群众合法权益、推进法治政府建设、促进社会公平正义。新修订的《行政复议法》出台，意在遵循社会发展规律，维护人民群众利益。

B项错误，生产力决定生产关系，生产关系一定要适应生产力的发展。题干未体现。

C项错误，选项说法过于绝对。在阶级社会中，其社会基本矛盾的解决可以通过阶级斗争来实现。

D项错误，在实践和认识的辩证运动中，主观必须统一于客观，认识必须统一于实践。这种统一是认识和实践的矛盾在发展中的统一，是具体的、历史的统一。所谓具体的统一，是指主观认识要与一定时间、地点、条件下的客观实践相符合，它是具体的，而不是抽象的；所谓历史的统一，是指主观认识要同特定历史发展阶段的客观实践相符合。由于客观实践是具体的、历史的，所以，主观认识也应是具体的、历史的。客观实践变化了，主观认识也应当随之转变。选项表述正确，但属于认识论的范畴，不属于唯物史观。

故正确答案为A。

7、本题考查经济常识。

A项错误，社会保障体系是指国家通过立法而制定的社会保险、救助、补贴等一系列制度的总称，将新就业形态劳动者纳入最低工资保障不属于社会保障范畴内。

B项错误，再分配是指国民收入在初次分配基础上的进一步分配，这种分配是在全社会范围内进行的。将新就业形态劳动者纳入最低工资保障属于初次分配，不属于再分配。

C项错误，初次分配中的一部分是物质生产领域劳动者的个人收入，包括工资、奖金、福利费用和农民或其他劳动者的收入。将新就业形态劳动者纳入最低工资保障并不是提高最低工资标准，没有提高劳动报酬在初次分配中的比重。

D项正确，最低工资标准是指劳动者在法定工作时间内或依法签订的劳动合同约定的工作时间内提供了正

常劳动的前提下，用人单位依法应当支付的最低劳动报酬。将新就业形态劳动者纳入最低工资保障，有利于维护好新就业形态劳动者各种权益。

故正确答案为 D。

8、本题考查经济常识。

A 项正确，我国的社会保障体系，包括社会保险、社会福利、社会救助、社会优抚四个方面。为困难群体代缴城乡居民养老保险、异地就医结算等内容属于社会保障体系中社会保险的内容，该举措有利于增强民生建设普惠性，完善多层次社会保障体系。

B 项错误，财产性收入也称资产性收入，指通过资本参与社会生产所产生的收入，即家庭拥有的动产（如银行存款、有价证券）和不动产（如房屋、车辆、收藏品等）所获得的收入。该举措可以减轻居民生活负担，但没有增加居民财产性收入。

C 项错误，社会福利是指国家依法为所有公民普遍提供旨在保证一定生活水平和尽可能提高生活质量的资金和服务的社会保障制度。该举措不属于社会福利的内容。

D 项错误，社会救济也称为社会救助，社会救助是最先形成的、历史最悠久的社会保障形式。它是政府通过国民收入再分配，对因自然灾害或其他经济社会原因而无法维持最低生活水平的公民给予无偿帮助，以保障其最低生活水平。社会救助是保障社会成员生活安全和生存权利的“最后一道防线”。该举措不属于社会救助的内容。

故正确答案为 A。

9、本题考查政治常识。

A 项正确，深化社区党建联建，提高物业管理服务水平，推行“五方联动”工作机制，社区党组织定期召集联席会，共商问题等，体现了基层党组织的作用，有利于发挥党的组织优势，创新基层自治组织形式。

B 项错误，城市和农村按居民居住地区设立的居民委员会或者村民委员会是基层群众性自治组织。题干主要体现基层党组织的组织作用，没有体现自治组织的主导作用。

C 项错误，题干没有涉及到基层治理的制度保障。

D 项错误，题干没有涉及提高群众的自我管理能力。

故正确答案为 A。

10、本题考查政治常识。

A 项正确，2011 年 3 月 10 日，吴邦国委员长在十一届全国人大四次会议第二次全体会议上宣布：中国特色社会主义法律体系已经形成。至此，中国形成了以宪法为核心，以法律为主干，包括行政法规、地方性法规等规范性文件在内的，由七个法律部门、三个层次法律规范构成的法律体系。

B 项错误，二十大报告指出：“社会主义法治国家建设深入推进，全面依法治国总体格局基本形成，中国特色社会主义法治体系加快建设，司法体制改革取得重大进展，社会公平正义保障更为坚实，法治中国建设开创

新局面。”

C项错误，中国共产党是执政党，政府是行政机关，中国共产党应提高执政水平而非执法水平，行政执法部门应提高执法水平。

D项错误，二十大报告指出：“深化简政放权、放管结合、优化服务改革。构建全国统一大市场，深化要素市场化改革，建设高标准市场体系。”简政放权指精简政府机构，把经营管理权下放给企业。简政放权的主体应为政府，而非司法机关。

故正确答案为A。

11、本题考查经济常识。

财政政策是指国家根据一定时期政治、经济、社会发展的任务而规定的财政工作的指导原则，通过财政支出与财政收入政策来调节总需求。

货币政策是指中央银行为实现其特定的经济目标而采用的各种调节和控制货币供应量或信用量的方针和措施的总和。货币政策的三大工具为法定存款准备金率，公开市场业务和再贴现政策。

①项正确，税收属于财政政策的基本手段，“减税降费，退税停税”等方式属于积极的财政政策，能够减轻企业的负担，促进企业的自身发展，进而带动社会经济的发展。

②项错误，利率是指一定时期内利息额与借贷资金的比率，央行可以通过提高或降低利率，调节市场上的货币量，因此利率是货币政策工具。

③项正确，地方政府专项债券指省级政府为有一定收益的公益性项目发行的、以公益性项目对应的政府性基金收入或专项收入作为还本付息资金来源的政府债券，包括新增专项债券和再融资专项债券等。扩大地方政府专项债券规模和覆盖范围属于财政政策。

④项错误，“降准”是指央行通过降低准备金率，从而增加市场上货币总量的一种手段。“降息”是指央行下调存款利率，当银行利率变少后，储蓄者就会倾向于将钱从银行中取出来，从而会增加市场上的货币总量。“降准降息”均会增加市场上的货币量，属于扩张性货币政策。

故正确答案为B。

12、本题考查法律常识。

A、B项错误，C项正确，根据《反不正当竞争法》第八条规定：“经营者不得对其商品的性能、功能、质量、销售状况、用户评价、曾获荣誉等作虚假或者引人误解的商业宣传，欺骗、误导消费者。经营者不得通过组织虚假交易等方式，帮助其他经营者进行虚假或者引人误解的商业宣传。”由此可知，商家“好评返现”的行为，是通过虚假用户评价，侵害其他消费者的知情权，并非正当竞争行为，涉嫌虚假宣传。

D项错误，根据《反不正当竞争法》第六条规定：“经营者不得实施下列混淆行为，引人误认为是他人商品或者与他人存在特定联系：（一）擅自使用与他人有一定影响的商品名称、包装、装潢等相同或者近似的标识；（二）擅自使用他人有一定影响的企业名称（包括简称、字号等）、社会组织名称（包括简称等）、姓名（包括

笔名、艺名、译名等);(三)擅自使用他人有一定影响的域名主体部分、网站名称、网页等;(四)其他足以引人误认为是他人商品或者与他人存在特定联系的混淆行为。”由此可知,商家“好评返现”并非混淆行为。

故正确答案为C。

13、本题考查经济常识。

①项正确,区域协调发展战略以区域发展总体战略和主体功能区战略为基础,以逐步缩小区域差异、实现均衡高效发展为目标,强调在国民经济发展过程中,充分发挥各区域的比较优势,促进生产要素跨地区自由有序流动,区域之间形成合理分工、互动合作关系。东北三省通过资源共享,实现冰雪旅游一体化发展,这表明发展冰雪经济能促进区域协调发展。

②项正确,实体经济指一个国家生产的商品价值总量,是人通过思想使用工具在地球上创造的经济,始终是人类社会赖以生存和发展的基础。建设现代化经济体系,必须把发展经济的着力点放在实体经济上。“冰雪热”壮大了新型消费,带动了国内冰雪装备制造业的提质升级,说明发展冰雪经济能推动实体经济发展。

③项错误,国有经济,即社会主义全民所有制经济,是国民经济中的主导力量。国家保障国有经济的巩固和发展。发展冰雪经济并不能优化国有经济布局。

④项错误,社会供求平衡,即生产和需求的平衡。发展冰雪经济并不能实现社会供求平衡。

故正确答案为A。

14、本题考查政治常识。

A项错误,根据题干“……等模式,创新传承路径,非遗实现从‘活’起来到‘火’起来的跨越”可知,材料强调的是非遗的传承与发展中传承路径的创新,而非强调“需要挖掘其经济价值”,表述片面,排除。

B项错误,传承路径的创新丰富了非遗的表现形式,并未体现“丰富了传统文化的内涵”。

C项正确,根据题干“……等模式,创新传承路径,非遗实现从‘活’起来到‘火’起来的跨越”可知,非遗与经济、政治融合有助于非遗传承。

D项错误,材料并未谈及发展公益性文化事业;且发展公益性文化事业能够促进文化传承,但并非文化传承的根基。

故正确答案为C。

15、本题考查政治常识。

A项错误,根据题干可知,网络剧《我的阿勒泰》展示了阿勒泰的自然与生活风貌,北豫的人文民俗和牧民们的朴素坚毅,是整个中华民族的整体风貌和精神特征的部分体现。

B项错误,网络剧《我的阿勒泰》的成功表明该剧满足了市场需求,但题干并未体现融通不同资源。

C项错误,文化主体性是中华民族主体性的文化表征,是在推动文化发展过程中表现出来的具有自主性、能动性等的价值理念和存在状态,是有别于其他民族的鲜明文化特质和独特价值体系。文化主体性凸显出一个民族对自身文化的自觉意识和自信程度。网络剧《我的阿勒泰》对散文进行了创新的影视改编,体现了立足时

代之基，坚守中华民族的文化主体性，但并非该剧取得成功的重要原因。

D项正确，社会主义先进文化深深扎根于民族文化的沃土之中，反映中国人民意愿，适应时代发展进步要求，融合吸收了人类社会创造的一切优秀文明成果，有着深厚的历史渊源和广泛的现实基础。网络剧《我的阿勒泰》取得巨大成功的原因在于坚持以发展社会主义先进文化为标准进行创新，满足了市场需求，满足了群众的精神需求，反映中国人民的意愿。

故正确答案为D。

16、第一空，根据“顿号”可知，空处所填词语与“稳定器”构成同义并列关系，应体现稳定之意。B项“定盘星”是杆秤上的第一个星，把秤砣挂在这里正好能与秤盘重量平衡，侧重强调稳定全局的基础性作用，C项“压舱石”指空船时用以稳定重心的石头，比喻对事物起到稳定、平衡、保障作用的关键因素或力量，均符合文意，保留。A项“晴雨表”指能够及时反映出事物变化趋势的指示物，D项“新引擎”比喻推动事物向前发展的新动力或新机制，均无法体现“稳定”之意，与文意不符，排除。

第二空，根据“新兴产业与传统产业良性互动”可知，空处应表达新兴产业与传统产业共同推动新质生产力发展之意。C项“合力”指一起出力，符合文意，当选。B项“动力”比喻推动工作、事业等前进和发展的力量，无法体现出“共同”之意，与文意不符，排除。

故正确答案为C。

17、第一空，根据“使得”可知，空处所填词语为华夏文明注重自然环境保护的结果，且结合后文“生态文明建设的好才能吸引人才与投资入住，才是长远良性发展的举措”可知，该空应体现出华夏文明历经两千年依旧良性发展。A、B项“熠熠生辉”形容光彩闪耀，非常明亮，体现了文明的活力与魅力，符合文意，保留。C、D项“源远流长”形容历史悠久，侧重“时间久远”，与文意不符，排除。

第二空，根据“用赖以生存的生态换取短期资本”可知，空处应体现获得短期利益，失去生存基础之意。B项“得不偿失”指所得的利益抵不上所受损失，“得”对应“短期资本”，“失”对应“生态”，符合文意，当选。A项“竭泽而渔”比喻做事不留余地，只图眼前利益，不考虑长远后果，侧重强调行为的短视，虽然能体现行为的不正确，但不如“得不偿失”与文意对应更直接，对比择优，排除A项。

故正确答案为B。

18、第一空，根据“低温多雨”可知，空处所填词语应体现棉花生育进程受到负面影响之意。B、D项“推迟”指延迟，符合文意，保留。A、C项“提前”指时间前移，与文意相悖，排除。

第二空，根据“持续高温”可知，空处所填词语应体现对棉花生长有负面影响之意。B项“不利”与文意相符，当选。D项“有利”与文意相悖，排除。

第三空，代入验证，根据“但”可知，前后语义相反，秋季的气候条件对棉田的有利影响与转折前春夏季气候条件对棉田产生负面影响语义相反，符合文意。

第四空，代入验证，低产棉田逐步“调减”与后文“单产略有下降”对应，符合文意。

故正确答案为 B。

19、第一空，根据“顿号”可知，空白处所填成语与“视而不见”构成同义并列关系，应体现对网上热点不关心或故意忽略的态度。A项“无动于衷”指对事情毫无反应或漠不关心，D项“漠不关心”指对人或事一点儿也不关心，均符合文意，保留。B项“置若罔闻”指放在一边不管，好像没听见一样，C项“充耳不闻”形容不愿听取别人的意见，均侧重“听”，文段侧重“看”，与文段语境不符，排除。

第二空，与“哗众取宠”构成同义并列关系，体现主流媒体对待网上热点不应有的态度。A项“推波助澜”比喻促使或助长事物的发展，使扩大影响，符合文意，当选。D项“煽风点火”比喻鼓动别人做不好的事，侧重于挑起事端，与文意不符，排除。

第三空，代入验证，搭配“成效”，A项“检验”搭配得当，且与文意相符，当选。

故正确答案为 A。

20、横线出现在文段开头，起总领全文的作用，需要结合后文进行分析。后文论述税务干部在春耕时节走进农业企业生产现场，积极落实惠农税收优惠政策，助力农业企业生产开好头。故后文重在强调税务干部对农业企业春耕备耕生产的重视，对应D项“锄麦家家趁晚晴，筑陂处处待春耕”，指每家每户都利用傍晚晴朗的天气去锄麦，通过修建或维护水利设施来确保灌溉水源，为春耕生产做好准备。

A项，“晨出肆微勤，日入负禾还”指农民日出而作、日落而息的一般农作情景，未体现“春耕”，排除；

B项，“丰穰美报非无事，粒粒曾关圣主忧”指农业获得丰收的美好回报并非无缘无故，每一粒粮食都曾经关系着君主的忧虑，强调了农业丰收的成果来之不易，与“春耕”无关，排除；

C项，“布谷声初定，欣看麦已秋”描述的是麦收后的景象，与春耕时节不符，排除。

故正确答案为 D。

21、文段开篇通过下定义引出“红色文化”这一话题，紧接着指出马克思主义理论造就了红色文化的强大张力，尾句通过“需要”提出对策，即发挥红色文化的作用，让其激扬出文化自信的强大力量。故文段属于分总结构，重点在尾句，对应A项。

B项，“与马克思主义紧密联系”对应话题引入部分，非重点，排除；

C项，“中国共产党光荣历史的见证”文段未涉及，无中生有，排除；

D项，“构筑精神谱系”文段未涉及，无中生有，排除。

故正确答案为 A。

22、A项，根据“5月份全国规模以上工业增加值同比增长5.6%。九成地区、八成行业、近六成产品实现同比增长”可知，该项文段有提及，排除；

B项，文段未提及“转型升级态势向好”，当选；

C项，根据“5月份全国城镇调查失业率为5%，与上月持平，同比下降0.2个百分点”可知，该项文段有提及，排除；

D项，根据“5月社会消费品零售总额同比增长3.7%，较4月份回升1.4个百分点”可知，该项文段有提及，排除。

本题为选非题，故正确答案为B。

23、文段开篇通过论述影视作品和城市之间的关系紧密这一背景，引出“影视作品”和“城市”两个话题，接着通过《繁华》《我的阿勒泰》两部影视作品带火了上海、阿勒泰两座城市进行举例，论证影视作品对城市形象和文化的积极作用，最后又指出城市对影视创作的支持作用。故文段为分总结构，重点强调影视作品与城市之间相互促进，对应A项。

B项，只强调了影视作品对城市推广的作用，未体现出城市对影视创作的支持，表述片面，排除；

C项，未体现城市和影视创作的相互作用，且“爱上文旅”无中生有，排除；

D项，“建设城市一流影视制作基地”无中生有，排除。

故正确答案为A。

24、文段开篇指出我国正处于向金融强国迈进的关键期，紧接着通过“要”提出对策，即面对复杂金融风险 and 矛盾要稳中求进步，随后通过“前提”再次强调稳定的重要性，最后对如何稳定大局进行解释说明，故文段的重点强调稳中求进，对应C项。

A项，“诚实守信”无中生有，排除；

B项，“以义取利”指在追求经济利益的同时，也要注重道德和社会责任，“义”无中生有，排除；

D项，“守正创新”指在保持基本原则和价值观的基础上进行创新，“创新”无中生有，排除。

故正确答案为C。

25、对比选项，确定首句。⑤句指出人们将麦子扛走前的准备过程，无明显非首句特征，保留A、B项；⑦句“也”为关联词的后半部分，不适合作为首句，排除C、D项。

对比A、B项，⑤③后面分别跟④、①两句，⑤③在论述人们把所有的麦子清空麦场后计算斤数，露出笑容，④句指出月光铺满刚刚空旷的麦场，符合逻辑顺序，而①句论述离麦场近的人家，会在麦场席地而坐吃晚饭，故①句应在④句之后，A项当选。

故正确答案为A。

26、设购买足球和篮球数量分别为 x 和 y ，足球和篮球优惠后的价格分别为 $100 \times (1 - 25\%) = 75$ 元和 $120 \times (1 - 18\%) = 98.4$ 元。根据题意可得， $(100x + 120y) \times (1 - 21\%) = 75x + 98.4y$ ，解得 $x : y = 9 : 10$ 。

故正确答案为B。

27、设人口最少的区有 x 人，总人口是一定的， x 要尽量少的，说明其他区的人要尽量多的，根据题意可得最多为 $1.08x$ 人。将13个投票区的人口数全部相加为18.2万人，即 $x + 12 \times 1.08x = 18.2$ ，解得 $x \approx 13037$ 人。

故正确答案为D。

28、可将男孩和女孩理解为船，扶梯理解为水。男孩、女孩和扶梯都是自下而上，因此是顺水行船问题。

设自动扶梯每分钟自下而上走 a 级，根据 $S = (v_{船} + v_{水}) \times t$ ，可得 $(3 + a) \times 30 = (2 + a) \times 40$ ，解得 $a = 1$ ，则扶梯 $S = 120$ 级。

故正确答案为D。

29、本题情况复杂，考虑代入排除法。

A项，如小张6月15日学习专业课，则到8月14日过了 $15 + 31 + 14 = 60$ 天；6月16日学习高等数学，到8月15日过了 $14 + 31 + 15 = 60$ 天；6月17日学习外语，到8月16日过了 $13 + 31 + 16 = 60$ 天，60是4、5、6的公倍数，与题干条件相符，当选，无需验证B、C、D项。

故正确答案为A。

备注：本题如按照小张开始第一次学习是专业课、高等数学和外语一起学习的，则无正确选项，故小张只能是按照题干表述顺序，第一天学习专业课、第二天学习高等数学、第三天学习外语。

30、方法一：小王小赵随机入座，总情况数有 $A_{42}^2 = 42 \times 41$ 种。小王、小赵坐在同一排，应先从六排中选择一排，再从这一排中选出2个座位，则满足条件的情况数有 $C_6^1 \times A_7^2 = 6 \times 7 \times 6$ 种。故所求概率为 $\frac{6 \times 7 \times 6}{42 \times 41} = \frac{6}{41} \approx 14.6\%$ 。

方法二：小王随机选择一个座位入座，则小王可以选择的座位情况数有 $42 - 1 = 41$ 种。小赵和小王要坐在同一排，小王只需从小李那一排剩余6个座位中任选一个入座，则满足条件的情况数有6种。则所求概率为 $\frac{6}{41} \approx 14.6\%$ 。

故正确答案为A。

31、观察数列无明显特征，且作差、作和均无规律，考虑递推。观察可得 $1^2 + 1 = 2$ ， $2^2 + 2 = 6$ ， $6^2 + 1 = 37$ ， $37^2 + 2 = 1371$ ，则后一项=前一项²+修正项，修正项为1、2交替循环的周期数列，故所求项为 $1371^2 + 1$ ，尾数应为2。

故正确答案为B。

32、观察数列无明显特征，且作差、作和均无规律，考虑递推。观察可得 $(3 + 7) \times 2 = 20$ ， $(7 + 20) \times 2 = 54$ ， $(20 + 54) \times 2 = 148$ ，则(第一项+第二项) $\times 2 =$ 第三项，故所求项为 $(54 + 148) \times 2 = 404$ 。

故正确答案为A。

33、观察数列都含有根号，考虑把根号外的数移到根号下面，形成新数列： $\sqrt{3}$ ， $\sqrt{8}$ ， $\sqrt{24}$ ， $\sqrt{63}$ ， $\sqrt{143}$ ，()，根号下的数可转化为 $2^2 - 1$ ， $3^2 - 1$ ， $5^2 - 1$ ， $8^2 - 1$ ， $12^2 - 1$ ，()，是幂次数列且指数均

为 2, 修正项均为 -1, 底数为作差后得到 1, 2, 3, 4, (5), 则底数下一项为 17, 根号下的数下一项为 $17^2 - 1 = 288$, 故原数列所填项为 $\sqrt{288} = 12\sqrt{2}$ 。

故正确答案为 C。

34、数列无明显特征, 且非多级数列, 考虑递推数列。观察发现数列乘积关系明显: $\frac{128}{81} \times \frac{81}{2} = 64 = 8^2$, $\frac{81}{2} \times 8 = 324 = 18^2$, $8 \times 18 = 144 = 12^2$, 规律为 第一项 \times 第二项 = 第三项², 则所求项的平方 = $18 \times 12 = 216$, 故所求项为 $\sqrt{216} = 6\sqrt{6}$ 。

故正确答案为 D。

35、数列中每项均为大数字, 考虑机械划分。观察发现每一项的各位数之和均为 18, 只有 D 项符合该规律。

故正确答案为 D。

36、第一步: 判断题干词语间逻辑关系。

有的接力比赛是跑步比赛, 有的接力比赛不是跑步比赛, 如游泳接力, 有的跑步比赛是接力比赛, 有的跑步比赛不是接力比赛, 二者为交叉关系。

第二步: 判断选项词语间逻辑关系。

A 项: 行政人员是指不直接参与生产、销售、采购等一线作业的所有管理人员, 科研人员特指具备某一学科专业知识的而从事科学研究的高级知识分子, 二者为并列关系, 与题干逻辑关系不一致, 排除;

B 项: 美术展览是艺术展览, 二者为种属关系, 与题干逻辑关系不一致, 排除;

C 项: 5G 手机是指使用第五代通信系统的智能手机, 二者为种属关系, 与题干逻辑关系不一致, 排除;

D 项: 木质桌椅和办公桌椅分别体现了桌椅的材质和功能用途, 有的木质桌椅是办公桌椅, 有的木质桌椅不是办公桌椅, 有的办公桌椅是木质桌椅, 有的办公桌椅不是木质桌椅, 二者为交叉关系, 与题干逻辑关系一致, 当选。

故正确答案为 D。

37、第一步: 判断题干词语间逻辑关系。

千呼万唤形容再三催促, 成语被拆开, 考虑拆词。千呼和万唤都是指多次呼唤, 二者为近义关系。

第二步: 判断选项词语间逻辑关系。

A 项: 千家万户意思是指众多人家, 千家和万户都指很多户人家, 二者为近义关系, 与题干逻辑关系一致, 保留;

B 项: 三头六臂指三个脑袋, 六条胳膊, 原为佛家语, 指佛的法相, 后比喻神奇的本领, 三头和六臂为并列关系, 与题干逻辑关系不一致, 排除;

C 项: 一呼百应指一人召唤, 百人响应。形容响应附和的人众多, 先一呼, 后百应, 二者为时间先后对应

关系，与题干逻辑关系不一致，排除；

D项：千锤百炼比喻对诗文等反复琢磨、加工，也比喻经历了很多磨炼和考验，千锤和百炼均指多次磨炼，二者为近义关系，与题干逻辑关系一致，保留。

对比A、D项，家、户均为名词，千家万户构成数词+名词的偏正结构；锤、炼均为动词，千锤百炼构成数词+动词的偏正结构，题干中的呼、唤也均为动词，千呼万唤构成数词+动词的偏正结构，D项与题干逻辑关系更为一致。

故正确答案为D。

38、第一步：判断题干词语间逻辑关系。

眼霜和面霜是两种不同的护肤品，二者为并列关系，眼霜和面霜分别与护肤品构成种属关系。

第二步：判断选项词语间逻辑关系。

A项：金鱼和鲫鱼是两种不同的鱼类，二者为并列关系，但金鱼和鲫鱼都是淡水鱼，不是海鱼，二者分别与海鱼构成反向种属关系，与题干逻辑关系不一致，排除；

B项：大米和小米是两种不同的粮食，二者为并列关系，新米指当年新收获的稻谷，经脱壳、抛光等工艺加工出来的大米，大米和新米二者构成种属关系，小米和新米二者无明显逻辑关系，与题干逻辑关系不一致，排除；

C项：蔗糖和食盐是两种不同的调料，二者为并列关系，二者分别与调料构成种属关系，与题干逻辑关系一致，当选；

D项：中餐和西餐二者为并列关系，大餐指非常丰盛或比较正式的正餐，二者分别与大餐构成交叉关系，与题干逻辑关系不一致，排除。

故正确答案为C。

39、第一步：判断题干词语间逻辑关系。

暴雨是指降水强度很大的雨，细雨是指小雨，二者为降水量不同的两种天气，二者为并列关系中的反对关系；阵雨是指开始和终止都很突然、降水强度变化很大的雨，暴雨、细雨均与阵雨构成交叉关系。

第二步：判断选项词语间逻辑关系。

A项：白天和黑夜为一天中不同的时间段，且除了白天就是黑夜，二者为并列关系中的矛盾关系，与题干逻辑关系不一致，排除；

B项：颜色分为冷色系、暖色系、中色系，冷色和暖色为并列关系中的反对关系；深色指色彩纯度低的颜色，冷色、暖色均与构成交叉关系，与题干逻辑关系一致，当选；

C项：大树和小树为不同大小的树木，二者为并列关系，二者都是树林的组成部分，与树林分别构成组成关系，与题干逻辑关系不一致，排除；

D项：山鹰又称洁白雕、老雕，与老鹰构成并列关系，与题干逻辑关系不一致，排除。

故正确答案为 B。

40、逐一带入选项。

A 项：弹奏古筝，二者为动宾结构，行为会产生结果，二者为结果对应关系，前后逻辑关系不一致，排除；

B 项：古筝是一种乐器，二者为种属关系，偷窃是一种行为，二者为种属关系，前后逻辑关系一致，当选；

C 项：古筝可以用来演奏音乐，二者为工具对应关系，奖励是根据行为评定的一种结果，二者为依据对应关系，前后逻辑关系不一致，排除；

D 项：琴弦是古筝的组成部分，二者为组成关系，行为和动作，二者为近义关系，前后逻辑关系不一致，排除。

故正确答案为 B。

41、元素组成不同，且无明显属性规律，优先考虑数量规律。观察发现，题干图形线条交叉明显，考虑交点数，题干图形交点分别为：8、7、6、5、4，依次递减，故？处应选择交点数为 3 的图形，只有 A 项符合。

故正确答案为 A。

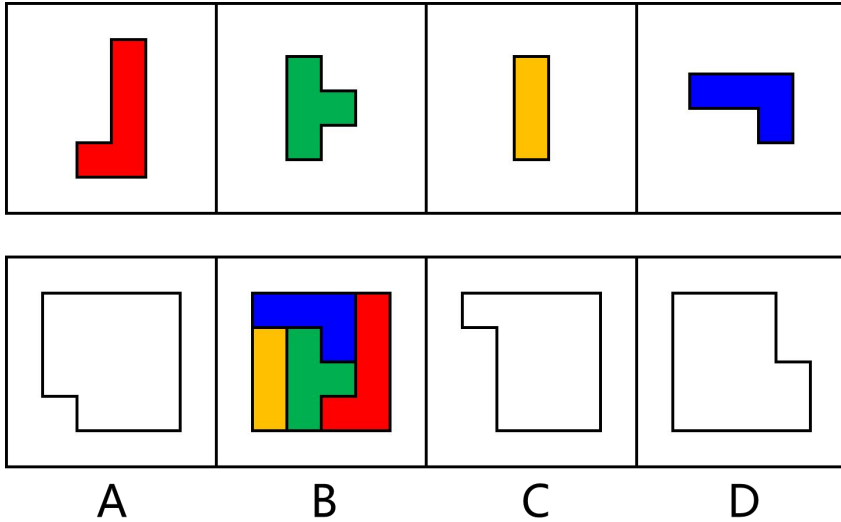
42、元素组成相似，优先考虑样式规律。相同线条重复出现，考虑加减同异。九宫格优先按行看，第一行图形中，图一和图二去同求异得到图三，第二行验证规律，第三行应用规律，故？处应选择由前两幅图去同求异所得到的图形，只有 C 项符合。

故正确答案为 C。

43、元素组成不同，优先考虑属性规律。观察发现，出现等腰元素，考虑对称性。九宫格优先按行看，第一行图形中，图一为竖轴对称图形，图二为轴+中心对称图形，图三为横轴对称图形，第二行符合规律，第三行应用规律，故？处应选一个只横轴对称的图形，排除 C、D 项。进一步观察发现，题干图形封闭面明显，考虑数面，第一行图形面数量为 2，第二行图形面数量为 3，第三行前两个图形面数量为 4，故？处应选择面数量为 4 的图形，只有 A 项符合。

故正确答案为 A。

44、本题考查平面拼合，具体拼合方法如下图所示：



故正确答案为 B。

45、思路一：

元素组成不同，且无明显属性规律，优先考虑数量规律。观察发现，题干图形的部分数为一部分、两部分依次交替出现，故？处应选择一个两部分的图形，只有 B 项符合。

故正确答案为 B。

思路二：

元素组成不同，且无明显属性规律，优先考虑数量规律。观察发现，题干图形中出现明显一笔画图形、日字形及其变形图，考虑笔画数。题干图形的笔画数为一笔画、两笔画依次交替出现，故？处应选择一个两笔画的图形，只有 B 项符合。

故正确答案为 B。

46、第一步：先确定逻辑关系最为明显的逻辑顺序。

观察题干，五个事件主要围绕“小王与朋友野餐过程中被蜱虫叮咬”展开论述。逻辑关系比较明显的是事件②和事件④，应该是小王与朋友先在郊外草地野餐，然后小王再打电话提醒朋友远离草丛注意蜱虫，因此事件②在事件④之前，排除 A、C 项。

第二步：逐一对照选项并判断正确答案。

根据第一步的结果可以判断 B、D 项符合，通过分析事件④和⑤可知，先看到女子被蜱虫叮咬后身亡的新闻，然后再打电话提醒朋友远离草丛注意蜱虫，故⑤应该在④之前，排除 B 项。

故正确答案为 D。

47、第一步：先确定逻辑关系最为明显的逻辑顺序。

观察题干，五个事件主要围绕“针对患者吐槽医院停车难的问题，医院采取的措施”展开论述。逻辑关系比较明显的是事件②和事件③，应该是停车难矛盾并未彻底解决，然后医院召开会议讨论如何腾出更多车位，因此事件②在事件③之前，排除 A、C 项。

第二步：逐一对照选项并判断正确答案。

根据第一步的结果可以判断 B、D 项符合，通过分析事件④和⑤可知，先院长带头坐地铁上下班鼓励医生让车位，然后再医院安排医生将车停在附近社会停车场，故⑤应该在④之前，排除 B 项。

故正确答案为 D。

48、第一步：确定逻辑关系最为明显的事件顺序。

观察题干，五个事件主要围绕“哈士奇误食无线耳机”的过程展开。逻辑关系的先后顺序比较明显的是事件①，事件①新买了一副无线耳机是整个事件的起因，应为首句，排除 B、D 项。

第二步：逐一对照选项并判断正确答案。

对比 A、C 项，分析事件③和事件⑤的顺序，发现哈士奇精神萎靡后应该立刻带去宠物医院，因此事件③和事件⑤应相连，排除 A 项。

故正确答案为 C。

49、第一步：确定逻辑关系最为明显的事件顺序。

观察题干，五个事件主要围绕“王教授完成科研项目”的过程展开。逻辑关系的先后顺序比较明显的是事件③，应该先确定科研方向，然后才能开展后续工作，因此事件③应为首句，排除 C、D 项。

第二步：逐一对照选项并判断正确答案。

对比 A、B 项，事件②发表论文应该是科研的成果，因此事件②在事件⑤和①后，排除 B 项。

故正确答案为 A。

50、第一步：确定逻辑关系最为明显的事件顺序。

观察题干，五个事件主要围绕“刘女士发现女儿买装备”展开。逻辑关系的先后顺序比较明显的是事件①和事件⑤，刘女士在发现一笔微信转账并非自己消费后，就会立刻查询转账去向，因此事件①和事件⑤应相连，排除 A、B 项。

第二步：逐一对照选项并判断正确答案。

对比 C、D 项，通过分析事件②和③可知，应该先有女儿承认买装备，再惩罚女儿三个月不能玩网络游戏，因此事件②应在事件③之前，排除 D 项。

故正确答案为 C。

51、第一步：找出定义关键词。

“治疗师利用音乐体验的各种形式”、“达到健康的目的”。

第二步：逐一分析选项。

A 项：小王听到病友推荐的怀旧歌曲后非常愉快，不符合“治疗师利用音乐体验的各种形式”，不符合定义，排除；

B 项：医生为精神紧张的小朱播放催眠音乐，符合“治疗师利用音乐体验的各种形式”，小朱放松很快入睡

符合“达到健康的目的”，符合定义，当选；

C项：病人听到心理咨询师播放的音乐后出现烦躁症状，不符合“达到健康的目的”，不符合定义，排除；

D项：小杨在网上下载白噪音，不符合“治疗师利用音乐体验的各种形式”，不符合定义，排除。

故正确答案为B。

52、第一步：找出定义关键词。

“一个普通市民或机构组织”、“通过现代数字科技与全球知识体系相联，并提供或分享他们的真实看法、自身新闻”。

第二步：逐一分析选项。

A项：老董浏览新闻，不符合“通过现代数字科技与全球知识体系相联，并提供或分享他们的真实看法、自身新闻”，不符合定义，当选；

B项：小周在微博与网友讨论股票走势，分享了自己的真实看法，符合“通过现代数字科技与全球知识体系相联，并提供或分享他们的真实看法、自身新闻”，符合定义，排除；

C项：小凡将拍摄的照片发给网友，分享了自身新闻，符合“通过现代数字科技与全球知识体系相联，并提供或分享他们的真实看法、自身新闻”，符合定义，排除；

D项：张教授将课程录像上传到网上，分享了自身的知识，符合“通过现代数字科技与全球知识体系相联，并提供或分享他们的真实看法、自身新闻”，符合定义，排除。

本题为选非题，故正确答案为A。

53、第一步：找出定义关键词。

“人们在不直接涉及对社会整体的义务和责任的私人生活和私人交往中应当遵循的道德准则”、“包括个人的生活习惯、行为风度、性格特点以及处理爱情、婚姻、家庭问题的道德”。

第二步：逐一分析选项。

A项：张老师和蔼可亲，是其个人的性格特点，符合“人们在不直接涉及对社会整体的义务和责任的私人生活和私人交往中应当遵循的道德准则”、“包括个人的生活习惯、行为风度、性格特点以及处理爱情、婚姻、家庭问题的道德”，符合定义，排除；

B项：小杨性格张扬喜欢穿戴各种新潮服饰，是其个人的生活习惯及性格特点，符合“人们在不直接涉及对社会整体的义务和责任的私人生活和私人交往中应当遵循的道德准则”、“包括个人的生活习惯、行为风度、性格特点以及处理爱情、婚姻、家庭问题的道德”，符合定义，排除；

C项：刘某遵纪守法，属于法律层面，不是道德准则，不符合“人们在不直接涉及对社会整体的义务和责任的私人生活和私人交往中应当遵循的道德准则”，不符合定义，当选；

D项：张医生被爆出婚内出轨，是个人处理爱情、婚姻、家庭问题的道德，符合“人们在不直接涉及对社会整体的义务和责任的私人生活和私人交往中应当遵循的道德准则”、“包括个人的生活习惯、行为风度、性格

特点以及处理爱情、婚姻、家庭问题的道德”，符合定义，排除。

本题为选非题，故正确答案为C。

54、第一步：找出定义关键词。

“为了反驳一个命题，首先假定它是真的，然后由它推出荒谬的结论，进而得出该判断是假的”。

第二步：逐一分析选项。

A项：由“一个东西占据与它自身相等的空间，那么它是静止的”得出“飞着的箭在任何瞬间都占据与自身相等的空间，所以飞着的箭是静止的”，符合“为了反驳一个命题，首先假定它是真的，然后由它推出荒谬的结论，进而得出该判断是假的”，符合定义，当选；

B项：由“著名的科学家都没有指出这个证明有错”，得出“这个证明肯定正确”，该推理过程即无法证明其错误就认定其为真，不符合“为了反驳一个命题，首先假定它是真的，然后由它推出荒谬的结论，进而得出该判断是假的”，不符合定义，排除；

C项：由“甲是内向的且是中国人”，得出“中国人是内向的”，即通过某个体的情况得出了一个一般性结论，不符合“为了反驳一个命题，首先假定它是真的，然后由它推出荒谬的结论，进而得出该判断是假的”，不符合定义，排除；

D项：由“要想长寿，吃多足的不如吃无足的”，得出“吃蚯蚓的鸡未必比吃昆虫的鸡长寿”，推理后得出的结论是不确定的，不知道是否荒谬，不符合“为了反驳一个命题，首先假定它是真的，然后由它推出荒谬的结论，进而得出该判断是假的”，不符合定义，排除。

故正确答案为A。

55、第一步：找出定义关键词。

“通过特定的场景、人物或环境来唤醒或产生特定的记忆或感觉”。

第二步：逐一分析选项。

A项：小李每每听到《甜蜜蜜》这首歌，就会想到和初恋一起度过的美好时光，符合“通过特定的场景、人物或环境来唤醒或产生特定的记忆或感觉”，符合定义，排除；

B项：小张看到某品牌的标志就会想到它的高品质，并购买该商品，符合“通过特定的场景、人物或环境来唤醒或产生特定的记忆或感觉”，符合定义，排除；

C项：小刘每次闻到咖啡的香味都会感到心情愉悦，符合“通过特定的场景、人物或环境来唤醒或产生特定的记忆或感觉”，符合定义，排除；

D项：想象着远在家乡的父母也会遇到好心人，不是记忆也不是感觉，不符合“通过特定的场景、人物或环境来唤醒或产生特定的记忆或感觉”，不符合定义，当选。

本题为选非题，故正确答案为D。

56、第一步：找出论点和论据。

论点：草甘膦对大黄蜂育雏的影响主要是种内大黄蜂的传粉行为。

论据：大黄蜂种群通过活跃的产热维持其在高温下的育雏，这是种群生存和繁殖的先决条件。昆虫学家研究发现长期暴露于草甘膦的大黄蜂种群在高温下育雏的能力显著下降，但草甘膦对大黄蜂产热的影响微乎其微。

第二步：逐一分析选项。

A项：选项说明研究历时三年，观察的大黄蜂样本数量十分庞大，证明论据是可靠的，可以加强，保留；

B项：选项说明大黄蜂产热的频繁程度对其育雏能力具有显著影响，与论点草甘膦对大黄蜂育雏的影响无关，无法加强，排除；

C项：选项说明是否接触草甘膦对大黄蜂的产热频繁程度并无影响，说明草甘膦对大黄蜂产热所以草甘膦对大黄蜂育雏的影响主要是种内大黄蜂的传粉行为，可以加强，保留；

D项：选项说明生物学家们得出的研究结论皆基于严谨的科学实验，证明论据是可靠的，可以加强，保留。

对比A、C、D项，A项和D项均加强论据中实验的科学性，而C项解释得到实验结论的原因加强，C项与实验主题关联更强，力度最强，当选。

故正确答案为C。

57、第一步：找出论点和论据。

论点：政府需要加大对绿化工程投入，以提升市民的健康水平。

论据：城市绿化面积的增加与市民的健康水平正相关。

第二步：逐一分析选项。

A项：选项说明提升市民健康水平是政府工作目标之一，如果提升市民健康水平不是政府的工作目标，则政府并不需要加大对绿化工程投入，证明该项是论点成立的必要条件，可以加强，当选；

B项：选项说明市民的健康水平主要受生活环境的影响，生活环境和绿化环境话题不一致，无法加强，排除；

C项：选项说明绿化工程是提升市民健康水平的最有效手段，绿化工程只要能够提升市民健康水平，哪怕不是最有效，政府也需要为了提升市民的健康水平，加大对绿化工程投入，不是论点成立的必要前提，排除；

D项：选项说明增加城市绿化面积对市民健康的促进作用具有持续性，论点讨论的是为了提升市民的健康水平政府需要加大对绿化工程投入，没有涉及促进作用是否有持续性，不是论点成立的必要前提，排除。

故正确答案为A。

58、第一步：翻译题干。

喜欢乒乓球且体育学院学生→喜欢游泳。

第二步：逐一分析选项。

A项：翻译为：喜欢乒乓球且喜欢游泳→体育学院的学生，喜欢游泳是对题干的肯后，肯后无必然结论，无法推出，排除；

B项：翻译为：体育学院的学生且喜欢游泳 \rightarrow 喜欢打乒乓球，喜欢游泳是对题干的肯后，肯后无必然结论，无法推出，排除；

C项：翻译为： \neg 乒乓球且 \neg 游泳 \rightarrow \neg 体育学院的学生， \neg 游泳是对题干的否后，否后必否前，得到 \neg 乒乓球或 \neg 体育学院学生， \neg 乒乓球是对或关系的肯一，肯一得不到必然结论，无法推出，排除；

D项：翻译为：喜欢打乒乓球且 \neg 游泳 \rightarrow \neg 体育学院的学生， \neg 游泳是对题干的否后，否后必否前，得到 \neg 乒乓球或 \neg 体育学院学生，根据或关系否一推一，喜欢打乒乓球推出 \neg 体育学院学生，可以推出，当选。

故正确答案为D。

59、第一步：分析题干。

①每人只能扮演其中一个，且每个角色只能由其中一人扮演；

② \neg 甲贾宝玉 \rightarrow 乙林黛玉；

③丙袭人或己袭人 \rightarrow 丁贾母；

④ \neg 乙林黛玉 \rightarrow 丙袭人；

⑤ \neg 丁紫鹃 \rightarrow 丙贾宝玉。

第二步：根据题干条件分析选项。

题干提到丙的次数最多，故优先对丙进行假设。根据条件③，假设丙扮演袭人，可以推出丁扮演贾母，结合条件①和⑤，可知丁不扮演紫鹃，是对⑤的肯前，肯前必肯后，推出丙扮演贾宝玉，该结论与假设情况冲突，故丙不能扮演袭人，结合条件④，否后必否前，推出乙扮演林黛玉，只有B项符合。

故正确答案为B。

60、第一步：分析题干。

①每人只能扮演其中一个，且每个角色只能由其中一人扮演；

② \neg 甲贾宝玉 \rightarrow 乙林黛玉；

③丙袭人或己袭人 \rightarrow 丁贾母；

④ \neg 乙林黛玉 \rightarrow 丙袭人；

⑤ \neg 丁紫鹃 \rightarrow 丙贾宝玉；

⑥甲贾宝玉且庚王熙凤。

第二步：根据题干条件分析选项。

从确定信息⑥入手，结合条件①，甲扮演贾宝玉是对⑤否后，否后必否前，推出丁扮演紫鹃，丁扮演紫鹃是对条件③的否后，可知丙不扮演袭人且己不扮演袭人，丙不扮演袭人是对④的否后，推出乙扮演林黛玉；已知庚扮演王熙凤，此时甲、乙、丙、丁、己、庚五人均不扮演袭人，故戊扮演袭人，只有D项符合。

故正确答案为D。

61、根据题干“2022年...为（ ）万吨”，结合材料时间2023年，可判定本题为基期计算问题。

定位材料第一段可知，2023 年夏粮产量 26.9 万吨，增长 6.8%，秋粮产量 68.2 万吨，增长 1.5%。根据公式：

基期量 = $\frac{\text{现期量}}{1+r}$ ，可得粮食总产量为 $\frac{26.9}{1+6.8\%} + \frac{68.2}{1+1.5\%} \approx \frac{26.9}{1.07} + \frac{68.2}{1.02} \approx 25.14 + 66.86 = 92$ 万吨，D 项最为接近。

故正确答案为 D。

62、根据题干“2023 年该市牛羊禽肉产量比 2022 年”，选项增长/下降了...%，可判定本题为一般增长率问题。定位材料第一段可知，2023 年猪牛羊禽肉产量 2.4 万吨，比上年增长 31.5%，其中猪肉产量 2.2 万吨，

比上年增长 40.0%。2022 年猪牛羊禽肉产量为 $\frac{2.4}{1+31.5\%} \approx 1.83$ 万吨，猪肉产量为 $\frac{2.2}{1+40\%} \approx 1.57$ 万吨，则牛羊禽肉产量为 $1.83 - 1.57 = 0.26$ 万吨。2023 年牛羊禽肉产量同比增长率为 $\frac{0.2 - 0.26}{0.26} \approx -23.1\%$ ，即下降了约 23.1%，与 B 项最为接近。

故正确答案为 B。

63、根据题干“2023 年前六大主导行业产值增长率”，结合材料中关于规模以上工业总产值的信息为现期比重以及两期比重差值，可判定本题为两期比重问题。定位第二段可知，2023 年前六大主导行业实现产值

28940.3 亿元，占规模以上工业总产值比重为 65.3% ($\frac{A}{B}$)，比上年提高 0.7 个百分点（两期比重差值）；全年规模以上工业总产值比上年增长 3.6% (b)。

方法一：根据公式： $\text{两期比重差值} = \frac{A}{B} \times \frac{a-b}{1+a}$ ，可列 $0.7\% = 65.3\% \times \frac{a-3.6\%}{1+a}$ ，故 2023 年前六大主导行业产值增长率 (a) = $\frac{0.7\% + 65.3\% \times 3.6\%}{65.3\% - 0.7\%} \approx \frac{0.7\% + 65.3\% \times 3.6\%}{64.6\%} \approx \frac{3.04\%}{65\%} \approx 4.7\%$ 。

方法二：若满足 $A = B \times C$ ，根据乘积增长率可得 $r_A = r_B + r_C + r_B \times r_C$ 。前六大主导行业产值占规模以上工业总产值的比重增长率为 $\frac{0.7\%}{65.3\% - 0.7\%} \approx 1.1\%$ ，因 $r_{\text{前六大主导行业}} = r_{\text{规模以上工业总产值}} \times r_{\text{比重}}$ ，则 $r_{\text{前六大主导行业}} = 1.1\% + 3.6\% + 1.1\% \times 3.6\% \approx 4.7\%$ 。

故正确答案为 C。

64、根据题干“2022 年...与...比为...”，材料时间为 2023 年，可判定本题为基期倍数。定位第三段可知，2023 年城镇常住居民人均可支配收入 82989 元 (A)，增长 4.3% (a)；农村常住居民人均可支配收入 46385

元 (B)，增长 5.9% (b)。根据公式： $\text{基期倍数} = \frac{A}{B} \times \frac{1+b}{1+a}$ ，可得 2022 年该市城镇常住居民与农村常住居民的人均可支配收入比 = $\frac{82989}{46385} \times \frac{1+5.9\%}{1+4.3\%} \approx \frac{83000}{46400} \times \frac{1.06}{1.04} \approx 1.82$ ，即比例为 1.82:1。

故正确答案为 B。

65、根据题干“2023 年...较上一年增加了...元”，可判定题目所求为增长量。定位材料可得，2023 年农村常住居民人均消费支出 31609 元，比上年增长 10.0%。根据公式： $\text{增长量} = \frac{\text{现期量}}{1+r} \times r$ ，可得 2023 年该

市农村居民人均消费支出较上一年增加了 $\frac{31609}{1+10\%} \times 10\% = \frac{31609}{1+\frac{1}{10}} \times \frac{1}{10} = \frac{31609}{1+10} = \frac{31609}{11} \approx 2874$ 元。

故正确答案为 A。