



2024年4月21日四川省事业单位联考《综合知识》
试题

永岸公考网校

www.chinaexam.org

2024年4月21日四川省事业单位联考《综合知识》试题

一、判断题。判断下列说法的正误。

- 1、全面建设社会主义现代化国家，最广泛最深厚的基础依然在农村。（ ）
- 2、当前党的思想建设的根本任务是用马克思列宁主义武装全党。（ ）
- 3、2024年全国两会期间，李强总理在《政府工作报告》中提出了2024年国内生产总值增长5.5%左右的预期目标。（ ）
- 4、衡量文化产业发展质量和水平，不是看经济效益，而是看能不能提供更多既能满足人民文化需求，又能增强人民精神力量的文化产品。（ ）
- 5、当前，经济工作要坚持稳中求进，谨慎出台收缩性抑制性举措，多出有利于稳预期、稳增长、稳就业的政策。（ ）
- 6、2024年，中央一号文件要求抓好粮食和重要农产品生产，确保粮食产量保持在1.3万亿斤以上。（ ）
- 7、对于公民的申诉、控告或者检举，有关国家机关必须查清事实，负责处理。（ ）
- 8、全国人民代表大会常务委员会行使修改宪法的职权。（ ）
- 9、王某驾驶摩托车与边走路边看手机的张某发生了碰撞，未保护现场也未报警就驾车离去，致使事故基本事实无法查清。王某应承担事故全部责任。（ ）
- 10、行政处罚法与治安管理处罚法是一般法与特别法的关系。（ ）
- 11、甲、乙系某工厂工人，两人发生口角，甲持车间里的扳手将乙打成轻微伤。甲应被治安处罚，打人工具扳手应被收缴。（ ）
- 12、贾某牵着狗在路上行走，恰遇仇人刘某，贾某即唆使狗扑咬刘某。刘某边抵挡边冲到贾某面前，拾起石头将贾某头部砸成轻伤。刘某的行为属于紧急避险。（ ）
- 13、搬运场司机苏某，某日在搬运场驾车作业时违反操作规范，不慎将另一职工压死。苏某的行为构成交通肇事罪。（ ）
- 14、颠覆国家政权罪、分裂国家罪、间谍罪等危害国家安全罪，在追究刑事责任时应当附加剥夺政治权利。（ ）
- 15、户籍所在地为广安市的李某，到成都市住院治疗已经2年。根据我国民事法律规定，李某的住所应为成都市。（ ）
- 16、周某已经去世52年。根据我国著作权法规定，周某生前设计的工程图，其发表权已过保护期。（ ）
- 17、当事人未提出诉讼时效抗辩的，法院可以主动适用诉讼时效的规定进行裁判。（ ）
- 18、甲、乙系兄弟，父母双亡，甲有一子，乙未婚未育。某日，甲、乙同车探亲途中遇车祸死亡，死亡先后时间无法确定。根据我国法律规定，应推定乙先于甲死亡。（ ）
- 19、康某将自己的汽车借给邹某使用，某日邹某酒后驾驶该车撞伤了石某。石某的损失应由康某和邹某负

连带责任。()

20、根据公文处理方式，xx 镇人民政府收到的《xx 县人民政府关于做好 2024 年全市重点项目工作的通知》属于阅知性公文。()

21、xx 大学心理学院组织师生赴 xx 中学开展心理健康咨询活动，为此该中学特撰写慰问信表示谢意。该专用书信的文种选用错误。()

22、通过党政机关公文交换内网发布的电子公文，不具备与纸质公文同等效力。()

23、xx 市公安局制发的关于警情通报的紧急公文，应当在版心左上角标注紧急程度。()

24、xx 县人民政府就改革优化营商环境等工作向该市人民政府制发的报告，可由该县人民政府办公室主任签发。()

25、xx 市教育局基础教育科可以向辖区内各县（区）中小学制发关于校园安全教育的公文。()

26、xx 省人力资源和社会保障厅制发的机密级公文，其保密最长期限为 10 年。()

27、某事业单位工作人员包某因严重违反单位工作纪律，被单位给予警告处分。包某对该处理结果表示不服，可以向单位所在地仲裁机构申请仲裁。()

28、某事业单位可以采取直接考核的方式对具有高级专业技术职称的人员进行招聘。()

29、在中国古代社会常有“大灾之年不抑价”的说法，是因为当地粮食价格高，会吸引商人把其他地方粮食运过来，商人间的竞争会导致粮食价格下降。()

30、提高微观经济主体活力是保证经济健康良性循环运行的基础，我国现阶段微观经济主体包括企业、农户、居民和政府。()

31、目前，重金属与农药残留是我国农业土壤主要污染物，通过增施有机肥可增加土壤对重金属与农药的吸附，降低土壤污染物危害。()

32、基因组编辑能够精准地改造生物基因组 DNA，实现单一或多个性状的改良。()

33、当前我国新能源汽车所使用的燃料电池，主要采用氢气作为燃料。()

34、生态系统的三大功能是能量流动、物质循环和信息传递。()

35、北朝以来将佛经刻于石上称为石经，摩崖石经指刻在石柱上藏于洞中的石经。()

36、我国古代数学著作《周髀算经》中记载了用勾股定理来进行的天文运算。()

37、“儿童散学归来早，忙趁东风放纸鸢”描写的是小满时节的景象。()

38、第 33 届夏季奥林匹克运动会将于 2024 年在法国巴黎举行。()

39、我国首部专门性的未成年人网络保护综合立法《未成年人网络保护条例》自 2024 年 1 月 1 日起正式施行。()

40、2023 年，四川省油菜籽产量、生猪出栏量均居全国第一。()

二、单项选择题。每小题后的四个备选答案中只有一个最符合题意的答案。

41、习近平总书记在二十届中共中央政治局第十一次集体学习时强调，要加快发展新质生产力，扎实推进高质量发展。下列关于新质生产力的说法，错误的是（ ）。

- A、由技术革命性突破、生产要素创新性配置、产业深度转型升级而催生
- B、以劳动者、劳动资料、劳动对象及其优化组合的跃升为基本内涵
- C、以全要素生产率大幅提升为核心标志
- D、具有高科技、高效能、高速度特征

42、党的二十大报告强调，要善于通过历史看现实、透过现象看本质，把握好全局和局部、当前和长远、宏观和微观、主要矛盾和次要矛盾、特殊和一般的关系，不断提高思维能力，为前瞻性思考、全局性谋划、整体性推进党和国家各项事业提供科学思想方法。这表明，不断推进党的理论创新，必须坚持（ ）。

- A、自信自立
- B、守正创新
- C、问题导向
- D、系统观念

43、党的二十大报告提出，协商民主是实践全过程人民民主的重要形式。全面发展协商民主，完善协商民主体系，除了要统筹推进政党协商、人大协商、政府协商、政协协商外，还要统筹推进（ ）。

- ①司法协商
- ②人民团体协商
- ③基层协商
- ④社会组织协商

- A、①②③
- B、①②④
- C、①③④
- D、②③④

44、2024年1月8日，习近平总书记在中国共产党第二十届中央纪律检查委员会第三次全体会议上发表重要讲话，明确提出深入推进党的自我革命实践的战略目标是（ ）。

- A、解决大党独有难题
- B、跳出历史周期率
- C、引领伟大社会革命
- D、坚持党中央集中统一领导

45、2024年2月29日，习近平总书记在中共中央政治局第十二次集体学习时指出，我国能源发展仍面临需求压力巨大、供给制约较多、绿色低碳转型任务艰巨等一系列挑战。应对这些挑战，出路就是（ ）。

- A、大力发展新能源
- B、实施全面节约战略
- C、加强能源储备体系建设
- D、加大化石能源进口力度

46、关于我国目前在全球的经济地位，下列说法错误的是（ ）。

- A、制造业第一大国
- B、货物贸易第一大国
- C、消费市场第一大国
- D、外汇储备第一大国

47、2024年全国两会结束不久，习近平总书记赴湖南考察并主持召开新时代推动中部地区崛起座谈会。下列关于中部6省的说法，错误的是（ ）。

- A、约占全国十分之一的国土面积
- B、是我国重要综合交通运输枢纽
- C、创造着约全国四分之一的经济总量
- D、是我国现代装备制造及高技术产业的重要基地

48、2023年12月8日，四川省委、省政府出台意见，支持（ ）打造具有国际竞争力的中国绿色硅谷、享誉全球的世界重要旅游目的地、全省重要的区域交通物流枢纽。

- A、成都
- B、绵阳
- C、宜宾
- D、乐山

49、根据我国宪法，下列关于国家机构的说法，错误的是（ ）。

- A、中央军事委员会领导和管理国防建设事业
- B、中央人民政府是最高国家权力机关的执行机关
- C、总理召集和主持国务院常务会议和国务院全体会议
- D、地方各级监察委员会对产生它的国家权力机关和上一级监察委员会负责

50、根据我国道路交通安全法、下列关于道路通行的说法，正确的是（ ）。

- A、城市道路的人行道，都应当设置盲道
- B、交通信号包括交通信号灯、交通标志、交通标线和交通警察的指挥
- C、因工程建设需要占用、挖掘道路，征得道路主管部门同意后即可开始施工
- D、公安机关交通管理部门发现已经投入使用的道路配套设施存在交通安全严重隐患的，应当立即决定禁止

道路通行

51、下列关于违反治安管理的行为，说法正确的是（ ）。

- A、甲 13 岁，盗窃超市 500 元商品，应当被治安处罚
- B、乙 15 岁，诈骗同学 2000 元现金，不应对其作出行政拘留的处罚决定
- C、丙在铁路线下挖洞取沙，没有对列车造成即时危险，不应被治安处罚
- D、丁主动投案，向公安机关如实陈述自己吸毒的违法行为，应减轻处罚或者不予处罚

52、甲因占道经营被城市管理执法人员处理过，后多次醉酒到城管执法大队对执法人员进行拦截、辱骂。

工作人员劝其回家，他反而拨打政府热线投诉工作人员乱作为不准其申诉。甲的治安违法行为应定性为（ ）。

- A、辱骂他人
- B、诬告陷害他人
- C、扰乱单位秩序
- D、扰乱公共秩序

53、国家机关工作人员刘某将上级拨付的教育资金 100 万元，挪用于炒股。刚好碰上股市大跌，损失严重。

刘某眼看无法按原计划归还资金，就将手中的股票全部抛出，携款潜逃。刘某的行为构成（ ）。

- A、贪污罪
- B、挪用特定款物罪
- C、挪用公款罪
- D、挪用资金罪

54、孙某与同事李某有矛盾，经常吵架。某日，李某到公安机关举报孙某有抢劫他人财物的犯罪事实。经

查实，李某的举报纯属编造。李某的行为应定性为（ ）。

- A、诽谤罪
- B、不构成犯罪
- C、报复陷害罪
- D、诬告陷害罪

55、夏某将正在使用的河道中放置航标灯的小船偷偷拖回家作它用。所幸航标灯灭失的情况被及时发现，

避免了过往船只出现重大事故。夏某的行为应定性为（ ）。

- A、盗窃罪
- B、破坏交通设施罪
- C、破坏交通工具罪
- D、不构成犯罪

56、万某借用张某的身份证办手机卡，给张某 2000 元报酬，张某未接受。后万某用该手机卡上网发表某学

校领导涉嫌贪污受贿的虚假贴文 20 条，被点击、浏览 6000 余次。关于本案，下列说法正确的是（ ）。

- A、万某的行为构成诽谤罪
- B、张某没有接受报酬，不构成犯罪
- C、万某与张某构成诽谤罪的共同犯罪
- D、本案应该由公安机关主动立案侦查

57、陈某意外拾得一张交通警察警官证，于是将警官证上的照片换成自己的照片。后陈某来到一偏僻路段，先后向 6 名驾车超速行驶的司机出示警官证，共收取罚款 1200 余元。陈某的行为构成（ ）。

- A、诈骗罪
- B、敲诈勒索罪
- C、招摇撞骗罪
- D、盗窃罪

58、廖某与妻子多年感情不和。某日，廖某将毒药投入妻子饭碗中随即外出，不久后心生悔意，急忙回家准备送妻救治，不料妻子早被邻居送医救治并脱离生命危险。廖某的行为属于（ ）。

- A、犯罪预备
- B、犯罪中止
- C、犯罪未遂
- D、犯罪既遂

59、钟某因下落不明被法院依法宣告死亡，其财产被继承人继承，孩子被他人依法收养，妻子改嫁他人，后又离婚。6 年后，钟某又回到住所地，法院根据钟某的申请撤销了对他的死亡宣告。关于本案，下列说法正确的是（ ）。

- A、钟某有权要求取得其遗产的人返还遗产
- B、钟某之子与他人的收养关系立即解除
- C、钟某与妻子的婚姻关系自行恢复
- D、撤销死亡宣告的申请只能由钟某的近亲属向法院提出

60、钱某是某公司的销售人员，随身携带盖有该公司公章的空白合同书，便于对外签约。后钱某因收受回扣被公司开除，但空白合同书未被该公司收回。钱某以此合同书与甲企业签订了购销协议。该协议（ ）。

- A、有效
- B、无效
- C、可撤销
- D、效力待定

61、黄某将摄有其结婚仪式的彩色胶卷底片交给某彩扩店冲印，并预交了冲印费。黄某于约定日期去取相

片，彩扩店告知：因失火，其相片连同底片均被焚毁。黄某非常痛苦，诉至法院。关于本案，下列说法错误的是（ ）。

- A、彩扩店侵害了黄某的肖像权
- B、彩扩店的行为构成违约行为和侵权行为
- C、彩扩店应当赔偿胶卷费并返还冲印费
- D、黄某可以请求彩扩店给予其精神损害赔偿

62、赵某、严某结婚多年，后因赵某沉迷网络游戏，双方协议离婚，按约定，严某分得了家庭大部分财产。离婚后不久，严某发现赵某在婚姻关系存续期间私自购买了两处房产并登记在赵某名下，于是起诉赵某，要求再次分割房产并要求赵某承担损害赔偿责任。关于本案，下列说法正确的是（ ）。

- A、严某有权要求赵某承担损害赔偿责任
- B、法院应当将两处房产都判给严某
- C、请求分割房产的诉讼时效，为严某发现赵某的隐藏财产行为之日起3年
- D、若法院判决严某分得房产，则严某在判决宣布之日即取得房屋所有权

63、陈某死后遗有一张8千元的存折、一台电脑和一些旧家具。陈甲、陈乙和陈丙是陈某的三个儿子，经协商，陈甲继承了家具，陈乙继承了电脑，陈丙继承了存折。四个月後，郭某向陈乙出示了自己将电脑借给陈某的借条，陈乙将电脑还给了郭某。关于本案，下列说法正确的是（ ）。

- A、陈甲、陈丙构成不当得利
- B、陈甲、陈丙应按照所得遗产的比例向陈乙进行补偿
- C、分遗产时三人已经协商一致，陈乙应自己承担损失
- D、由于遗产已经分配完毕，郭某不能要回电脑

64、甲公司铺设管道，在路中挖一深坑，设置了路障和警示标志。乙驾车撞倒了路障和警示标志，恰逢丙此时骑摩托车路经该地，因避让不及而驶向人行道，造成了行人丁轻伤。丁的损失应（ ）。

- A、由乙承担赔偿责任
- B、由甲和乙共同承担赔偿责任
- C、由乙和丙共同承担赔偿责任
- D、由甲、乙、丙共同承担赔偿责任

65、xx市人民医院就2024年度医疗设备采购项目公开招标拟制发公文，该公文应选用的文种是（ ）。

- A、通知
- B、通报
- C、通告
- D、公告

66、下列公文的行文方式属于越级行文的是（ ）。

- A、xx 县人民政府就辖区内发生特大交通事故向该省人民政府行文
- B、xx 市农业农村局就土地征收补偿资金事宜向该市财政局行文
- C、xx 市人民政府就经济技术开发区招商事宜向该省人民政府行文
- D、xx 省人民政府就地质灾害防治工作向辖区内各市、县（区）人民政府行文

67、2024 年 3 月 12 日，xx 市人民政府办公室就调整市政府部分领导工作分工撰写通知，3 月 14 日市长王 xx 签发该通知。下列关于该通知的说法，正确的是（ ）。

- A、应当标注份号
- B、属于发布性通知
- C、成文日期为 2024 年 3 月 12 日
- D、可以采用信函格式制文

68、下列属于商洽性公文的是（ ）。

- A、《xx 县人民政府关于公布行政规范性文件清理结果的决定》
- B、《xx 大学文学院关于购买党员活动室配置的请示》
- C、《xx 市第一中学关于送教送培的函》
- D、《xx 县人民政府征收土地的公告》

69、下列关于命令的说法，错误的是（ ）。

- A、是一种具有强制执行效力的指挥性公文
- B、撤销下级机关不适当的决议应使用命令
- C、《xx 市人民政府森林防火戒严令》属于行政令
- D、xx 市财政局不能使用命令行文

70、xx 市民政局就解决辖区内 xx 儿童福利院多功能活动厅建设经费事宜撰写请示。下列关于该请示的说法，正确的是（ ）。

- A、公文版头部分不标注签发人姓名
- B、为了尽快解决资金问题，主送机关可以是 xx 省人民政府
- C、结语可用“特此请示，请予审批”
- D、可以抄送给辖区内各县（区）民政局

71、下列属于公文专用词语中综述转接用语的是（ ）。

- A、根据
- B、现将
- C、为此

D、已悉

72、下列关于事业单位工勤技能岗位人事管理的说法，错误的是（ ）。

- A、工勤技能岗位包括高级工岗位、中级工岗位和初级工岗位
- B、对于应聘工勤岗位的人员，可根据需要重点进行实际操作能力测试
- C、已经实现社会化服务的一般性劳务工作，不再设置相应的工勤技能岗位
- D、工勤技能人员受到记过以上处分的，在受处分期间不得参加工勤技能人员技术等级考试

73、朱某 2023 年的全部收入包括：在一家企业上班所得工资收入 6 万元；银行存款利息收入 0.4 万元；业余时间送同城快递收入 1.2 万元；房屋出租收入 1.8 万元。朱某 2023 年的财产性收入为（ ）。

- A、2.2 万元
- B、3.0 万元
- C、3.4 万元
- D、7.2 万元

74、社会主义和市场经济的关系，是社会主义经济理论和实践发展的一个重大问题。下列对社会主义市场经济体制的理解，错误的是（ ）。

- A、市场调节作为资源配置手段本身不具备制度属性
- B、要坚持“有效的市场”和“无为的政府”有机结合
- C、资本具有逐利本性，要依法规范和引导资本健康发展
- D、要建设统一开放、竞争有序、制度完备、治理完善的高标准市场体系


75、构造消费者价格指数时要考虑一揽子商品和服务的价格，每种商品和服务都有在指数中的权重，而决定此权重的是（ ）。

- A、该项目在国民经济中的重要性
- B、国家税收体系中该项目的税率
- C、消费者在该项目上的支出比例
- D、该项目在产业链中与上下游产业的关联程度

76、公共财政的主要职能不包括（ ）。


- A、实现社会资源的有效配置
- B、促进社会收入公平
- C、稳定宏观经济运行
- D、弥补政府支出的不足

77、一位集邮爱好者在集邮册中设置了一个科技专题，但由于疏忽导致其中一张邮票与说明不对应。下列邮票与说明对应错误的是（ ）。



纪念尿素分子的发现

A、



纪念门捷列夫

B、



纪念我国石油提炼工业的建立

C、



纪念DNA结构模型的建立

D、

78、下列关于自然现象的说法，错误的是（ ）。

- A、风是由太阳辐射热引起的
- B、彩虹的形成与光的折射和反射有关
- C、海啸是由强烈的热带气旋所引起的
- D、雷电一般发生在对流旺盛的积雨云中

79、5G 网络又称为第五代移动通信网络，是推动我国数字经济发展的新引擎，相较于 4G 网络，下列关于 5G 网络商用的说法，错误的是（ ）。

- A、5G 网络的低延时性将突破无人驾驶、VR 技术的发展瓶颈
- B、5G 网络的高速传输峰值意味着不久将取代 Wifi 技术
- C、5G 网络更有利于高清视频、虚拟现实等大数据量传输

D、覆盖同样面积的区域，5G 网络需要更多数量的基站

80、下列古代著名战役和成语典故对应错误的是（ ）。

A、长平之战——草木皆兵

B、巨鹿之战——破釜沉舟

C、赤壁之战——草船借箭

D、淝水之战——风声鹤唳

81、下列关于中国画的说法，正确的是（ ）。

A、题材主要为人物画、山水画和花鸟画

B、“扬州八怪”是指明朝时期在江苏扬州出现的八个代表画家

C、代表画家画作有顾恺之《洛神赋图》、吴道子《落霞孤鹜图》

D、唐寅以诗境作画，其山水画成为中国画由宗教化而转入文学化的里程碑

82、脸谱是戏曲人物性格图案化的直接表达。下列京剧脸谱颜色代表的性格和传统剧目的人物对应错误的是（ ）。

A、红色脸——忠义耿直——《华容道》关羽

B、白色脸——奸诈多疑——《打严嵩》严嵩

C、黑色脸——公正无私——《铡美案》包拯

D、金色脸——刚直勇猛——《盗御马》窦尔敦

83、下列发生在四川省的事件，按照时间先后顺序排列正确的是（ ）。

①西昌卫星发射中心首次成功发射

②成昆铁路全线建成通车

③黄龙、九寨沟被列入世界自然遗产名录

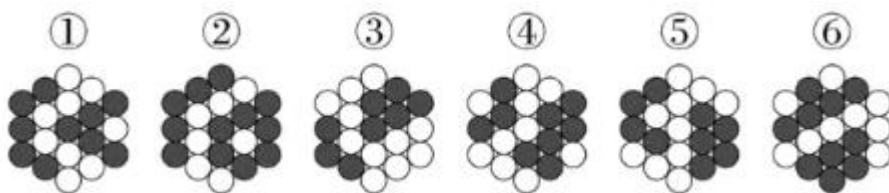
A、①③②

B、②①③

C、②③①

D、③②①

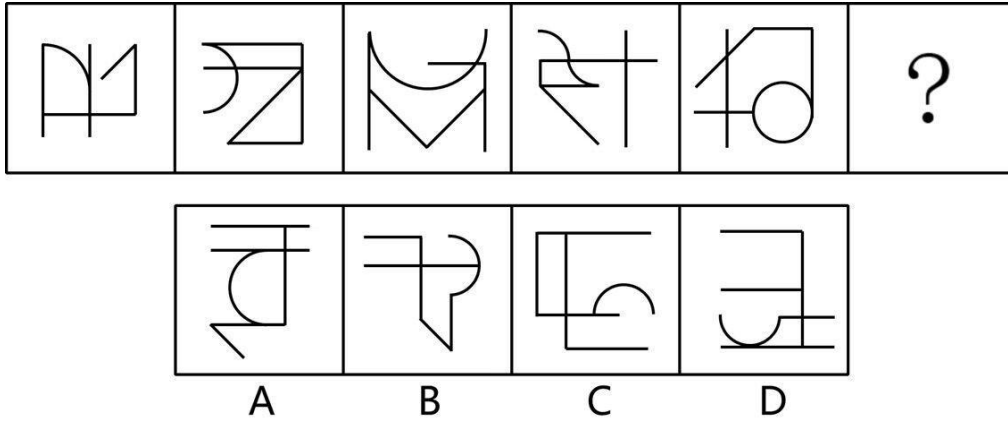
84、下面的六个图形分为两类，使每一类图形都有各自的共同特征或规律，分类正确的一项是（ ）。



A、①②⑥，③④⑤

- B、①③④，②⑤⑥
- C、①⑤⑥，②③④
- D、①②④，③⑤⑥

85、从所给的四个选项中，选择最合适的一个填入问号处，使之呈现一定的规律性（ ）。



- A、A
- B、B
- C、C
- D、D

86、某村计划聘用若干名工人将采摘的枇杷装箱。已知工人 9:00 开始工作之前已经积压了一批枇杷未装箱，且在装箱过程中仍以固定的速度采摘新的枇杷。如聘用 5 名或 10 名工人则分别在 14:00 或 11:00 正好可以将剩余的枇杷全部装箱完毕。现要求 10:00 将剩余的枇杷全部装箱完毕，至少要聘用多少名工人？（ ）

- A、17
- B、18
- C、19
- D、20

87、将两个完全相同的圆锥体零件粘合为一个整体之后，表面积是原来单个圆锥体表面积的 1.5 倍。问单个圆锥体的高是底面半径的（ ）。

- A、不到 2 倍
- B、2~2.5 倍之间
- C、2.5~3 倍之间
- D、3 倍以上

88、陈某和王某分别乘坐两列相向匀速行驶的火车甲和乙。两车相遇期间，陈某从侧面正对乙车车头到正对乙车车尾共用时 3.2 秒；王某从侧面正对甲车车头到正对甲车车尾共用时 4 秒。则甲车的长度比乙车（ ）。

- A、长 20%

- B、长 25%
- C、短 20%
- D、短 25%

89、集团总部将 1 名博士研究生、3 名硕士研究生和 4 名本科生分配给三个基层单位，每个单位最多分配 3 人，其中至少包含 1 名研究生，且博士研究生所在的基层单位分配的全为研究生。问有多少种不同的分配方式？

()

- A、21
- B、56
- C、70
- D、108

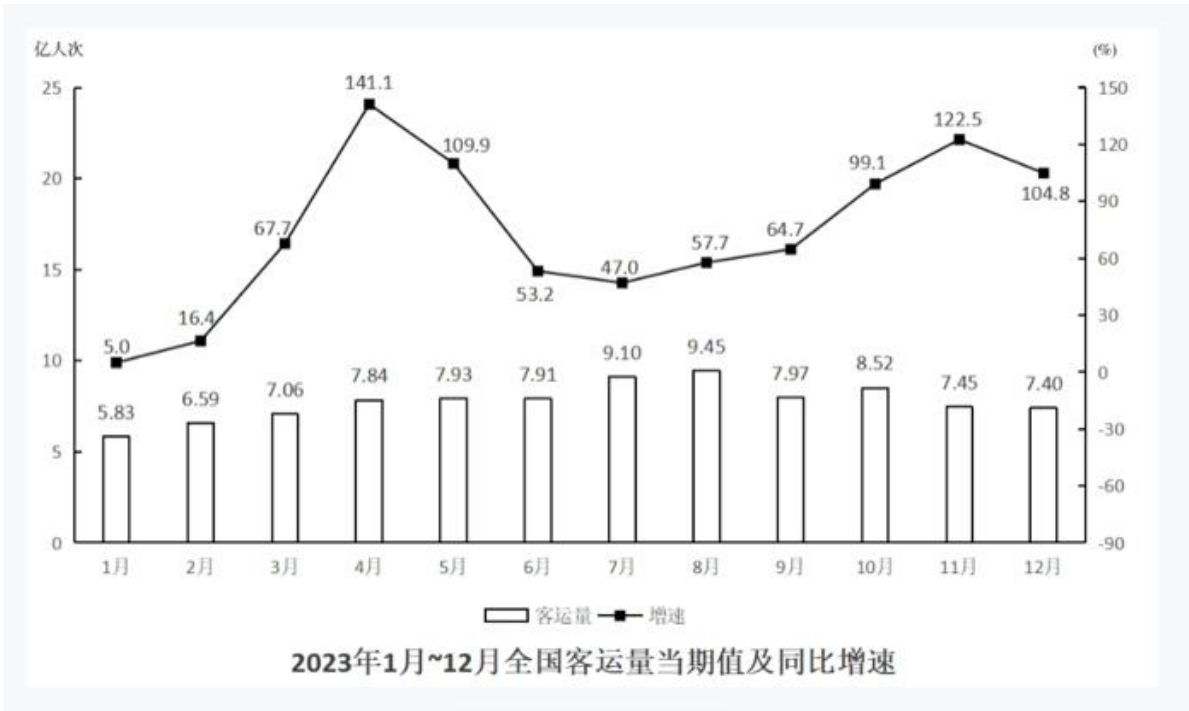
90、某商品原价销售 30 件的利润与打九折销售 40 件的利润相同，打八折销售 100 件的收入与每件减价 50 元销售 90 件的收入相同。问如打七折销售，实现 1 万元利润至少要卖多少件？()

- A、不到 200 件
- B、200~225 件之间
- C、226~250 件之间
- D、超过 250 件

(一)

2023 年，旅客运输平均运距为 307.63 公里。旅客运输平均运距指报告期内平均每一位旅客的旅行距离，计算公式为：旅客运输平均运距=旅客周转量/客运量。

		2019年	2020年	2021年	2022年	2023年
客运量 (亿人次)	总体	176.04	96.65	83.03	55.87	93.00
	铁路	36.60	22.03	26.12	16.73	38.50
	公路	130.12	68.94	50.87	35.46	45.70
	水运	2.73	1.50	1.63	1.16	2.60
	民航	6.60	4.18	4.41	2.52	6.20
旅客周转量 (亿人公里)	总体	35349.24	19251.46	19758.15	12921.54	28609.60
	铁路	14706.64	8266.19	9567.81	6577.53	14729.40
	公路	8857.08	4641.01	3627.54	2407.54	3517.60
	水运	80.22	32.99	33.11	22.60	53.80
	民航	11705.30	6311.28	6529.68	3913.87	10308.80



91、2023年2月-2023年12月，全国客运量当期值环比增量超过0.5亿人次的月份有几个？（ ）

- A、2
- B、3
- C、4
- D、5

92、2023年水运旅客运输平均运距与上年相比（ ）。

- A、增加了不到10公里
- B、增加了10公里以上
- C、减少了不到10公里
- D、减少了10公里以上

93、2023年铁路客运量占旅客运输量的比重比上年（ ）。

- A、高不到5个百分点
- B、高5个百分点以上
- C、低不到5个百分点
- D、低5个百分点以上

94、将4种运输方式按2023年旅客周转量同比增速从高到低排序，最高的是（ ）。

- A、铁路
- B、公路
- C、水运

D、民航

95、能够从上述资料中推出的是（ ）。

- A、截至 2023 年 5 月，全国客运量累计超过 40 亿人次
- B、2023 年 8 月，全国客运量当期值的环比增速快于上月水平
- C、2023 年，铁路旅客周转量是公路旅客周转量的 4 倍以上
- D、2019 年~2023 年，每年公路旅客运输平均运距均超过 70 公里

三、多项选择题。每小题后的四个备选答案中有两个或两个以上符合题意的答案。

96、习近平总书记指出：“改革开放是前无古人的崭新事业，必须坚持正确的方法论，在不断实践探索中推进。”全面深化改革要坚持的正确方法论有（ ）。

- A、增强全面深化改革的系统性、整体性、协同性
- B、加强顶层设计和摸着石头过河相结合
- C、统筹改革发展稳定
- D、坚持重大改革于法有据

97、2023 年 7 月，习近平总书记来川视察时对四川作出战略擘画，赋予四川的使命任务包括（ ）。

- A、打造西部地区创新高地
- B、打造保障国家重要科技产品供给战略基地
- C、构筑向西开放战略高地和参与国际竞争新基地
- D、筑牢维护国家生态安全的战略屏障

98、生态保护补偿是指通过一定的机制对按照规定或者约定开展生态保护的单位和个人予以补偿的激励性制度安排。依据《生态保护补偿条例》，生态保护补偿的机制包括（ ）。

- A、财政纵向补偿
- B、地区间横向补偿
- C、生态产业发展基金补偿
- D、市场机制补偿

99、甲、乙二人的车辆停放在某停车场相邻车位，甲开车门时不小心磕碰到了乙的车。乙要求甲赔偿车辆修复费用 500 元，甲不同意，双方发生争吵报警。关于本案，下列说法正确的有（ ）。

- A、甲磕碰乙车应承担民事责任
- B、甲造成乙损失的行为应被治安处罚
- C、公安机关可以对甲乙双方纠纷调解
- D、乙可以向甲提起民事诉讼要求赔偿损失

100、甲、乙二人以劫财为目的将丙杀死，当场取得现金 2000 元。随后从丙身上的名片得知其是某公司总

经理，即给丙妻子打电话，声称丙被他们绑架，丁必须拿 10 万元现金赎人，否则杀死丙。丁报警，甲、乙被抓。关于甲、乙行为的定性，说法正确的有（ ）。

- A、甲、乙将丙杀害，当场取得现金 2000 元的行为，构成故意杀人罪
- B、甲、乙将丙杀害，当场取得现金 2000 元的行为，构成抢劫罪
- C、甲、乙打电话向丁索取 10 万元现金的行为，构成绑架罪
- D、甲、乙打电话向丁索取 10 万元现金的行为，构成敲诈勒索罪

101、下列情形中，权利人可以行使留置权的有（ ）。

- A、吴某将秦某的行李放在车站小件寄存处，后秦某取行李时认为寄存费过高而拒绝支付，寄存处可留置该行李
- B、甲公司为乙公司加工机器零件，加工完成后发现乙公司尚欠本公司其他借款，甲公司可以留置已加工好的机器零件
- C、汪某为刘某送货，约定货物送到后一周内支付运费，汪某在货物运到后立刻要求刘某支付运费被拒绝，汪某可以留置部分货物
- D、徐某是某公司的总经理，公司为其配备了一辆轿车供上下班使用。后徐某辞职，由于公司欠徐某工资，他可以对该轿车行使留置权

102、xx 市公安局发布关于 110 报警服务台网络设备升级改造的通告。下列关于该通告的说法，正确的有（ ）。

- A、属于公布性公文
- B、属于规定性通告
- C、行文方向为平行文
- D、无须写主送对象

103、下列属于公务信息文书的有（ ）。

- A、《致全校教职工慰问信》
- B、《推荐 xx 市科学技术奖候选项目公示》
- C、《关于 xx 省高校毕业生就业心态的调查报告》
- D、《xx 大学人文学院 2023 年普通话推广周工作简报》

104、在宏观经济调控中，政府常常采用货币政策。下列选项中，属于扩张的货币政策的有（ ）。

- A、政府降低商业银行的法定准备金率
- B、政府降低商业银行向企业的贷款利率
- C、政府或央行回收市场中的货币
- D、政府提高个人所得税起征点

105、2024年2月8日，四川省委一号文件提出要学习运用“千村示范、万村整治”工程经验，在推进乡村振兴上全面发力。文件主要内容可以概括为：一条主线、两条底线、三个重点、四项保障。下列说法正确的有（ ）。

- A、一条主线是学习运用“千万工程”经验、在推进乡村振兴上全面发力
- B、两条底线是确保粮食安全、确保不发生规模性返贫
- C、三个重点是发展乡村产业促进农民增收、推进宜居宜业和美乡村建设、深化农业农村改革
- D、四项保障即组织保障、投入保障、人才保障、用地保障

四、案例分析题。每小题至少有一个选项是正确的，错选、多选、少选均不得分。

(二)

王某系某县副县长，担任县某项目招标工作委员会主任。商人李某、覃某明知自己竞标资格不够，为了能顺利中标，决定向王某送现金20万元，请求王某在招标时进行关照。害怕直接给王某送钱被拒绝，二人决定给王某的妻子邓某（家庭主妇）送钱，请邓某代为转达自己的诉求。邓某收钱后把二人的诉求告诉了王某。王某告诫邓某：“今后这些事情你少掺和，不要给我惹麻烦”，便没有作其他表示。在评标时，王某对其他评标人员说：“李某、覃某的标书可以优先考虑一下。”后李某、覃某顺利中标该项目。在该项目施工过程中，不断暴露出质量问题，王某感到害怕，主动到有关部门投案并交待了上述事实。司法机关调查邓某时，邓某也如实交待了上述事实。李某、覃某也被司法机关依法追究刑事责任。

106、关于王某、邓某、李某、覃某行为的定性，下列说法正确的有（ ）。

- A、王某系国家工作人员，利用职务上的便利为他人谋利，收受贿赂，构成受贿罪
- B、邓某不具有国家工作人员身份，收受财物后利用丈夫王某的职权为他人谋利，构成利用影响力受贿罪
- C、邓某虽然不具有国家工作人员身份，但仍构成受贿罪
- D、李某、覃某为谋取非法利益而向他人行贿，构成行贿罪

107、关于本案，下列说法正确的有（ ）。

- A、王某、邓某属于共同犯罪，应按共同犯罪相关规定处罚
- B、王某主动投案行为成立自首，可以从轻或者减轻处罚
- C、邓某如实交待犯罪事实属于坦白，可以从轻处罚
- D、李某、覃某行贿数额巨大，所以不适用缓刑

(三)

甲公司和乙公司订立了买卖健身器材的合同。按照合同约定，甲公司须于2023年6月9日之前交付一半货物，于2023年7月8日之前，交付全部货物。乙公司应当在收到甲公司交付的健身器材之后3日内付款。第一批健身器材与货款的交付均依合同约定进行。2023年7月3日，甲公司查询发现乙公司的银行账户因未能履行法院生效判决已经被冻结。据此，甲公司便向乙公司提示了所查询的情况，通知乙公司将中止履行合同，剩余

的健身器材不再交付，并要求乙公司提前支付全部货款否则将解除合同。

108、为使甲公司必须继续履行合同，乙公司可以采取的措施有（ ）。

- A、先行支付全部货款
- B、寻找第三人为乙公司向甲公司提供保证
- C、以乙公司办公楼为甲公司的债权设定抵押担保
- D、以书面形式请求甲公司继续履行合同

109、在收到甲公司的通知后，若乙公司的状况没有发生改变，也未采取任何措施。下列说法正确的有（ ）。

- A、乙公司将被视为拒绝履行剩余债务
- B、甲公司中止履行合同，将不承担违约责任
- C、甲公司可以撤销合同，并要求乙公司承担违约责任
- D、甲公司可以解除合同，并要求乙公司承担违约责任

（四）

xx 县人民政府、xx 县人民武装部

关于表彰 2023 年征兵工作表现突出单位和个人的决定

各乡镇人民政府、武装部，县级有关部门：

在 2023 年征兵工作中，全县各级、各单位认真贯彻执行 xx 市人民政府、xx 军分区《2023 年征兵命令》和县政府、县委、县人武部关于征兵工作的安排部署，圆满完成了年度征兵任务。经县政府、县人武部研究，决定对县政府办等 9 个征兵工作表现突出单位和周 xx 等 11 个表现突出个人予以表扬。

希望受表扬的单位和个人再接再厉，努力进取，在今年工作中取得更大更优异成绩。各单位要积极向先进看齐，学习榜样，扎实工作，为我国军队现代化建设作出新的贡献。

xx 县人民政府

2024 年 3 月 1 日

110、下列关于该公文的说法，正确的有（ ）。

- A、文种使用得当
- B、行文方向为下行文
- C、用语严谨准确、无错别字
- D、开头采用概述情况的方式

111、下列关于该公文格式的说法，正确的有（ ）。

- A、公文标题撰写正确
- B、主送机关撰写正确
- C、缺少附件说明

D、发文机关署名正确

参考答案

1、本题考查中国特色社会主义理论体系。

2021年中央一号文件指出:全面建设社会主义现代化国家,实现中华民族伟大复兴,最艰巨最繁重的任务依然在农村,最广泛最深厚的基础依然在农村。

故表述正确。

2、本题考查每月时政模拟题。

二十大报告指出,用党的创新理论武装全党是党的思想建设的根本任务。全面加强党的思想建设,坚持用新时代中国特色社会主义思想统一思想、统一意志、统一行动,组织实施党的创新理论学习教育计划,建设马克思主义学习型政党。

故表述错误。

3、本题考查时政真题。

2024年全国两会期间,李强总理在《政府工作报告》中提出2024年发展主要预期目标是:国内生产总值增长5%左右;城镇新增就业1200万人以上,城镇调查失业率5.5%左右;居民消费价格涨幅3%左右;居民收入增长和经济增长同步;国际收支保持基本平衡;粮食产量1.3万亿斤以上;单位国内生产总值能耗降低2.5%左右,生态环境质量持续改善。

故表述错误。

4、本题考查中国特色社会主义理论体系。

2020年9月22日,习近平在教育文化卫生体育领域专家代表座谈会上的讲话指出:衡量文化产业发展质量和水平,最重要的不是看经济效益,而是看能不能提供更多既能满足人民文化需求、又能增强人民精神力量的文化产品。要坚持把社会效益放在首位、社会效益和经济效益相统一,深化文化体制改革,完善文化产业规划和政策,不断扩大优质文化产品供给。

故表述正确。

5、本题考查时政真题。

2024年全国两会期间,李强总理在《政府工作报告》中提出:按照中央经济工作会议部署,坚持稳中求进工作总基调……我们要坚持稳中求进、以进促稳、先立后破。稳是大局和基础,各地区各部门要多出有利于稳预期、稳增长、稳就业的政策,谨慎出台收缩性抑制性举措,清理和废止有悖于高质量发展的政策规定。

故表述正确。

6、本题考查时政真题。

2024年,中央一号文件指出:抓好粮食和重要农产品生产。扎实推进新一轮千亿斤粮食产能提升行动。稳定粮食播种面积,把粮食增产的重心放到大面积提高单产上,确保粮食产量保持在1.3万亿斤以上。

故表述正确。

7、本题考查宪法。

根据《宪法》第四十一条第二款规定：“对于公民的申诉、控告或者检举，有关国家机关必须查清事实，负责处理。任何人不得压制和打击报复。”

故表述正确。

8、本题考查宪法。

根据《宪法》第六十二条规定：“全国人民代表大会行使下列职权：（一）修改宪法；……”因此，修改宪法是全国人民代表大会的职权，而非全国人民代表大会常务委员会的职权。

故表述错误。

9、本题考查其他法。

根据《道路交通安全法》第六十二条规定：“行人通过路口或者横过道路，应当走人行横道或者过街设施；通过有交通信号灯的人行横道，应当按照交通信号灯指示通行；通过没有交通信号灯、人行横道的路口，或者在没有过街设施的路段横过道路，应当在确认安全后通过。”《道路交通安全法实施条例》第九十二条规定：“发生交通事故后当事人逃逸的，逃逸的当事人承担全部责任。但是，有证据证明对方当事人也有过错的，可以减轻责任。当事人故意破坏、伪造现场、毁灭证据的，承担全部责任。”本题中，王某驾驶摩托车与行人张某发生碰撞后逃逸，但因行人张某违反通行规定“边走路边看手机”，没有及时确认通行安全，本身存在过错，因此对逃逸人王某可以减轻责任。

故表述错误。

10、本题考查行政法。

按照法的效力范围不同，可将法划为一般法和特别法：一般法是指对一般的人和事在不特别限定地区和期间内有效的法律。特别法是对特定的人和事，在特定的地区、时间内有效的法律。我国的《行政处罚法》是国家关于设定和实施行政处罚法律规范的总称，所有调整行政处罚设定和实施中发生的社会关系的法律规范都属于行政处罚法的范畴。《治安管理处罚法》是公安机关对违反了治安管理秩序的行政相对人进行惩戒的部门行政法。二者是一般法与特别法的关系。

故表述正确。

11、本题考查行政法。

根据《治安管理处罚法》第四十三条第一款规定：“殴打他人的，或者故意伤害他人身体的，处五日以上十日以下拘留，并处二百元以上五百元以下罚款；情节较轻的，处五日以下拘留或者五百元以下罚款。”《治安管理处罚法》第十一条规定：“办理治安案件所查获的毒品、淫秽物品等违禁品，赌具、赌资，吸食、注射毒品的用具以及直接用于实施违反治安管理行为的本人所有的工具，应当收缴，按照规定处理。”本题中，甲因与乙发生口角将乙打成轻微伤，甲应被治安处罚。但是，甲持车间里的扳手将乙打伤，该扳手并非违法者甲本人所有，

不应被收缴。

故表述错误。

12、本题考查刑法。

根据《刑法》第二十条规定：“为了使国家、公共利益、本人或者他人的人身、财产和其他权利免受正在进行的不法侵害，而采取的制止不法侵害的行为，对不法侵害人造成损害的，属于正当防卫，不负刑事责任。”本题中，贾某故意制造不法侵害，唆使自己的狗扑咬仇人刘某，刘某为制止该不法侵害，将贾某头部砸成轻伤，刘某的行为构成正当防卫。

故表述错误。

13、本题考查刑法。

根据《刑法》第一百三十三条关于交通肇事罪的规定：“违反交通运输管理法规，因而发生重大事故，致人重伤、死亡或者使公私财产遭受重大损失的，处三年以下有期徒刑或者拘役；交通运输肇事后逃逸或者有其他特别恶劣情节的，处三年以上七年以下有期徒刑；因逃逸致人死亡的，处七年以上有期徒刑。”《刑法》第一百三十四条关于重大责任事故罪的规定：“在生产、作业中违反有关安全管理的规定，因而发生重大伤亡事故或者造成其他严重后果的，处三年以下有期徒刑或者拘役；情节特别恶劣的，处三年以上七年以下有期徒刑。”本题中，苏某并非违反交通运输管理法规因而发生重大事故致人死亡，而是在搬运场驾车作业时因违反操作规范而发生重事故造成另一职工死亡，构成重大责任事故罪，而非交通肇事罪。

故表述错误。

14、本题考查刑法。

根据《刑法》第五十六条第一款规定：“对于危害国家安全的犯罪分子应当附加剥夺政治权利；对于故意杀人、强奸、放火、爆炸、投毒、抢劫等严重破坏社会秩序的犯罪分子，可以附加剥夺政治权利。”

故表述正确。

15、本题考查民法典。

根据《民法典》第二十五条规定：“自然人以户籍登记或者其他有效身份登记记载的居所为住所；经常居所与住所不一致的，经常居所视为住所。”又根据《最高人民法院关于适用〈中华人民共和国民事诉讼法〉的解释》第四条规定：“公民的经常居住地是指公民离开住所地至起诉时已连续居住一年以上的地方，但公民住院就医的地方除外。”本题中，李某的户籍地在广安市，虽然在成都市已经2年，但却是为了住院就医，因此，李某的住所应为广安市。

故表述错误。

16、本题考查知识产权。

根据《著作权法》第二十三条第一款规定：“自然人的作品，其发表权、本法第十条第一款第五项至第十七项规定的权利的保护期为作者终生及其死亡后五十年，截止于作者死亡后第五十年的12月31日；如果是合作

作品，截止于最后死亡的作者死亡后第五十年的12月31日。”本题中，周某已经去世52年，因此，其生前设计的工程图的发表权已过保护期。

故表述正确。

17、本题考查民法典。

根据《民法典》第一百九十三条规定：“人民法院不得主动适用诉讼时效的规定。”因此，当事人未提出诉讼时效抗辩的，法院不得主动适用诉讼时效的规定进行裁判。

故表述错误。

18、本题考查民法典。

根据《民法典》第一千一百二十一条规定：“继承从被继承人死亡时开始。相互有继承关系的数人在同一事件中死亡，难以确定死亡时间的，推定没有其他继承人的人先死亡。都有其他继承人，辈份不同的，推定长辈先死亡；辈份相同的，推定同时死亡，相互不发生继承。”本题中，甲、乙相互有继承关系，在同一事件中死亡，难以确定死亡时间，甲有继承人，而乙无其他继承人，因此，推定乙先于甲死亡。

故表述正确。

19、本题考查民法典。

根据《民法典》第一千二百零九条规定：“因租赁、借用等情形机动车所有人、管理人与使用人不是同一人时，发生交通事故造成损害，属于该机动车一方责任的，由机动车使用人承担赔偿责任；机动车所有人、管理人对损害的发生有过错的，承担相应的赔偿责任。”本题中，康某将自己的汽车借给邹某使用，邹某酒后驾车撞伤石某，属于机动车一方责任，因此，由机动车使用人即邹某承担赔偿责任，假使机动车所有人康某对损害的发生有过错，也是承担相应的赔偿责任，而非由康某和邹某负连带责任。

故表述错误。

20、本题考查公文的基本知识。

接收文机关对收到公文的处理方式划分可将公文划分为阅知性公文和承办性公文：阅知性公文，指只需按规定交有关部门、有关人员阅知的收文；承办性公文，指必须交有关部门、有关人员及时办理（或答复、或贯彻执行）的收文。

《xx县人民政府关于做好2024年全市重点项目工作的通知》需交有关部门、有关人员及时办理、贯彻执行，因此属于承办性公文。

故表述错误。

21、本题考查公文的基本知识。

慰问信是表示向对方（一般是同级、或上级对下级单位、个人）关怀、慰问的信函。它是有关机关或者个人，以组织或个人的名义在他人处于特殊的情况下（如战争、自然灾害、事故），或在节假日，向对方表示问候、关心的应用文。感谢信是重要的礼仪文书，是向帮助、关心和支持过自己的集体（党政机关、企事业单位、社

会团体等)或个人表示感谢的专业书信。xx 大学心理学院组织师生赴 xx 中学开展心理健康咨询活动,该中学选用的文种应为感谢信。

故表述正确。

22、本题考查公文的基本知识。

电子公文与相同内容的纸质公文具有同等法定效力。电子公文的处理应当符合公文处理的有关规定。

故表述错误。

23、本题考查公文的基本知识。

根据《党政机关公文格式》7.2.3 规定:“如需标注紧急程度,一般用 3 号黑体字,顶格编排在版心左上角。”

xx 市公安局制发的关于警情通报的紧急公文,应当在版心左上角标注紧急程度。

故表述正确。

24、本题考查公文的基本知识。

《党政机关公文处理工作条例》第二十二条规定:“公文应当经本机关负责人审批签发。重要公文和上行文由机关主要负责人签发。”xx 县人民政府就改革优化营商环境等工作向该市人民政府制发的报告为上行文,因此应当由 xx 县人民政府主要负责人即县长签发。

故表述错误。

25、本题考查公文的基本知识。

《党政机关公文处理工作条例》第十七条规定:“部门内设机构除办公厅(室)外不得对外正式行文。”因此,xx 市教育局基础教育科不可以向辖区内各县(区)中小学制发关于校园安全教育的公文。

故表述错误。

26、本题考查公文的基本知识。

《中华人民共和国保守国家秘密法》规定:“绝密级国家秘密是最重要的国家秘密,泄露会使国家安全和利益遭受特别严重的损害;机密级国家秘密是重要的国家秘密,泄露会使国家安全和利益遭受严重的损害;秘密级国家秘密是一般的国家秘密,泄露会使国家安全和利益遭受损害。国家秘密的保密期限,除另有规定外,绝密级不超过 30 年,机密级不超过 20 年,秘密级不超过 10 年。”

xx 省人力资源和社会保障厅制发的机密级公文,其保密最长期限为 20 年。

故表述错误。

27、本题考查事业单位相关制度。

《事业单位工作人员处分规定》第三十四条规定:“受到处分的事业单位工作人员对处分决定不服的,可以自知道或者应当知道该处分决定之日起三十日内向原处分决定单位申请复核。对复核结果不服的,可以自接到复核决定之日起三十日内,按照《事业单位工作人员申诉规定》等有关规定向原处分决定单位的主管部门或者同级事业单位人事综合管理部门提出申诉。”

故表述错误。

28、本题考查事业单位相关制度。

根据《事业单位公开招聘人员暂行规定》第二十条规定：“急需引进的高层次、短缺专业人才，具有高级专业技术职务或博士学位的人员，可以采取直接考核的方式招聘。”

故表述正确。

29、本题考查微观经济。

“大灾之年不抑价”是因为“大灾”导致当地粮食紧缺，需求大于供给，当地粮食价格高。当地粮食价格高，商人有利可图就会把其他地方粮食运过来，这样粮食的供给增加，就会导致粮食价格下降。

故表述正确。

30、本题考查微观经济。

在我国现阶段，微观经济活动的主体包括企业、农户和居民。其中企业是重要的微观经济活动的主体，是从事生产经营活动最基本的经济组织。企业的经济运行是整个市场经济运行的微观基础。在我国，政府一方面是市场秩序的维护者，另一方面是宏观经济的调节者，由于身份的特殊性，所以不把政府作为微观经济主体看待。

故表述错误。

31、本题考查科技。

增施有机肥，提高土壤有机质含量，可增强土壤胶体对重金属和农药的吸附能力。如褐腐酸能吸收和溶解三氯杂苯除草剂及某些农药，腐殖质能促进镉的沉淀等。

故表述正确。

32、本题考查科技。

基因编辑是指通过基因编辑技术对生物体基因组特定目标进行修饰的过程，通过精准地改造生物基因组DNA，实现单一或多个性状的改良。例如，科学家可以利用基因编辑技术调整作物的抗病性、耐旱性、耐盐性等特性。

故表述正确。

33、本题考查科技。

当前我国新能源汽车所使用的燃料电池，主要采用氢气作为燃料。氢燃料电池的核心技术是利用氢气和氧气在催化剂的作用下，产生电能的化学反应。相比燃油、锂电池车，氢燃料电池车具有更长的续航里程、更快的充能速度、更强的低温性能等优势。近年来，政府、产业、行业、企业及相关专业机构等多方进行了积极的推动和努力，我国氢能产业和燃料电池汽车的发展正驶上“快车道”。

故表述正确。

34、本题考查科技。

生态系统的三大功能是能量流动、物质循环和信息传递。其中能量流动指的是能量通过生物成分之间的食物关系在食物链上逐级流动的过程，其特点是能量逐级递减且单向流动，不能循环，太阳是生态系统能量的最终来源。物质循环指的是生态系统中的绿色植物从环境中获取营养物质，通过光合作用合成有机质，并被消费者利用，动植物残体被微生物分解后，以无机物的形式归还给环境，供生产者再利用。信息传递涉及到生态系统各组成部分之间及各组成部分内部的信息联系，这些信息联系使生态系统成为一个有机的统一整体。

故表述正确。

35、本题考查人文历史。

北朝以来有将佛经刻于石上，称为石经，以使佛法永存，防止佛经被毁。摩崖石经是指刻于自然岩崖上，一般认为始于北齐，以山东泰山经石峪的大字《金刚经》和泰山东南徂徕山映佛岩的《大般若经》最为著名。而石柱石经是指刻在石柱上藏于石洞中，以山西太原风峪的《华严经》为代表。

故表述错误。

36、本题考查人文历史。

《周髀算经》原名《周髀》，是古老的天文学和数学著作，主要阐明当时的盖天说和四分历法。唐初规定它为国子监明算科的教材之一，故改名《周髀算经》。从数学上看，《周髀算经》主要的成就是分数运算、勾股定理及其在天文测量中的应用。

故表述正确。

37、本题考查人文历史。

“儿童散学归来早，忙趁东风放纸鸢”描绘了早春时节儿童们趁着东风放纸鸢的场景，描绘出春天的生机勃勃以及儿童的天真与活泼。小满，二十四节气中的第八个节气，也是夏季的第二个节气。

故表述错误。

38、本题考查时政真题。

自 1896 年第一届雅典奥运会首次举办，奥运会至今已有 120 余年的历史，第 33 届夏季奥林匹克运动会将于 2024 年 7 月 26 日至 8 月 11 日在法国巴黎举行，届时巴黎将成为继伦敦后的世界第 2 个至少三次举办夏季奥林匹克运动会的城市。

故表述正确。

39、本题考查时政真题。

2023 年 10 月，国务院发布《未成年人网络保护条例》，作为我国第一部专门性的未成年人网络保护综合立法，自 2024 年 1 月 1 日起正式施行，切实保障未成年人在网络空间的健康成长。

故表述正确。

40、本题考查各省时政。

四川作为全国十三个粮食主产省之一，理应为保障国家粮食安全作贡献。2023 年四川全年粮食总产 718.8

亿斤，比上年增加 16.7 亿斤，增长 2.4%，继 2021 年后再创历史新高；生猪出栏、油菜籽产量稳居全国第 1 位。

故表述正确。

41、本题考查时事政治。

A 项正确，新质生产力是由技术革命性突破、生产要素创新性配置、产业深度转型升级而催生的当代先进生产力，其目标是构建现代化的产业体系，从而有力支撑我国经济社会的高质量发展。

B 项正确，新质生产力以劳动者、劳动资料、劳动对象及其优化组合的跃升为基本内涵。

C 项正确，D 项错误，新质生产力具有高科技、高效能、高质量特征，以全要素生产率大幅提升为核心标志。

本题为选非题，故正确答案为 D。

42、本题考查时事政治。

党的二十大报告指出，必须坚持系统观念。我们要善于通过历史看现实、透过现象看本质，把握好全局和局部、当前和长远、宏观和微观、主要矛盾和次要矛盾、特殊和一般的关系，不断提高战略思维、历史思维、辩证思维、系统思维、创新思维、法治思维、底线思维能力，为前瞻性思考、全局性谋划、整体性推进党和国家各项事业提供科学思想方法。

故正确答案为 D。

43、本题考查时事政治。

党的二十大报告指出，全面发展协商民主。协商民主是实践全过程人民民主的重要形式。完善协商民主体系，统筹推进政党协商、人大协商、政府协商、政协协商、人民团体协商、基层协商以及社会组织协商，健全各种制度化协商平台，推进协商民主广泛多层制度化发展。

故正确答案为 D。

44、本题考查时事政治。

2024 年 1 月 8 日，习近平总书记在中国共产党第二十届中央纪律检查委员会第三次全体会议上发表重要讲话，明确提出在深入推进党的自我革命实践中需要把握好九个问题，即：以坚持党中央集中统一领导为根本保证，以引领伟大社会革命为根本目的，以新时代中国特色社会主义思想为根本遵循，以跳出历史周期率为战略目标，以解决大党独有难题为主攻方向，以健全全面从严治党体系为有效途径，以锻造坚强组织、建设过硬队伍为重要着力点，以正风肃纪反腐为重要抓手，以自我监督和人民监督相结合为强大动力。

故正确答案为 B。

45、本题考查时事政治。

2024 年 2 月 29 日，习近平总书记在中共中央政治局第十二次集体学习时指出，党的十八大以来，我国新型能源体系加快构建，能源保障基础不断夯实，为经济社会发展提供了有力支撑。同时也要看到，我国能源发展仍面临需求压力巨大、供给制约较多、绿色低碳转型任务艰巨等一系列挑战。应对这些挑战，出路就是大力发展新能源。

故正确答案为 A。

46、本题考查时事政治。

A 项正确，2024 年 1 月 19 日，国务院新闻办举行新闻发布会，据会议介绍，2023 年，稳增长政策“组合拳”有力有效，规模以上工业增加值同比增长 4.6%，较 2022 年提升 1 个百分点。其中制造业规模以上工业增加值同比增长 5.0%。全年工业经济呈现稳中向上、回升向好的态势。制造业总体规模连续 14 年位居全球第一。

B 项正确，C 项错误，2023 年 12 月 18 日，国务院新闻办举行加快内外贸一体化发展国务院政策例行吹风会，据会议介绍，2022 年，批发零售业增加值 11.5 万亿元，占 GDP 的 12.3%。2023 年 1 至 11 月，社会消费品零售总额 42.8 万亿元，同比增长 7.2%，货物进出口 38 万亿人民币，同比持平，稳居全球第二大消费市场 and 全球第一货物贸易大国。

D 项正确，2024 年 1 月 7 日，中国国家外汇管理局公布的数据显示，截至 2023 年 12 月末，中国外汇储备规模为 32380 亿美元，较 11 月末上升 662 亿美元，升幅为 2.1%。《华尔街日报》称，这是中国外汇储备规模连续第二个月增长。新加坡《联合早报》称，目前，中国仍是全球最大的外汇储备国。中国去年 12 月的外汇储备规模，高于路透分析师调查显示的 3.2 万亿美元。

本题为选非题，故正确答案为 C。

47、本题考查时事政治。

A 项正确，C 项错误，山西、安徽、江西、河南、湖北、湖南六省，地处我国中部地区，承东启西、连南接北，资源丰富、交通发达、产业基础较好、文化底蕴深厚，在我国区域发展格局中具有举足轻重的战略地位。中部 6 省以约占全国十分之一的国土面积，承载了约四分之一的人口数量，创造着约五分之一的经济总量。

B、D 项正确，习近平总书记在会上强调，中部地区是我国重要粮食生产基地、能源原材料基地、现代装备制造及高技术产业基地和综合交通运输枢纽，在全国具有举足轻重的地位。

本题为选非题，故正确答案为 C。

48、本题考查时事政治。

2023 年 12 月 18 日，《中共四川省委、四川省人民政府发布关于支持乐山高质量发展加快提升区域中心城市能级的意见》印发。

《意见》指出，以习近平新时代中国特色社会主义思想为指导，全面贯彻党的二十大精神，深入学习贯彻习近平总书记对四川工作系列重要指示精神，完整、准确、全面贯彻新发展理念，牢牢把握高质量发展这个首要任务，认真落实成渝地区双城经济圈建设战略部署，深入实施“四化同步、城乡融合、五区共兴”发展战略，支持乐山做强优势产业、做精特色产业，进一步扩大经济总量、提升城市功能，增强创新驱动能力、综合承载能力、辐射带动能力，打造具有国际竞争力的中国绿色硅谷、享誉全球的世界重要旅游目的地、全省重要的区域交通物流枢纽。

故正确答案为 D。

49、本题考查宪法。

A项错误，根据《宪法》第八十九条第十项规定：“国务院行使下列职权：（十）领导和管理国防建设事业；”国务院领导和管理国防建设事业而非中央军事委员会。

B项正确，根据《宪法》第八十五条规定：“中华人民共和国国务院，即中央人民政府，是最高国家权力机关的执行机关，是最高国家行政机关。”

C项正确，根据《宪法》第八十八条第三款规定：“总理召集和主持国务院常务会议和国务院全体会议。”

D项正确，根据《宪法》第一百二十六条规定：“国家监察委员会对全国人民代表大会和全国人民代表大会常务委员会负责。地方各级监察委员会对产生它的国家权力机关和上一级监察委员会负责。”

本题为选非题，故正确答案为A。

50、本题考查行政法。

A项错误，根据《道路交通安全法》第三十四条第二款规定：“城市主要道路的人行道，应当按照规划设置盲道。盲道的设置应当符合国家标准。”城市主要道路的人行道，应当按照规划设置盲道而非城市道路的人行道。

B项正确，根据《道路交通安全法》第二十五条第二款规定：“交通信号包括交通信号灯、交通标志、交通标线和交通警察的指挥。”

C项错误，根据《道路交通安全法》第三十二条第一款规定：“因工程建设需要占用、挖掘道路，或者跨越、穿越道路架设、增设管线设施，应当事先征得道路主管部门的同意；影响交通安全的，还应当征得公安机关交通管理部门的同意。”因工程建设需要占用、挖掘道路，应当事先征得道路主管部门的同意，同时对于影响交通安全的，还应当征得公安机关交通管理部门的同意。故题干表述主管部门同意后即可开始施工表述错误。

D项错误，根据《道路交通安全法》第二十九条第二款规定：“公安机关交通管理部门发现已经投入使用的道路存在交通事故频发路段，或者停车场、道路配套设施存在交通安全严重隐患的，应当及时向当地人民政府报告，并提出防范交通事故、消除隐患的建议，当地人民政府应当及时作出处理决定。”公安机关交通管理部门发现已经投入使用的道路配套设施存在交通安全严重隐患的应当及时向当地人民政府报告，并提出防范交通事故、消除隐患的建议，当地人民政府应当及时作出处理决定。题干表述立即决定禁止道路通行表述错误。

故正确答案为B。

51、本题考查行政法。

A项错误，根据《治安管理处罚法》第十二条规定：“已满十四周岁不满十八周岁的人违反治安管理的，从轻或者减轻处罚；不满十四周岁的人违反治安管理的，不予处罚，但是应当责令其监护人严加管教。”甲不满十四岁，不予处罚。

B项错误，根据《治安管理处罚法》第二十一条第一项规定：“违反治安管理行为有下列情形之一的，依照本法应当给予行政拘留处罚的，不执行行政拘留处罚：（一）已满十四周岁不满十六周岁的；”对于十五岁的乙，是应当给予行政拘留处罚的，不执行行政拘留处罚，不应对其作出行政拘留的处罚决定说法错误。

C项错误，根据《治安管理处罚法》第三十五条第三项规定：“有下列行为之一的，处五日以上十日以下拘留，可以并处五百元以下罚款；情节较轻的，处五日以下拘留或者五百元以下罚款：（三）在铁路线路、桥梁、涵洞处挖掘坑穴、采石取沙的；”丙在铁路线下挖洞取沙的行为已经违反治安管理处罚法，对于情节较轻的也会给予处五日以下拘留或者五百元以下罚款。

D项正确，根据《治安管理处罚法》第十九条第四项规定：“违反治安管理有下列情形之一的，减轻处罚或者不予处罚：（四）主动投案，向公安机关如实陈述自己的违法行为的；”丁主动投案，向公安机关如实陈述自己吸毒的违法行为，符合第四项规定，减轻处罚或者不予处罚。

故正确答案为D。

52、本题考查行政法。

A、B项错误，根据《治安管理处罚法》第四十二条规定：“有下列行为之一的，处五日以下拘留或者五百元以下罚款；情节较重的，处五日以上十日以下拘留，可以并处五百元以下罚款：（一）写恐吓信或者以其他方法威胁他人人身安全的；（二）公然侮辱他人或者捏造事实诽谤他人的；（三）捏造事实诬告陷害他人，企图使他人受到刑事处罚或者受到治安管理处罚的；（四）对证人及其近亲属进行威胁、侮辱、殴打或者打击报复的；（五）多次发送淫秽、侮辱、恐吓或者其他信息，干扰他人正常生活的；（六）偷窥、偷拍、窃听、散布他人隐私的。”侮辱指的是公然贬损他人人格、破坏他人名誉的行为，题干当中体现不出甲侮辱他人的情况并且甲辱骂、拦截的行为都是扰乱单位秩序的一种方式。诬告陷害是指捏造事实诬告陷害他人，企图使他人受到刑事处罚或者受到治安处罚的行为。甲没有捏造事实的行为。

C项正确，根据《治安管理处罚法》第二十三条规定：“有下列行为之一的，处警告或者200元以下罚款；情节较重的，处5日以上10日以下拘留，可以并处500元以下罚款：（一）扰乱机关、团体、企业、事业单位秩序，致使工作、生产、营业、医疗、教学、科研不能正常进行，尚未造成严重损失的；……”甲多次醉酒城管执法大队对执法人员进行拦截、辱骂，影响了城管执法大队的日常工作，属于扰乱单位秩序的行为。

D项错误，根据《治安管理处罚法》第二十五条规定：“有下列行为之一的，处5日以上10日以下拘留，可以并处500元以下罚款；情节较轻的，处5日以下拘留或者500元以下罚款：（一）散布谣言，谎报险情、疫情、警情或者以其他方法故意扰乱公共秩序的；（二）投放虚假的爆炸性、毒害性、放射性、腐蚀性物质或者传染病病原体等危险物质扰乱公共秩序的；（三）扬言实施放火、爆炸、投放危险物质扰乱公共秩序的。”甲不符合以上行为。

故正确答案为C。

53、本题考查刑法。

A项正确，根据《刑法》第三百八十二条第一款规定：“国家工作人员利用职务上的便利，侵吞、窃取、骗取或者以其他手段非法占有公共财物的，是贪污罪。”《最高人民法院关于审理挪用公款案件具体应用法律若干问题的解释》第六条规定：“携带挪用的公款潜逃的，依照刑法第三百八十二条、第三百八十三条的规定定罪处

罚。”因此，刘某的行为构成贪污罪。

B项错误，根据《刑法》第三百八十四条第二款规定：“挪用用于救灾、抢险、防汛、优抚、扶贫、移民、救济款物归个人使用的，从重处罚。”刘某的行为不构成挪用特定款物罪。

C项错误，根据《刑法》第三百八十四条第一款规定：“国家工作人员利用职务上的便利，挪用公款归个人使用，进行非法活动的，或者挪用公款数额较大、进行营利活动的，或者挪用公款数额较大、超过三个月未还的，是挪用公款罪，处五年以下有期徒刑或者拘役；情节严重的，处五年以上有期徒刑。挪用公款数额巨大不退还的，处十年以上有期徒刑或者无期徒刑。”刘某挪用公款进行营利活动后携带公款潜逃，其主观上已经具有非法占有的故意，不构成挪用公款罪。

D项错误，根据《刑法》第二百七十二第一款规定：“公司、企业或者其他单位的工作人员，利用职务上的便利，挪用本单位资金归个人使用或者借贷给他人，数额较大、超过三个月未还的，或者虽未超过三个月，但数额较大、进行营利活动的，或者进行非法活动的，处三年以下有期徒刑或者拘役；挪用本单位资金数额巨大的，处三年以上七年以下有期徒刑；数额特别巨大的，处七年以上有期徒刑。”刘某是国家工作人员，主体不适格，不构成挪用资金罪。

故正确答案为A。

54、本题考查刑法。

A项错误，根据《刑法》第二百四十六条第一款规定：“以暴力或者其他方法公然侮辱他人或者捏造事实诽谤他人，情节严重的，处三年以下有期徒刑、拘役、管制或者剥夺政治权利。”李某的行为不构成诽谤罪。

B项错误，D项正确，诬告陷害罪在客观上表现为捏造他人犯罪的事实，向国家机关或有关单位告发，或者采取其他方法足以引起司法机关的追究活动。李某的行为构成诬告陷害罪。

C项错误，报复陷害罪是指国家机关工作人员滥用职权、假公济私、对控告人、申诉人、批评人、举报人实行报复陷害的行为。本罪的犯罪主体是国家机关工作人员，李某的行为不构成报复陷害罪。

故正确答案为D。

55、本题考查刑法。

A项错误，根据《刑法》第二百六十四条规定：“盗窃公私财物，数额较大的，或者多次盗窃、入户盗窃、携带凶器盗窃、扒窃的，处三年以下有期徒刑、拘役或者管制，并处或者单处罚金；数额巨大或者有其他严重情节的，处三年以上十年以下有期徒刑，并处罚金；数额特别巨大或者有其他特别严重情节的，处十年以上有期徒刑或者无期徒刑，并处罚金或者没收财产。”与题意不符。

B项正确，D项错误，根据《刑法》第一百一十七条规定：“破坏轨道、桥梁、隧道、公路、机场、航道、灯塔、标志或者进行其他破坏活动，足以使火车、汽车、电车、船只、航空器发生倾覆、毁坏危险，尚未造成严重后果的，处三年以上十年以下有期徒刑。”夏某的行为应定性为破坏交通设施罪。

C项错误，根据《刑法》第一百一十六条规定：“破坏火车、汽车、电车、船只、航空器，足以使火车、汽

车、电车、船只、航空器发生倾覆、毁坏危险，尚未造成严重后果的，处三年以上十年以下有期徒刑。”与题意不符。

故正确答案为 B。

56、本题考查刑法。

A 项正确，根据《刑法》第二百四十六条第一款规定：“以暴力或者其他方法公然侮辱他人或者捏造事实诽谤他人，情节严重的，处三年以下有期徒刑、拘役、管制或者剥夺政治权利。”根据《最高人民法院、最高人民检察院关于办理利用信息网络实施诽谤等刑事案件适用法律若干问题的解释》第二条规定：“利用信息网络诽谤他人，具有下列情形之一的，应当认定为刑法第二百四十六条第一款规定的“情节严重”：（一）同一诽谤信息实际被点击、浏览次数达到五千次以上，或者被转发次数达到五百次以上的；……”万某的行为构成诽谤罪。

B、C 项错误，根据《最高人民法院、最高人民检察院关于办理利用信息网络实施诽谤等刑事案件适用法律若干问题的解释》第八条规定：“明知他人利用信息网络实施诽谤、寻衅滋事、敲诈勒索、非法经营等犯罪，为其提供资金、场所、技术支持等帮助的，以共同犯罪论处。”张某不具备诽谤罪的犯罪故意，万某与张某并不构成诽谤罪的共同犯罪。

D 项错误，根据《刑法》第二百四十六条第二款规定：“前款罪，告诉的才处理，但是严重危害社会秩序和国家利益的除外。”本题并非严重危害社会秩序和国家利益的情形，无需公安机关主动立案侦查。

故正确答案为 A。

57、本题考查刑法。

A 项错误，根据《刑法》第二百六十六条规定，诈骗罪是指以非法占有为目的，用虚构事实或者隐瞒真相的方法，骗取数额较大的公私财物的行为。与题意不符。

B 项错误，根据《刑法》第二百七十四条规定：“敲诈勒索公私财物，数额较大或者多次敲诈勒索的，处三年以下有期徒刑、拘役或者管制，并处或者单处罚金；数额巨大或者有其他严重情节的，处三年以上十年以下有期徒刑，并处罚金；数额特别巨大或者有其他特别严重情节的，处十年以上有期徒刑，并处罚金。”与题意不符。

C 项正确，根据《刑法》第二百七十九条规定，招摇撞骗罪是指为谋取非法利益，假冒国家机关工作人员的身份或职称，进行诈骗，损害国家机关的威信及其正常活动的行为。陈出示虚假警官证收取罚款，构成招摇撞骗罪。

D 项错误，根据《刑法》第二百六十四条规定：“盗窃公私财物，数额较大的，或者多次盗窃、入户盗窃、携带凶器盗窃、扒窃的，处三年以下有期徒刑、拘役或者管制，并处或者单处罚金；数额巨大或者有其他严重情节的，处三年以上十年以下有期徒刑，并处罚金；数额特别巨大或者有其他特别严重情节的，处十年以上有期徒刑或者无期徒刑，并处罚金或者没收财产。”与题意不符。

故正确答案为 C。

58、本题考查刑法。

A 项错误，根据《刑法》第二十二条第一款规定：“为了犯罪，准备工具、制造条件的，是犯罪预备。”与题意不符。

B 项错误，根据《刑法》第二十四条第一款规定：“在犯罪过程中，自动放弃犯罪或者自动有效地防止犯罪结果发生的，是犯罪中止。”与题意不符。

C 项正确，根据《刑法》第二十三条第一款规定：“已经着手实行犯罪，由于犯罪分子意志以外的原因而未得逞的，是犯罪未遂。”本题中，廖某给妻子投毒后，由于妻子被邻居送医救治而导致脱离生命危险，属于意志以外的原因未得逞，故应当认定为廖某的行为属于故意杀人罪的犯罪未遂。

D 项错误，犯罪既遂指行为人已经着手实施犯罪，且行为人的行为具备了某种犯罪的基本构成全部要件。与题意不符。

故正确答案为 C。

59、本题考查民法典。

A 项正确，根据《民法典》第五十三条第一款规定：“【死亡宣告撤销后的财产返还】被撤销死亡宣告的人有权请求依照本法第六编取得其财产的民事主体返还财产；无法返还的，应当给予适当补偿。”

B 项错误，根据《民法典》第五十二条规定：“【撤销死亡宣告对收养关系的影响】被宣告死亡的人在被宣告死亡期间，其子女被他人依法收养的，在死亡宣告被撤销后，不得以未经本人同意为由主张收养行为无效。”由此可知，钟某之子与他人的收养关系有效，而非立即解除。

C 项错误，根据《民法典》第五十一条规定：“【宣告死亡、撤销死亡宣告对婚姻关系的影响】被宣告死亡的人的婚姻关系，自死亡宣告之日起消除。死亡宣告被撤销的，婚姻关系自撤销死亡宣告之日起自行恢复。但是，其配偶再婚或者向婚姻登记机关书面声明不愿意恢复的除外。”由此可知，钟某被宣告死亡后，其妻子改嫁他人，钟某与妻子的婚姻关系不能自行恢复。

D 项错误，根据《民法典》第五十条规定：“【死亡宣告的撤销】被宣告死亡的人重新出现，经本人或者利害关系人申请，人民法院应当撤销死亡宣告。”由此可知，撤销死亡的宣告，由本人或利害关系人向法院申请。

故正确答案为 A。

60、本题考查民法典。

根据《民法典》第一百七十二条规定：“【表见代理】行为人没有代理权、超越代理权或者代理权终止后，仍然实施代理行为，相对人有理由相信行为人有代理权的，代理行为有效。”由此可知，钱某虽然被公司开除，没有代理权，但是，孙某作为该公司的前销售人员，随身携带盖有该公司公章的空白合同书未被收回，表面上足以使甲企业相信其有代理权，钱某以此合同书与甲企业签订了购销协议，最终发生有权代理的效果。

故正确答案为 A。

61、本题考查民法典。

A项错误，根据《民法典》第一千零一十九条规定：“任何组织或者个人不得以丑化、污损，或者利用信息技术手段伪造等方式侵害他人的肖像权。未经肖像权人同意，不得制作、使用、公开肖像权人的肖像，但是法律另有规定的除外。未经肖像权人同意，肖像作品权利人不得以发表、复制、发行、出租、展览等方式使用或者公开肖像权人的肖像。”由此可知，彩扩店失火将黄某结婚仪式的底片焚毁，未侵犯黄某的肖像权。

B项正确，根据《民法典》第一百八十六条规定：“因当事人一方的违约行为，损害对方人身权益、财产权益的，受损害方有权选择请求其承担违约责任或者侵权责任。”由此可知，彩扩店将黄某结婚仪式底片焚毁的违约行为，同时损害了黄某的人身权益，黄某有权请求彩扩店承担违约责任或侵权责任。

C项正确，根据《民法典》第五百八十四条规定：“当事人一方不履行合同义务或者履行合同义务不符合约定，造成对方损失的，损失赔偿额应当相当于因违约所造成的损失，包括合同履行后可以获得的利益；但是，不得超过违约一方订立合同时预见到或者应当预见到的因违约可能造成的损失。”由此可知，彩扩店应当赔偿胶卷费并返还冲印费。

D项正确，根据《民法典》第九百九十六条规定：“因当事人一方的违约行为，损害对方人格权并造成严重精神损害，受损害方选择请求其承担违约责任的，不影响受损害方请求精神损害赔偿。”第一千一百八十三条规定：“侵害自然人人身权益造成严重精神损害的，被侵权人有权请求精神损害赔偿。因故意或者重大过失侵害自然人具有人身意义的特定物造成严重精神损害的，被侵权人有权请求精神损害赔偿。”由此可知，黄某可以请求彩扩店给予其精神损害赔偿。

本题为选非题，故正确答案为A。

62、本题考查民法典。

A项错误，根据《民法典》第一千零九十一条规定：“【离婚损害赔偿】有下列情形之一，导致离婚的，无过错方有权请求损害赔偿：（一）重婚；（二）与他人同居；（三）实施家庭暴力；（四）虐待、遗弃家庭成员；（五）有其他重大过错。”由此可知，赵某并不属于以上情形之一，严某无权要求赵某承担损害赔偿责任，该情形应当适用再次分割夫妻共同财产的规定。

B项错误，根据《民法典》第一千零九十二条规定：“【一方侵害夫妻共同财产的法律后果】夫妻一方隐藏、转移、变卖、毁损、挥霍夫妻共同财产，或者伪造夫妻共同债务企图侵占另一方财产的，在离婚分割夫妻共同财产时，对该方可以少分或者不分。离婚后，另一方发现有上述行为的，可以向人民法院提起诉讼，请求再次分割夫妻共同财产。”由此可知，赵某在婚姻关系存续期间，有隐藏夫妻共同财产的行为，可以少分或者不分，而非应当将两处房产都判给严某。

C项正确，根据最高人民法院关于适用《中华人民共和国民法典》婚姻家庭编的解释（一）第八十四条规定：“当事人依据民法典第一千零九十二条的规定向人民法院提起诉讼，请求再次分割夫妻共同财产的诉讼时效期间为三年，从当事人发现之日起计算。”

D项错误，根据《民法典》第二百二十九条规定：“【法律文书或征收决定导致的物权变动】因人民法院、

仲裁机构的法律文书或者人民政府的征收决定等，导致物权设立、变更、转让或者消灭的，自法律文书或者征收决定等生效时发生效力。”由此可知，若法院判决严某分得房产，则严某在判决生效之日即取得房屋所有权，而非判决宣布之日。

故正确答案为 C。

63、本题考查民法典。

A 项错误，根据《民法典》第一百二十二条规定：“【不当得利】因他人没有法律根据，取得不当利益，受损失的人有权请求其返还不当利益。”陈甲、陈丙是与陈乙协商继承其父亲的遗产，继承有法律根据，不构成不当得利。

B 项正确，C、D 项错误，根据《民法典》第二百三十五条规定：“【返还原物请求权】无权占有不动产或者动产的，权利人可以请求返还原物。”由此可知，郭某作为电脑的所有权人，将电脑借给陈某，陈某过世后，其继承人无权占有该电脑，郭某有权要回电脑。郭某要回电脑后，陈乙无遗产继承，陈甲、陈丙应按照所得遗产的比例向陈乙进行补偿。

故正确答案为 B。

64、本题考查民法典。

根据《民法典》第一千二百五十八条第一款规定：“【公共场所或者道路上施工致害责任和窨井等地下设施致害责任】在公共场所或者道路上挖掘、修缮安装地下设施等造成他人损害，施工人不能证明已经设置明显标志和采取安全措施的，应当承担侵权责任。”由此可知，甲公司铺设管道，已经设置了路障和警示标志，因此，不对丁的损失承担赔偿责任。《民法典》第一百八十二条规定：“【紧急避险】因紧急避险造成损害的，由引起险情发生的人承担民事责任。危险由自然原因引起的，紧急避险人不承担民事责任，可以给予适当补偿。紧急避险采取措施不当或者超过必要的限度，造成不应有的损害的，紧急避险人应当承担适当的民事责任。”由此可知，丙对损害的发生没有过错，丙的行为成立紧急避险，应当由引起险情发生的人，也就是乙对丁的损失承担赔偿责任。

故正确答案为 A。

65、本题考查公文的基本知识。

A 项错误，根据《党政机关公文处理工作条例》第八条规定：“（八）通知。适用于发布、传达要求下级机关执行和有关单位周知或者执行的事项，批转、转发公文。”

B 项错误，根据《党政机关公文处理工作条例》第八条规定：“（九）通报。适用于表彰先进、批评错误、传达重要精神和告知重要情况。”

C 项错误，根据《党政机关公文处理工作条例》第八条规定：“（六）通告。适用于在一定范围内公布应当遵守或者周知的事项。”

D 项正确，根据《党政机关公文处理工作条例》第八条规定：“（五）公告。适用于向国内外宣布重要事项

或者法定事项。”公开招标应用公告。

故正确答案为D。

66、本题考查公文的基本知识。

越级行文是仅限于上行文，即下级宣传机关越过直接上级向更高一级机关直至中央机关的行文。一般行文均应采取逐级行文的方式，只有在特殊情况下才可以越级行文。所谓特殊情况指：①遇有特殊重大紧急情况，如战争、自然灾害等，如逐级上报，可能会延误时机，造成重大损失时；②经多次请示直接上级，长期未得到解决的重大问题；③上级领导或领导机关交办，并指定越级直接上报的事项；④对直接上级机关或领导进行检举、控告；⑤直接上下级机关有争议，而无法解决的重大问题；⑥询问、联系无需经过直接上级机关的一些工作问题等。

A项正确，“x县人民政府就辖区内发生特大交通事故，需快速向更高级别机关汇报反映情况”属于特殊重大紧急情况，可以越级行文。

B项错误，市农业农村局和市财政局属于同一级别的政府部门。在行政管理中，同一级别部门之间的行文是正常的沟通方式。不属于越级行文。

C项错误，人民政府与该省人民政府存在上下级关系。经济技术开发区招商事宜是地方政府的重要工作内容之一，向上级政府行文报告相关情况或请求指导是合理的工作程序。不属于越级行文。

D项错误，省人民政府与辖区内各市、县（区）人民政府之间存在直接的上下级关系。不属于越级行文。

故正确答案为A。

67、本题考查公文的基本知识。

A项错误，根据《党政机关公文处理工作条例》第九条第（一）款规定：“（一）份号。公文印制份数的顺序号。涉密公文应当标注份号。”该公文不属于涉密公文。

B项错误，发布性通知，用于发布规范性文件、下达计划和印发领导讲话等。“调整市政府部分领导工作分工”需要相关单位知晓，属于知照性通知。

C项错误，《党政机关公文处理工作条例》第九条第十二项规定：“（十二）成文日期。署会议通过或者发文机关负责人签发的日期。联合行文时，署最后签发机关负责人签发的日期。”成文日期应为2024年3月14日。

D项正确，《党政机关公文格式》规定公文的特定格式包括信函格式、命令格式和纪要格式。特定格式在实际工作中被广泛使用，起作用 and 效力与通用格式的公文相同，只是表现形式有所不同。

信函格式是一种特定的公文格式，并不是一种文种，该格式多见于通知、批复、函等文种的公文中。因此题干涉及到的“通知”可以采用信函格式制文。

故正确答案为D。

附：信函格式首页版式图（出自《党政机关公文格式》）



图 11 信函格式首页版式

68、本题考查公文的基本知识。

商洽性公文是指机关或单位之间联系商洽工作、询问或答复问题的公文，发布形式为函。

A项错误，根据《党政机关公文处理工作条例》第八条第（二）项规定：“决定。适用于对重要事项作出决策和部署、奖惩有关单位和人员、变更或者撤销下级机关不适当的决定事项。”对重要事项作出决策和部署、变更或者撤销下级机关不适当的决定事项等具有较强的指令性，属于指令性公文。

B项错误，根据《党政机关公文处理工作条例》第八条第（十一）项规定：“请示。适用于向上级机关请求指示、批准。”请示属于上行文，属于呈请性公文。

C项正确，根据《党政机关公文处理工作条例》第八条第（十四）项规定：“函，用于不相隶属机关之间商洽工作、询问和答复问题、请求批准和答复审批事项。”属于商洽性公文。

D项错误，根据《党政机关公文处理工作条例》第八条第（五）项规定：“公告，适用于向国内外宣布重要事项或者法定事项。”属于公布性公文。

故正确答案为C。

69、本题考查公文的基本知识。

A项正确，指挥性公文是指上级机关根据法定的职能权限，对下级机关宣布决策，部署工作，实施指挥、协调和管理的公文。主要文种有命令、决定、批复、通知等。

B项错误，根据《党政机关公文管理条例》第二章第八条：“决定适用于对重要事项作出决策和部署、奖惩有关单位和人员、变更或者撤销下级机关不适当的决定事项。”《党政机关公文处理工作条例》第八条规定：“（三）命令（令）。适用于公布行政法规和规章、宣布施行重大强制性措施、批准授予和晋升衔级、嘉奖有关单位和人员。”应当用决定。

C项正确，行政令是国家行政机关用于采取重大的政治、军事行动或宣布施行重大强制性整治措施的命令。《xx市人民政府森林防火戒严令》属于行政令。

D项正确，根据《党政机关公文处理工作条例》第八条第（三）项规定：“命令，适用于公布行政法规和规章、宣布施行重大强制性措施、批准授予和晋升衔级、嘉奖有关单位和人员。命令行文通常具有较高的权威性和强制性，多用于国家行政机关或特定的权力机构。市财政局的职权范围相对较为局限。

本题为选非题，故正确答案为B。

70、本题考查公文的基本知识。

A项错误，根据《党政机关公文处理工作条例》第八条：“（十一）请示。适用于向上级机关请求指示、批准。”请示属于上行文。根据《党政机关公文处理工作条例》第九条：“（六）签发人。上行文应当标注签发人姓名。”故公文版头部分应标注签发人姓名。

B项错误，根据《党政机关公文处理工作条例》第九条：“（八）主送机关。公文的主要受理机关，应当使用机关全称、规范化简称或者同类型机关统称。”xx市民政局的上级有xx市人民政府和xx省民政厅。故为了尽快解决资金问题，主送机关可以是xx市人民政府和xx省民政厅。

C项正确，请示结束语必须规范、醒目。常用的有：“妥否，请批示”、“以上请示，请批准”、“特此请示，请予审批”等。

D项错误，根据《党政机关公文处理工作条例》第十五条：“向上级机关行文，应当遵循以下规则：（一）原则上主送一个上级机关，根据需要同时抄送相关上级机关和同级机关，不抄送下级机关。”辖区内各县（区）民政局属于xx市民政局的下级机关，不抄送。

故正确答案为C。

71、本题考查公文的基本知识。

A项错误，开头用语多用于表示行文的目的、原因、根据、时态、范围和背景情况等。如“根据”、“依据”、“按照”、“依照”、“遵照”、“为了（为）”、“由于”、“兹因”、“兹有”、“兹介绍”、“兹定于”、“据查”、“近查”、“关于”、“关于”等等。

B项错误，经办时态用语常用于说明工作处理过程的时态。如“经”、“已经”、“业经”“既经”、“现将”“已将”等。

C项正确，综述转接用语常用于承上启下，领起下文，起过渡作用。如“为此”、“据此”、“对此”、“鉴于”、“因此”、“总之”、“综上所述”、“有鉴于此”等。

D项错误，引述用语用以引述来文，作为批答行文的依据。如“前接”、“近接”、“既接”、“顷闻”、“顷据”、“顷接”、“顷悉”、“欣悉”、“已悉”等。

故正确答案为C。

72、本题考查事业单位相关制度。

A项错误，根据《事业单位岗位设置管理试行办法》第十六条：“工勤技能岗位包括技术工岗位和普通工岗位，其中技术工岗位分为5个等级，即一至五级。普通工岗位不分等级。”

B项正确，根据《事业单位公开招聘人员暂行规定》第十八条：“考试可采取笔试、面试等多种方式。对于应聘工勤岗位的人员，可根据需要重点进行实际操作能力测试。”

C项正确，根据《事业单位岗位设置管理试行办法》第十一条：“工勤技能岗位指承担技能操作和维护、后勤保障、服务等职责的工作岗位。工勤技能岗位的设置要适应提高操作维护技能，提升服务水平的要求，满足单位业务工作的实际需要。鼓励事业单位后勤服务社会化，已经实现社会化服务的一般性劳务工作，不再设置相应的工勤技能岗位。”

D项正确，根据《事业单位工作人员处分规定》第七条：“事业单位工作人员受到记过以上处分的，在受处分期间不得参加专业技术职称评审或者工勤技能人员职业技能等级认定。”

本题为选非题，故正确答案为A。

73、本题考查社会主义市场经济体制。

居民收入包括劳动性收入、财产性收入、经营性收入、转移性收入。

(1) 劳动性收入，是指通过劳动所获得的收入，包括工资、奖金、津贴等。

(2) 财产性收入，是指通过自己所拥有的各类财产获得的收入，包括银行存款所得的利息、房屋出租所得的租金等。

(3) 经营性收入指通过生产经营活动所获得的收入。

(4) 转移性收入指国家、单位、社会团体对住户的各种经常性转移支付和住户之间的经常性收入转移，包括养老金、社会救济和补助、政策性生产补贴、政策性生活补贴、救灾款等。

朱某 2023 年的全部收入中，“在一家企业上班所得工资收入 6 万元”“业余时间送同城快递收入 1.2 万元”为劳动性收入，即 7.2 万元；“银行存款利息入 0.4 万元”和“房屋出租收入 1.8 万元”为财产性收入，即 2.2 万元。

故正确答案为 A。

74、本题考查社会主义市场经济体制。

A 项正确，市场经济作为资源配置的一种方式本身不具有制度属性，可以和不同的社会制度结合，但它和不同社会制度结合具有不同的性质。

B 项错误，社会主义市场经济体制要坚持“有效的市场”和“有为的政府”有机结合，处理好市场与政府关系，既要使市场在资源配置中起决定性作用，发挥市场机制、市场主体和资本的力量，又要更好发挥政府作用，强化宏观政策调节，支持和引导资本规范有序发展。

C 项正确，资本具有逐利本性，如不加以规范和约束，就会给经济社会发展带来不可估量的危害，故要依法规范和引导资本健康发展。

D 项正确，2021 年中共中央办公厅、国务院办公厅印发《建设高标准市场体系行动方案》指出，通过 5 年左右的努力，基本建成统一开放、竞争有序、制度完备、治理完善的高标准市场体系，为推动经济高质量发展、加快构建新发展格局、推进国家治理体系和治理能力现代化打下坚实基础。

本题为选非题，故正确答案为 B。

75、本题考查宏观经济。

消费者价格指数是反映一定时期内城乡居民所购买的生活消费品的价格和服务项目价格变动趋势及程度的相对数。利用居民消费价格指数可以观察、分析消费品的零售价格和服务价格变动对城乡居民实际生活费支出的影响程度。

实际生活中，由于居民家庭在一些商品上的消费支出较多，而在另一些商品上的支出相对较少，这样会出现即使商品的价格变动相同，但是其对居民家庭消费总支出的影响程度也可能不同。因此，在编制居民消费价格指数时必须制订一组权数，以代表居民家庭所购买的一揽子消费商品和服务中每一个项目各自的重要性。

居民消费价格指数的权数，是反映调查商品或服务项目的价格变动在总指数形成中影响程度的指标。消费者在该项目上的支出比例成为影响此权重的决定性因素。

故正确答案为 C。

76、本题考查宏观经济。

公共财政是指国家（政府）集中一部分社会资源，用于为市场提供公共物品和服务，满足社会公共需要的分配活动或经济行为。公共财政的职能，主要包括：资源配置、收入分配、调控经济和监督管理等职能。

A 项正确，资源配置职能是指将一部分社会资源集中起来，形成财政收入，然后通过财政支出活动，由政府提供公共物品或服务，引导社会资金流向，弥补市场缺陷，从而优化全社会的资源配置。

B 项正确，收入分配职能是指政府财政收支活动对各个社会成员收入在社会财富中所占份额施加影响，以公平收入分配。

C 项正确，稳定经济运行即发展调控经济职能，是指通过实施特定的财政政策，促进较高的就业水平、物价稳定和经济增长等目标的实现。政府根据宏观经济运行的不同状况，相机抉择采取相应的财政政策措施。

D 项错误，政府弥补支出不足是指政府在财政收入无法满足支出需求时采取的措施，通常包括增加债务、增税和减少支出等方式。弥补政府支出的不足不属于公共财政的主要职能。

本题为选非题，故正确答案为 D。

77、本题考查科技。

A 项正确，1824 年，德国化学家维勒刚从瑞典回到德国，正忙于研究氰酸铵，他想要把溶液慢慢蒸干，得到结晶体，可是蒸发过程太慢，最终得到了一种无色针状结晶体，后来他研究这种晶体，发现是尿素。为此，发行了一种有意义的纪念邮票，用黑、红、蓝、灰四个分子球分别代表尿素的 C、O、N、H 原子。

B 项正确，门捷列夫，俄国科学家，发现并归纳元素周期律，依照原子量，1869 年制作出世界上第一张元素周期表，图中邮票是 2019 年纪念俄国科学家门捷列夫编制化学元素周期表 150 周年发行的邮票。

C 项错误，图中邮票为国家邮电部于 1990 年 10 月 10 日发行 J173《中国现代科学家(第二组)》邮票，全套四枚，其中第三枚为纪念化学工业学家、“侯氏制碱法”的创始人侯德榜先生所发行。

D 项正确，1953 年，沃森和克里克发现了 DNA 的双螺旋模型，这是遗传学中里程碑式的工作。双螺旋模型是 DNA(脱氧核糖核酸)分子的结构模型，它的建立回答了遗传学中一系列关键问题。图中邮票为纪念 DNA 结构模型建立发行的邮票。

本题为选非题，故正确答案为 C。

78、本题考查地理常识。

A 项正确，风是地球上的一种自然现象，它是由太阳辐射热引起的。太阳光照射到地球表面，地球表面各处受热不同，产生温差，从而引起大气的对流运动形成风。

B 项正确，彩虹是因为阳光射到空中接近圆型的小水滴，造成折射及反射而成。阳光射入水滴时会同时以不同角度入射，在水滴内亦以不同的角度反射。

C 项错误，海啸，是指由海底地震、火山爆发、海底滑坡或气象变化产生的破坏性海浪。热带气旋是发生在热带或副热带洋面上的低压涡旋，是一种强大而深厚的“热带天气系统”。

D 项正确，积雨云是空气强对流的产物，热气流在上升过程中膨胀降压，与高空低温下沉气流进行热交换，于是上升气流中的水汽逐渐凝结而形成云。积雨云形成过程中，在大气电场、温差起电效应、破碎起电效应的共同作用下，正负电荷分别在云的不同部位积聚。当电荷积聚到一定程度时，就会在云与云之间或云与地之间发生放电现象，产生雷电。

本题为选非题，故正确答案为 C。

79、本题考查科技。

A 项正确，低延时性是指信息传输的延迟时间极短。无人驾驶时，必须实时传输数据并触发反应，因为必须在几分之一秒内做出决策。只有这样，汽车才能在撞到障碍物之前停下来或采取规避。超低的网络延迟将会让 VR 在使用过程中更有现场感。

B 项错误，5G 是移动通信技术领域的工具，而 WiFi 是无线互联网领域的工具。5G 网络和 Wi-Fi 技术各具独特优势，不存在取代关系，而是相辅相成。5G 网络因其高速和大容量等特点，在提供手机通信、物联网和工业自动化等方面具有极大优势。然而，Wi-Fi 网络技术成本相对低廉且易于安装与管理，因此在家庭、办公室、酒店等场所扮演着重要的角色。

C 项正确，5G 网络的速度最高可达到 20Gbps，比 4G 网络快数倍。这种高速度可以支持高清视频流、虚拟现实等应用的大数据量传输，大大提高了用户体验。

D 项正确，相较 3G、4G，5G 信号的频率较高，频率高导致信号传播距离变短，单个 5G 基站发出的信号覆盖面积变小，因而覆盖同样面积的区域，5G 网络需要部署更多基站。

本题为选非题，故正确答案为 B。

80、本题考查人文历史。

A 项错误，长平之战是战国时期秦国名将白起率军在赵国的长平一带同赵国的军队发生的战争。赵军最终战败，秦军获胜。“草木皆兵”这个典故出自淝水之战，是指前秦的指挥者苻坚得知晋军正向寿阳前进，便登上寿阳城头观察晋军动静。他看见对岸的晋兵，排列整齐，战船密布，心中觉得晋兵训练有素。再望向北面的八公山，山上长满无数草木，北风吹过，草木晃动，就像无数士兵在运动，认为遇到了劲敌，因而感到害怕。后来，人们以“草木皆兵”形容人神经过敏及疑神疑鬼。

B 项正确，巨鹿之战是中国历史上著名的以少胜多的战役之一，项羽率领数万楚军，同秦军主力在巨鹿进行的一场重大决战性战役。“破釜沉舟”这个典故出自巨鹿之战，项羽凿沉撤退的船，置之死地而后生，不给自己留后路，最后赢得胜利。

C 项正确，赤壁之战是指东汉末年孙刘联军在长江赤壁一带大破曹操大军的战役，是中国历史上以少胜多的著名战役之一。“草船借箭”这个典故出自赤壁之战，诸葛亮利用天气之便，调集草船诱敌，最终借到了十余支箭的故事。

D 项正确，淝水之战是东晋时期前秦向东晋发起的侵略吞并的一系列战役中的决定性战役，前秦出兵伐晋，于淝水交战，最终东晋仅以少胜多大败前秦军队。“风声鹤唳”这个典故出自淝水之战，是指前秦苻坚的溃兵听到风声和鹤叫都疑心是追兵。

本题为选非题，故正确答案为 A。

81、本题考查人文历史。

A 项正确，中国画按题材可分为：人物画、山水画、花鸟画三类。（1）人物画是以人物为主要描绘对象，

形成于山水画和花鸟画之前。(2) 山水画是以山水景物为主要描绘对象，形成于战国前，发展至六朝时作为人物画之背景，隋唐时始独立，五代、北宋时趋于成熟。(3) 花鸟画是以花鸟鱼虫等为主要描绘对象，形成于六朝，至唐代正式独立成科。

B 项错误，“扬州八怪”是清康熙中期至乾隆末年活跃于扬州地区的一批风格相近的书画家总称，美术史上也常称其为“扬州画派”。在中国画史上说法不一，较为公认的是：金农、郑燮（郑板桥）、黄慎、李鱣、李方膺、汪士慎、罗聘、高翔。

C 项错误，《洛神赋图》是东晋顾恺之的代表作。《落霞孤鹜图》是明代画家唐寅创作的一幅绢本设色画，现藏于上海博物馆。该画是唐寅的优秀山水画之一，此画描绘的是高岭峻柳，水阁临江，有一人正坐在阁中，观眺落霞孤鹜，一书童相伴其后，整幅画的境界沉静，蕴含文人画气质。

D 项错误，王维以诗境作画，其山水画成为中国画由宗教化而转入文学化的里程碑。苏轼在《书摩诘〈蓝田烟雨图〉》中曰：“味摩诘之诗，诗中有画；观摩诘之画，画中有诗。”

故正确答案为 A。

82、本题考查人文历史。

京剧脸谱，是一种具有中国文化特色的特殊化妆方法。京剧脸谱色彩十分讲究，看来五颜六色的脸谱品来却巨细有因，不同含义的色彩绘制在不同图案轮廓里，人物就被性格化了。京剧脸谱按颜色划分，可以分为红脸，绿脸、蓝脸、白脸、黑脸、黄脸、紫脸等。

A 项正确，红色脸象征忠义、耿直、英勇、有血性，多为正面角色。代表人物《华容道》中的关羽、《斩经堂》里的吴汉。

B 项正确，白色脸表现奸诈多疑。代表人物《打严嵩》中的严嵩、“三国戏”里的曹操。

C 项正确，黑色脸代表刚强正直、无私的人物形象。代表人物《铡美案》中的包拯，“三国戏”里的张飞，“水游戏”里的李逵。

D 项错误，金色脸象征威武庄严，用来表现神仙妖怪之类的角色。代表人物《闹天宫》中的如来佛、二郎神。蓝色脸代表桀骜不驯、草莽，代表人物《盗御马》中的窦尔敦。

本题为选非题，故正确答案为 D。

83、本题考查国情省情。

①西昌卫星发射中心于 1984 年 4 月 8 日首次成功发射。1984 年 4 月 8 日 19 时 20 分，长征火箭搭载着中国第一颗试验通信卫星从西昌卫星发射中心发射成功，标志着西昌卫星发射中心正式投入使用。

②成昆铁路于 1970 年 7 月 1 日全线建成通车。1970 年 7 月 1 日，成昆铁路全线建成通车，同年 12 月交付运营。通车后，北接宝（鸡）成（都）铁路，形成纵贯我国西南、西北地区的交通大动脉，对于促进西南地区经济建设，加强民族团结和巩固国防，具有重要意义。

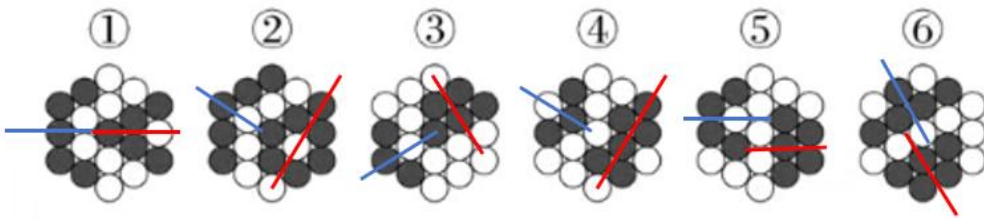
③黄龙、九寨沟于 1992 年 12 月被列入世界自然遗产名录。1992 年 12 月，联合国教科文组织世界遗产委

员会决定，将黄龙、九寨沟作为世界自然遗产同时列入《世界自然遗产名录》，这是四川景区首次被列入世界遗产名录。

按照时间先后顺序排列是②①③。

故正确答案为 B。

84、元素组成不同，优先考虑属性规律。题干每个图形都含有两个黑色部分所构成的轴对称图形，故考虑轴对称图形对称轴之间的关系。图①⑤⑥两个黑色部分的对称轴方向相同，图②③④两个黑色部分的对称轴互相垂直，即①⑤⑥为一组，②③④为一组。



故正确答案为 C。

85、元素组成不同，且无明显属性规律，考虑数量规律。观察发现，题干线条交叉明显，考虑数点，但整体数点无规律。继续观察发现，图形曲线和直线相交明显，考虑曲直交点，题干每幅图形均有 2 个曲直交点，并且其中一个为切点，故？处应选择具有 2 个曲直交点且其中一个为切点的图形，只有 D 项符合。

故正确答案为 D。

86、设枇杷生长的速度为 X ，原有枇杷数为 Y ，赋值每名工人每小时采摘量为 1，根据牛吃草问题基本公式：

$$Y = (N - X) \times T \text{。可得：} \begin{cases} Y = (5 - X) \times (14 - 9) \\ Y = (10 - X) \times (11 - 9) \end{cases}, \text{解得} \begin{cases} X = \frac{5}{3} \\ Y = \frac{50}{3} \end{cases}, \text{要求 10:00 将剩余的枇杷全部装箱完毕, 可得 } \frac{50}{3} = (N - \frac{5}{3}) \times (10 - 9), \text{解得 } N = \frac{55}{3} \approx 18.3 \text{ 名, 至少需要 19 名工人。}$$

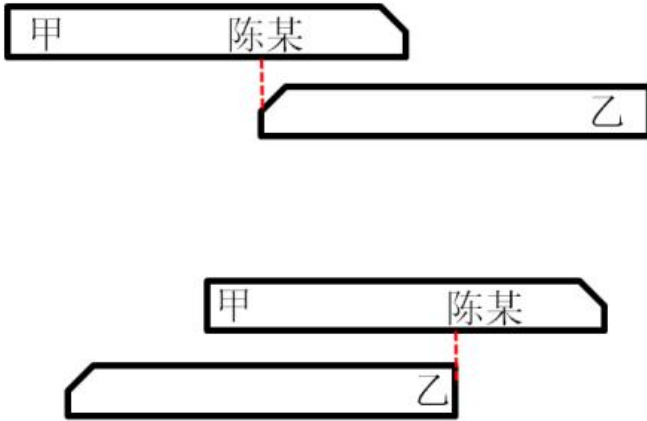
故正确答案为 C。

87、赋值单个圆锥体的底面半径为 1，设其母线长为 l ，高为 h ，则单个圆锥体表面积 = 侧面积 + 底面积 = $\pi \times 1 \times l + \pi \times 1 \times 1 = \pi l + \pi$ 、粘合后整体表面积 = $2 \times$ 侧面积 = $2\pi l$ 。根据题意： $\frac{2\pi l}{\pi l + \pi} = 1.5$ ，解得 $l=3$ ，则 $h = \sqrt{3^2 - 1^2} = 2\sqrt{2} \approx 2.8$ 。即题干所求： $\frac{h}{r} = \frac{2.8}{1} = 2.8$ ，在 2.5~3 倍之间。

故正确答案为 C。

备注：根据粘合后的整体表面积不是原来的 2 倍可知，两个圆锥体为底部相对粘合。

88、



如图所示，陈某从正对乙车车头到正对乙车车尾，整个过程为陈某所在位置与乙车车尾进行直线相遇，且路程和为乙车车长。陈某速度和甲火车相等，根据直线追及公式： $S_{和} = v_{和} \times t_{相遇}$ ，可得 $L_{乙} = (v_{甲} + v_{乙}) \times 3.2$

①；同理分析王某和甲火车，可得： $L_{甲} = (v_{甲} + v_{乙}) \times 4$ ②。②式除以①式子可得： $\frac{L_{甲}}{L_{乙}} = \frac{4}{3.2} = 1.25$ 倍，则甲车长度比乙车多出 0.25 倍，即长 25%。

故正确答案为 B。

89、根据题意“每个单位最多分配 3 人”且总人数为 8 人，可得各基层单位分配的人数分别为 3 人、3 人、2 人。又因为每个单位至少包含 1 名研究生且博士研究生所在单位均为研究生，可得 2 人组中学历搭配为 1 名博士研究生、1 名硕士研究生，从 3 名硕士研究生挑选 1 人与博士研究生分为一组的情况数为 $C_3^1=3$ 种；3 人组中学历搭配均为 1 名硕士研究生、2 名本科生，从 4 名本科生中挑选 2 人与 1 名硕士研究生分为一组（剩余自动形成一组）的情况数为 $C_4^2 = \frac{4 \times 3}{2 \times 1} = 6$ 种。将三个组合分配给三个基层单位，有 $A_3^3=3 \times 2 \times 1=6$ 种情况。故总情况数为 $3 \times 6 \times 6 = 108$ 种。

故正确答案为 D。

90、假设该商品原价为 x 元，成本为 y 元。根据题意可列式： $30 \times (x - y) = 40 \times (0.9x - y) \dots\dots ①$ ， $100 \times 0.8x = 90 \times (x - 50) \dots\dots ②$ ，解得 $x=450$ 元， $y = 270$ 元。打七折销售，单件利润为 $0.7 \times 450 - 270 = 45$ 元，则实现 1 万元利润至少要卖 $\frac{10000}{45} \approx 222.2$ 件，即至少要卖 223 件，在 200~225 件之间。

故正确答案为 B。

91、根据题干“..... 环比增量超过 0.5 亿人次的月份有几个”，可判定本题为增长量计算问题。定位统计图可知，2023 年 1 月~2023 年 12 月，全国客运量当期值。根据公式： $增长量 = 现期量 - 基期量$ ，可得 2023 年 2 月~2023 年 12 月，全国客运量当期值环比增量分别为： $6.59 - 5.83 = 0.76$ 亿人次、 $7.06 - 6.59 = 0.47$ 亿人次、 $7.84 - 7.06 = 0.78$ 亿人次、 $7.93 - 7.84 = 0.09$ 亿人次、 $7.91 - 7.93 = -0.02$ 亿人次、 $9.10 - 7.91 = 1.19$

亿人次、 $9.45 - 9.10 = 0.35$ 亿人次、 $7.97 - 9.45 = -1.48$ 亿人次、 $8.52 - 7.97 = 0.55$ 亿人次、 $7.45 - 8.52 = -1.07$ 亿人次、 $7.40 - 7.45 = -0.05$ 亿人次，超过 0.5 亿人次的月份有 2 月、4 月、7 月、10 月，共 4 个。

故正确答案为 C。

92、根据题干“2023 年水运旅客运输平均运距与上年相比”，结合选项为增加/减少……公里，可判定本题为平均数的增长量问题。定位统计表可知，2023 年水运旅客周转量为 53.80 亿人公里，客运量为 2.60 亿人次；2022 年水运旅客周转量为 22.60 亿人公里，客运量为 1.16 亿人次。根据公式：
$$\text{旅客运输平均运距} = \frac{\text{旅客周转量}}{\text{客运量}}$$
，可得所求为 $\frac{53.80}{2.60} - \frac{22.60}{1.16} \approx 20.7 - 19.5 = 1.2$ 公里，即增加了不到 10 公里。

故正确答案为 A。

93、根据题干“2023 年……比重比上年”，结合选项为“高/低几个百分点”可判定本题为两期比重差计算问题。定位统计表可知：2023 年铁路客运量和旅客运输总量分别为 38.5 和 93 亿人次，2022 年铁路客运量和旅客运输总量分别为 16.73 和 55.87 亿人次。根据公式：
$$\text{两期比重差} = \text{现期比重} - \text{基期比重}$$
，代入数据可得：

所求 $= \frac{38.5}{93} - \frac{16.73}{55.87} \approx \frac{38.5}{93} - \frac{16.73}{56} \approx 41\% - 30\% = 11\%$ ，即高了 11 个百分点。

故正确答案为 B。

94、根据题干“2023 年……同比增速从高到低排序”，可判定本题为一般增长率比较问题。定位统计表可知：2022 年和 2023 年铁路、公路、水运、民航四种运输方式的旅客周转量。根据公式：

$$\text{增长率} = \frac{\text{现期量}}{\text{基期量}} - 1$$
，比较增长率大小，只需比较 $\frac{\text{现期量}}{\text{基期量}}$ 的大小。代入数据可得 2023 年四种运输方式旅客周转量的 $\frac{\text{现期量}}{\text{基期量}}$ 分别为：

铁路： $\frac{14729.40}{6577.53} \approx \frac{14729}{6580} \approx 2.2$ ；

公路： $\frac{3517.60}{2407.54} \approx \frac{3518}{2410} \approx 1.5$ ；

水运： $\frac{53.80}{22.60} \approx 2.4$ ；

民航： $\frac{10308.8}{3913.87} \approx \frac{10309}{3910} \approx 2.6$ 。

比较可知， $\frac{\text{现期量}}{\text{基期量}}$ 最大的是民航，因此 2023 年旅客周转量同比增速最高的运输方式是民航。

故正确答案为 D。

95、A 项：定位统计图可知，2023 年 1 月到 5 月全国客运量的当期值，则截至 2023 年 5 月全国客运量累计值为 $5.83 + 6.59 + 7.06 + 7.84 + 7.93 = 35.25$ 亿人次，不足 40 亿人次，错误；

B 项：定位统计图可知，2023 年 6 月-8 月的全国客运量当期值分别为 7.91 亿人次、9.1 亿人次和 9.45 亿

人次，根据增长率 $= \frac{\text{现期量} - \text{基期量}}{\text{基期量}}$ ，可得：2023 年 8 月环比增速约为 $\frac{9.45 - 9.1}{9.1} \approx \frac{0.35}{9.1} \approx 4\%$ ，7 月环比增速约为 $\frac{9.1 - 7.91}{7.91} \approx \frac{1.19}{7.91} \approx 15\%$ ，故 8 月环比增速慢于 7 月水平，错误；

C 项：定位统计表可知，2023 年铁路和公路旅客周转量分别为 14729.4 亿人公里和 3517.6 亿人公里，因此所求倍数 $= \frac{14729.4}{3517.6} \approx \frac{14729.4}{3520} \approx 4.2$ 倍，超过 4 倍，正确；

D 项：定位统计表可知，2019 年~2023 年公路旅客周转量和公路客运量。根据公式：旅客运输平均运距 $= \frac{\text{旅客周转量}}{\text{客运量}}$ ，则 2019 年~2023 年，公路旅客运输平均运距分别为：2019 年： $\frac{8857.08}{130.12} \approx \frac{8857.08}{130} \approx 68$ 公里；2020 年： $\frac{4641.01}{68.94} \approx \frac{4641.01}{68.9} \approx 67$ 公里；2021 年： $\frac{3627.54}{50.87} \approx \frac{3627.54}{50.9} \approx 71$ 公里；2022 年： $\frac{2407.54}{35.46} \approx \frac{2407.54}{35.5} \approx 68$ 公里；2023 年： $\frac{3517.6}{45.07} \approx \frac{3517.6}{45.1} \approx 78$ 公里，只有 2021 年、2023 年的平均运距超过 70 公里，错误。

故正确答案为 C。

96、本题考查中国特色社会主义理论体系。

A 项正确，增强全面深化改革的系统性、整体性、协同性。全面深化改革是一场深刻而全面的社会变革，涉及经济社会发展各个方面、各个领域，每一项改革都可能牵一发而动全身，对经济社会发展产生多方面影响。这就需要对改革的整体谋划、协同推进、系统集成，注重改革措施整体效果，避免各行其是、相互掣肘。

B 项正确，加强顶层设计和摸着石头过河相结合。新时代的改革同过去相比，广度和深度都大大拓展了，要把改革推向前进，必须加强顶层设计，以利于提高改革的科学性和协调性。但加强顶层设计，并不是不要摸着石头过河。摸着石头过河，是富有中国特色、符合中国国情的改革方法。改革开放是全新的事业，没有现成的方案和经验可以借鉴，必须在实践中探索，摸着石头过河就是摸规律。要把加强顶层设计和摸着石头过河统一起来，鼓励勇于探索、勇于突破，不断形成新经验、产生新认识。

C 项正确，统筹改革发展稳定。正确处理改革发展稳定的关系，是我国改革开放的一条重要经验。改革发展稳定是我国社会主义现代化建设的三个重要支点。改革是经济社会发展的强大动力，发展是解决一切经济社会问题的关键，稳定是改革发展的前提。

D 项正确，坚持重大改革于法有据。全面深化改革是一场深刻的制度变革，制度的“立”和“破”都必须于法有据。习近平指出：“凡属重大改革要于法有据，需要修改法律的可以先修改法律，先立后破，有序进行。”改革和法治如鸟之两翼、车之两轮，相辅相成、相伴而生。

故正确答案为 ABCD。

97、本题考查时事政治。

2023 年 7 月，习近平总书记来川视察时赋予四川“两高地、两基地、一屏障”的使命任务，即打造西部地区创新高地，打造保障国家重要初级产品供给战略基地，构筑向西开放战略高地和参与国际竞争新基地，筑牢

维护国家生态安全的战略屏障。

A 项正确，习近平总书记指出，要完善科技创新体系，积极对接国家战略科技力量和资源，优化完善创新资源布局，努力攻克一批关键核心技术，着力打造西部地区创新高地。

B 项错误，C 项正确，习近平总书记指出，要强化粮食和战略性矿产资源等生产供应，打造保障国家重要初级产品供给战略基地。要坚持“川渝一盘棋”，加强成渝区域协同发展，构筑向西开放战略高地和参与国际竞争新基地，尽快成为带动西部高质量发展的重要增长极和新的动力源。应该是“国家重要初级产品供给战略基地”，而不是“国家重要科技产品供给战略基地”。

D 项正确，习近平总书记深刻指出了四川在国家生态安全战略格局中的重要位置，明确提出四川“要把生态文明建设这篇大文章做好”，筑牢维护国家生态安全的战略屏障。

故正确答案为 ACD。

98、本题考查时事政治。

《生态保护补偿条例》经 2024 年 2 月 23 日国务院第 26 次常务会议通过，自 2024 年 6 月 1 日起施行。《生态保护补偿条例》指出，本条例所称生态保护补偿，是指通过财政纵向补偿、地区间横向补偿、市场机制补偿等机制，对按照规定或者约定开展生态保护的单位和个人予以补偿的激励性制度安排。

故正确答案为 ABD。

99、本题考查民法。

A 项正确，根据《民法典》第一千一百六十七条规定：“侵权行为危及他人人身、财产安全的，被侵权人有权请求侵权人承担停止侵害、排除妨碍、消除危险等侵权责任。”本题中甲剐蹭了乙的车，属于侵犯财产的行为，应当承担民事侵权责任。

B 项错误，根据《治安管理处罚法》第四十九条：“盗窃、诈骗、哄抢、抢夺、敲诈勒索或者故意损毁公私财物的，处五日以上十日以下拘留，可以并处五百元以下罚款；情节较重的，处十日以上十五日以下拘留，可以并处一千元以下罚款。”本题中甲并非故意损毁乙的财产，不小心磕碰到了乙的车，因此双方之间的纠纷属于民事纠纷，甲的行为不适用《治安管理处罚法》进行处罚。

C 项错误，根据《治安管理处罚法》第九条规定：“对于因民间纠纷引起的打架斗殴或者损毁他人财物等违反治安管理行为，情节较轻的，公安机关可以调解处理。经公安机关调解，当事人达成协议的，不予处罚。经调解未达成协议或者达成协议后不履行的，公安机关应当依照本法的规定对违反治安管理行为人给予处罚，并告知当事人可以就民事争议依法向人民法院提起民事诉讼。”因本题不涉及违反治安管理，所以不适用治安调解。

D 项正确，根据《民法典》第二百三十八条规定：“侵害物权，造成权利人损害的，权利人可以依法请求损害赔偿，也可以依法请求承担其他民事责任。”本题中甲磕碰到了乙的车，属于侵害物权，乙可以提起民事诉讼，依法请求损害赔偿。

故本题正确答案为 AD。

100、本题考查刑法。

A 项错误，B 项正确。《刑法》第二百三十二条规定，故意杀人罪是指故意非法剥夺他人生命的行为。根据《刑法》第二百六十三条规定，抢劫罪是以非法占有为目的，对财物的所有人、保管人使用暴力、胁迫或其他方法，强行将公私财物抢走的行为。为抢劫财物，对反抗中的被害人实施侵害致其死亡，其目的是为了制止反抗，抢劫财物，而非有预谋的先杀人后取财或抢得财物后杀人灭口。因此，甲、乙二人以劫财为目的将丙杀死，是为了求财而制服被害人反抗，应以抢劫罪定罪处罚。

C 项错误，根据《刑法》第二百三十九条第一款规定：“以勒索财物为目的绑架他人的，或者绑架他人作为人质的，处十年以上有期徒刑或者无期徒刑，并处罚金或者没收财产；情节较轻的，处五年以上十年以下有期徒刑，并处罚金。”绑架罪属于行为犯，只要实施了控制人质的行为就成立绑架罪。本案中甲、乙将丙杀死之后，以绑架为名勒索丁 10 万元钱款的行为，因为丙已经死亡，丙不可能成为绑架罪的被绑架对象，没有被绑架人，这与绑架罪的最基本的特征，即以暴力、胁迫等手段绑架他人，使之失去人身自由的特征不相符合。所以，本案甲、乙两人故意杀人后，以绑架为名，勒索丁钱款的行为不构成绑架罪。

D 项正确，根据《刑法》第二百七十四条规定：“敲诈勒索公私财物，数额较大或者多次敲诈勒索的，处三年以下有期徒刑、拘役或者管制，并处或者单处罚金；数额巨大或者有其他严重情节的，处三年以上十年以下有期徒刑，并处罚金；数额特别巨大或者有其他特别严重情节的，处十年以上有期徒刑，并处罚金。”敲诈勒索罪的威胁和要挟的手段是多种多样的，威胁和要挟的对象，可以是财产的所有人、保管人本人，也可以是财产所有人、保管人的亲属，以及同财物所有人、保管人有某种利害关系的人。故只要甲、乙使用的威胁和胁迫的方法足以使丁产生精神上的强制，并在这种精神强制力的作用下，丁满足甲、乙的勒索财物的要求，即可构成敲诈勒索罪。

故本题正确答案为 BD。

101、本题考查民法典。

根据《民法典》第四百四十七条的规定：“债务人不履行到期债务，债权人可以留置已经合法占有的债务人的动产，并有权就该动产优先受偿。前款规定的债权人为留置权人，占有的动产为留置财产。”

留置权的取得，基于法律规定，其积极要件包括：1. 须债权人占有债务人的动产；2. 须债权已届清偿期；3. 须债权的发生与该动产有牵连关系；4. 由于留置权所担保的债权与留置物有牵连关系，故与留置权有牵连关系的债权，都在留置权所担保的范围之内，包括原债权、利息（包括迟延利息）、实行留置权的费用及因留置物的瑕疵给留置权人造成的损害赔偿请求权。

A 项正确，根据《民法典》第九百零三条的规定：“寄存人未按照约定支付保管费或者其他费用的，保管人对保管物享有留置权，但是当事人另有约定的除外。”本题中，基于保管合同发生债权，债务人秦某不履行交付已届清偿的保管费债务，债权人吴某对秦某寄存的行李享有留置权。

B 项正确，《民法典》第四百四十八条的规定：“债权人留置的动产，应当与债权属于同一法律关系，但是

企业之间留置的除外。”本题中，甲公司和乙公司存有加工承揽合同，企业之间的留置，可不受同一法律关系的限制，甲公司加工完成后发现乙公司对甲公司仍有其他借款，甲公司可对已加工好的机器零件进行留置。

C项错误，承运人汪某有将货物运送到指定地点的义务，且双方约定一周后支付运费，汪某在货物运到后立刻要求刘某支付运费，债务尚未到期，不满足“须债权已届清偿期”的要求，承运人汪某不得留置货物。

D项错误，《民法典》第四百四十八条的规定：“债权人留置的动产，应当与债权属于同一法律关系，但是企业之间留置的除外。”债权人留置的动产，应当与债权属于同一法律关系。所谓同一法律关系，是指债权人得为合法占有债务人动产的债权债务关系，与债权人享有债权的债权债务关系，系属同一。本题中，某公司辞退徐某欠发徐某工资，与徐某之前占用公司轿车使用并不属于同一法律关系，故徐某不得留置公司轿车。

故正确答案为 AB。

102、本题考查公文的基本知识。

《党政机关公文处理工作条例》第八条第六项规定：“通告。适用于在一定范围内公布应当遵守或者周知的事项。”

根据内容、作用的不同，通告可以分为周知性通告和规定性通告两类。

周知性（事务性）通告，即在一定范围内公布需要周知或需要办理的事项，政府机关、社会团体、企事业单位均可使用。如更换证件通告等。

规定性（制约性）通告用于公布应当遵守的事项，只限行政机关使用，如《关于禁止燃放烟花爆竹的通告》。

A项正确、B项错误，题干中涉及通告的内容为“发布关于110报警服务台网络设备升级改造”，是希望一定范围内的群众周知的事项，而不是规定一些强制性措施的内容。

C项错误，平行文，是指向同级机关以及不相隶属机关之间相互发送的公文，如：函。而这里的通告是面向社会大众的，属于下行文，而不是平行文。

D项正确，根据《党政机关公文处理工作条例》第九条规定：“（八）主送机关。公文的主要受理机关，应当使用机关全称、规范化简称或者同类型机关统称。”不是所有的公文都有主送机关，如选用公告、通告文种的公文，用于向群众发布和传播，所以没有特定的主送机关，则无须写主送对象。

故正确答案为 AD。

103、本题考查公文的基本知识。

A项错误，慰问信是对做出突出贡献、遭受重大损失或者节假日仍坚持在工作岗位的人员所发的文书。属于日常事务文书。

B项错误，公示是领导机关或机关、单位、团体领导机构，需要作出涉及某项决策、人事任免、组织处理或安排等重要事项的决定，在事前征示一定范围内公众意见的一种周知性、公布性公文。属于告启文书（目的是为了告知某件事）。

C项正确，调查报告是指对某一问题或事件进行专门调查研究之后，将所得的材料和结论加以整理而写成

的书面报告。属于公务信息文书（目的是去反馈某个信息）。

D 项正确，简报是机关单位内部对有新闻性质的简要情况做报道，具有快、简、新、真等特点。属于公务信息文书。

故正确答案为 CD。

104、本题考查宏观经济。

A 项正确，存款准备金是指金融机构为保证客户提取存款和资金清算需要而准备的，是缴存在中央银行的存款，中央银行要求的存款准备金占其存款总额的比例就是存款准备金率。采取扩张性的货币政策有利于刺激经济发展，缓解通货紧缩，降低存款准备金率属于扩张性货币政策。

B 项正确，贷款利率，是指银行等金融机构发放贷款时向借款人收取利息的利率。主要分为三类：中央银行对商业银行的贷款利率、商业银行对客户的贷款利率、同业拆借利率。题干中政府降低商业银行向企业的贷款利率，可以降低企业从银行借钱的成本，提高向银行借款的积极性，有利于企业融资，刺激经济发展，是一种扩张性的货币政策。

C 项错误，通货膨胀时，市场上货币流通量过多，造成货币贬值，物价普遍而持续上涨等情况，所以央行需要采取紧缩性货币政策，回收货币，减少货币流通量，抑制通货膨胀。因此，回收市场中的货币属于紧缩性措施，而不是扩张性政策。

D 项错误，提高个税起征点属于税收政策，税收属于财政政策的一种，而不是货币政策。

故正确答案为 AB。

105、本题考查时事政治。

2024 年 2 月 8 日，《中共四川省委四川省人民政府关于学习运用“千村示范、万村整治”工程经验在推进乡村振兴上全面发力的意见》（以下简称《意见》）发布，就做好 2024 年和今后一个时期我省“三农”工作作出系统部署。2 月 29 日，省政府新闻办在四川新闻发布厅举行 2024 年省委一号文件新闻发布会，对文件进行全面解读。

发布会指出，今年省委一号文件共 6 个部分 29 条，提出 2024 年和今后一个时期，我省将深入实施“四化同步、城乡融合、五区共兴”发展战略，把推进乡村全面振兴作为新时代新征程“三农”工作的总抓手，坚持农业农村优先发展，学习运用“千村示范、万村整治”工程经验，在推进乡村振兴上全面发力。坚决守牢粮食安全、不发生规模性返贫底线，把增加农民收入作为“三农”工作的中心任务。加快建设新时代更高水平“天府粮仓”，加快建设宜居宜业和美乡村，加快构建城乡融合发展体制机制，全面推进农业强省建设，为奋力谱写中国式现代化四川新篇章奠定坚实基础。

今年省委一号文件主要内容可以概括为：明确一条主线、守牢两条底线、突出三个重点、强化四项保障。主线是学习运用“千村示范、万村整治”工程经验、在推进乡村振兴上全面发力；守牢两条底线，指确保粮食安全、确保不发生规模性返贫；三个重点分别是发展乡村产业促进农民增收、推进宜居宜业和美乡村建设、深

化农业农村改革；四项保障分别是强化组织、投入、人才和用地保障。

故正确答案为 ABCD。

106、本题考查刑法。

A、C 项正确，根据《刑法》第三百八十五条规定：“国家工作人员利用职务上的便利，索取他人财物的，或者非法收受他人财物，为他人谋取利益的，是受贿罪。国家工作人员在经济往来中，违反国家规定，收受各种名义的回扣、手续费，归个人所有的，以受贿论处。”又根据《全国法院审理经济犯罪案件工作座谈会纪要》规定：“国家工作人员的近亲属向国家工作人员代为转达请托事项，收受请托人财物并告知该国家工作人员，或者国家工作人员明知其近亲属收受了他人财物，仍按照近亲属的要求利用职权为他人谋取利益的，对该国家工作人员应认定为受贿罪，其近亲属以受贿罪共犯论处。”本题中，王某是国家工作人员，其妻子邓某作为国家工作人员的近亲属，向王某代为转达请托事项，收受请托人财物并告知王某，王某随后利用职务便利为他人谋利，则王某构成受贿罪，邓某构成受贿罪的共犯。

B 项错误，根据《刑法》第三百八十八条之一关于利用影响力受贿罪的规定：“国家工作人员的近亲属或者其他与该国家工作人员关系密切的人，通过该国家工作人员职务上的行为，或者利用该国家工作人员职权或者地位形成的便利条件，通过其他国家工作人员职务上的行为，为请托人谋取不正当利益，索取请托人财物或者收受请托人财物，数额较大或者有其他较重情节的，处三年以下有期徒刑或者拘役，并处罚金；数额巨大或者有其他严重情节的，处三年以上七年以下有期徒刑，并处罚金；数额特别巨大或者有其他特别严重情节的，处七年以上有期徒刑，并处罚金或者没收财产。离职的国家工作人员或者其近亲属以及其他与其关系密切的人，利用该离职的国家工作人员原职权或者地位形成的便利条件实施前款行为的，依照前款的规定定罪处罚。”本题中，邓某的行为不符合利用影响力受贿罪的构成要件，不构成利用影响力受贿罪，而是与王某构成受贿罪的共犯。

D 项正确，根据《刑法》第三百八十九条规定：“谋取不正当利益，给予国家工作人员以财物的，是行贿罪。在经济往来中，违反国家规定，给予国家工作人员以财物，数额较大的，或者违反国家规定，给予国家工作人员以各种名义的回扣、手续费的，以行贿论处。因被勒索给予国家工作人员以财物，没有获得不正当利益的，不是行贿。”本题中，李某、覃某为谋取非法利益而给予国家工作人员王某财物，构成行贿罪。

故正确答案为 ACD。

107、本题考查刑法。

A 项正确，根据最高人民法院《全国法院审理经济犯罪案件工作座谈会纪要》规定：“国家工作人员的近亲属向国家工作人员代为转达请托事项，收受请托人财物并告知该国家工作人员，或者国家工作人员明知其近亲属收受了他人财物，仍按照近亲属的要求利用职权为他人谋取利益的，对该国家工作人员应认定为受贿罪，其近亲属以受贿罪共犯论处。”本题中，王某是国家工作人员，其妻子邓某作为国家工作人员的近亲属，向王某代为转达请托事项，收受请托人财物并告知王某，王某随后利用职务便利为他人谋利，则王某构成受贿罪，邓某

构成受贿罪的共犯，应按共同犯罪相关规定处罚。

B项正确，根据《刑法》第六十七条第一款规定：“犯罪以后自动投案，如实供述自己的罪行的，是自首。对于自首的犯罪分子，可以从轻或者减轻处罚。其中，犯罪较轻的，可以免除处罚。”本题中，王某受贿后因感到害怕主动到有关部门投案并交待了受贿事实，成立自首，可以从轻或者减轻处罚。

C项正确，坦白，是指犯罪人被动归案后如实供述自己罪行的行为。根据《刑法》第六十七条第三款规定：“犯罪嫌疑人虽不具有前两款规定的自首情节，但是如实供述自己罪行的，可以从轻处罚；因其如实供述自己罪行，避免特别严重后果发生的，可以减轻处罚。”本题中，司法机关调查邓某时，邓某如实交待犯罪事实，属于坦白，可以从轻处罚。

D项错误，根据《刑法》第七十二条第一款规定：“对于被判处拘役、三年以下有期徒刑的犯罪分子，同时符合下列条件的，可以宣告缓刑，对其中不满十八周岁的人、怀孕的妇女和已满七十五周岁的人，应当宣告缓刑：（一）犯罪情节较轻；（二）有悔罪表现；（三）没有再犯罪的危险；（四）宣告缓刑对所居住社区没有重大不良影响。”又根据《刑法》第三百九十条第一款规定：“对犯行贿罪的，处三年以下有期徒刑或者拘役，并处罚金；因行贿谋取不正当利益，情节严重的，或者使国家利益遭受重大损失的，处三年以上十年以下有期徒刑，并处罚金；情节特别严重的，或者使国家利益遭受特别重大损失的，处十年以上有期徒刑或者无期徒刑，并处罚金或者没收财产。”《最高人民法院、最高人民检察院关于办理贪污贿赂刑事案件适用法律若干问题的解释》第七条规定：“为谋取不正当利益，向国家工作人员行贿，数额在三万元以上的，应当依照刑法第三百九十条的规定以行贿罪追究刑事责任。行贿数额在一万元以上不满三万元，具有下列情形之一的，应当依照刑法第三百九十条的规定以行贿罪追究刑事责任：（一）向三人以上行贿的；（二）将违法所得用于行贿的；（三）通过行贿谋取职务提拔、调整的；（四）向负有食品、药品、安全生产、环境保护等监督管理职责的国家工作人员行贿，实施非法活动的；（五）向司法工作人员行贿，影响司法公正的；（六）造成经济损失数额在五十万元以上不满一百万元的。”第八条规定：“犯行贿罪，具有下列情形之一的，应当认定为刑法第三百九十条第一款规定的‘情节严重’：（一）行贿数额在一百万元以上不满五百万元的；（二）行贿数额在五十万元以上不满一百万元，并具有本解释第七条第二款第一项至第五项规定的情形之一的；（三）其他严重的情节。为谋取不正当利益，向国家工作人员行贿，造成经济损失数额在五百万元以上的，应当认定为刑法第三百九十条第一款规定的‘使国家利益遭受特别重大损失’。”本题中，李某、覃某行贿数额为20万，且题干未标明存在司法解释规定的情节严重或者特别严重的情形，因此，若符合法定条件，二人有可能可以适用缓刑。

故正确答案为ABC。

108、本题考查民法典。

不安抗辩权，是指双务合同的先给付义务人在有证据证明后给付义务人存在丧失或者可能丧失履行债务能力的情形时，有权中止履行其合同义务的权利。本题中，甲公司和乙公司订立了买卖健身器材的合同，按照合同约定甲公司先发货乙公司后付款，故甲公司是先履行义务一方。后甲公司发现后履行义务一方乙公司银行账

户被法院冻结，属于有丧失或者可能丧失履行债务能力的情形，甲公司可主张不安抗辩权。

A 项正确，D 项错误，根据《民法典》第五百二十八条的规定：“当事人依据前条规定中止履行的，应当及时通知对方。对方提供适当担保的，应当恢复履行。中止履行后，对方在合理期限内未恢复履行能力且未提供适当担保的，视为以自己的行为表明不履行主要债务，中止履行的一方可以解除合同并可以请求对方承担违约责任。”本题中，甲公司主张不安抗辩权，及时通知乙公司，要求乙公司为第二批货物先支付货款，若乙公司先行支付货款，甲公司应当继续履行交货义务；若乙公司仅以书面形式请求甲公司继续履行合同，可以视为以自己的行为表明不履行主要债务。

B、C 项正确，根据《民法典》第五百二十八条的规定：“当事人依据前条规定中止履行的，应当及时通知对方。对方提供适当担保的，应当恢复履行。中止履行后，对方在合理期限内未恢复履行能力且未提供适当担保的，视为以自己的行为表明不履行主要债务，中止履行的一方可以解除合同并可以请求对方承担违约责任。”本题中，甲公司主张不安抗辩权，若乙公司提供适当担保，第三人提供保证或以乙公司办公楼提供抵押担保，甲公司应当恢复履行。

故正确答案为 ABC。

109、本题考查民法典。

A 项正确，C 项错误，D 项正确。根据《民法典》第五百二十八条的规定：“当事人依据前条规定中止履行的，应当及时通知对方。对方提供适当担保的，应当恢复履行。中止履行后，对方在合理期限内未恢复履行能力且未提供适当担保的，视为以自己的行为表明不履行主要债务，中止履行的一方可以解除合同并可以请求对方承担违约责任。”本题中，甲公司行使不安抗辩权后，乙公司（后履行一方）在合理期间内，未恢复履行能力，且未提供适当担保的，乙公司将视为拒绝履行剩余债务，甲公司（先履行一方）有权解除合同，并追究对方的预期违约责任。

B 项正确，根据《民法典》第五百二十七条的规定：“应当先履行债务的当事人，有确切证据证明对方有下列情形之一的，可以中止履行：（一）经营状况严重恶化；（二）转移财产、抽逃资金，以逃避债务；（三）丧失商业信誉；（四）有丧失或者可能丧失履行债务能力的其他情形。当事人没有确切证据中止履行的，应当承担违约责任。”本题中，甲公司行使不安抗辩权，甲公司可中止履行合同，不需要承担违约责任。

故正确答案为 ABD。

110、本题考查公文的基本知识。

A 项错误，《党政机关公文处理工作条例》规定，通报。适用于表彰先进、批评错误、传达重要精神和告知重要情况。且通报具有树立典型，起到宣传教育、号召学习和说理的作用。材料第二段“各单位要积极向先进看齐，学习榜样，扎实工作，为我国军队现代化建设作出新的贡献。”具有明显的树立典型，号召学习的意义，故文种用通报更为恰当。

B 项正确，由材料第二段“各单位要积极向先进看齐，学习榜样，扎实工作，为我国军队现代化建设作出

新的贡献。”可知，该公文正确文种应为通报，属于下行文。

C项错误，材料第二段文字中存在错别字，“再接再厉”应改为“再接再厉”。且材料中“在2023年征兵工作中，全县各级、各单位认真贯彻执行xx市人民政府、xx军分区《2023年征兵命令》和县政府、县委、县人武部关于征兵工作的安排部署”这句话，县政府和县委的写作顺序有误，用语不严谨，应当把县委写在前。正确表述应该为：在2023年征兵工作中，全县各级、各单位认真贯彻执行xx市人民政府、xx军分区《2023年征兵命令》和县委、县政府、县人武部关于征兵工作的安排部署。

D项正确，公文概述式开头常表现为：简单概括地叙述有关工作或事件的基本情况或基本过程，为下文的详细叙述或具体分析作铺垫。常用于通报、报告、调查报告、总结等。材料中“在2023年征兵工作中，全县各级、各单位认真贯彻执行xx市人民政府、xx军分区《2023年征兵命令》和县政府、县委、县人武部关于征兵工作的安排部署，圆满完成了年度征兵任务。”即对征兵工作圆满完成的简要概述，属于采用概述情况的开头方式。

故正确答案为BD。

111、本题考查公文的基本知识。

A项错误，公文标题中发文机关名称并列时名称之间空一格。此公文标题发文机关名称之间用的是顿号，因此标题撰写格式有误。

B项错误，《党政机关公文格式》规定，主送机关，编排于标题下空一行位置，居左顶格，回行时仍顶格，最后一个机关名称后标全角冒号。此公文主送机关没有顶格编排，格式撰写有误。

C项正确，《党政机关公文处理工作条例》规定，附件说明。公文附件的顺序号和名称。根据此公文材料中“经县政府、县人武部研究，决定对县政府办等9个征兵工作表现突出单位和周xx等11个表现突出个人予以表扬”可知，该文件需要添加附件说明，正确写法为：附件：2023年度征兵工作成绩突出单位和个人个人名单

D项错误，由标题可知，此公文为县人民政府和县人民武装部联合行文，《党政机关公文格式》规定，联合行文时，一般将各发文机关署名按照发文机关顺序整齐排列在相应位置，并将印章一一对应、端正、居中下压发文机关署名，最后一个印章端正、居中下压发文机关署名和成文日期。因此发文机关署名缺少XX县人民武装部。

故正确答案为C。