



**2023年4月29日福建省事业单位
《综合基础知识》笔试试题**

公考通整理

2023年4月29日福建省事业单位《综合基础知识》笔试试题

一、公共基础知识。根据题目要求，在四个选项中选出一个最恰当的答案。

1、2023年3月30日，中共中央政治局召开会议，研究部署在全党深入开展学习贯彻习近平新时代中国特色社会主义思想主题教育工作。会议要求，各级党委（党组）要高度重视、精心组织，加强党的创新理论掌握运用，抓好调查研究成果转化，解决群众急难愁盼问题，专项整治突出问题，最终以_____作为根本评判标准。

- A、目标实现没实现
- B、成效突出不突出
- C、群众满意不满意
- D、人民同意不同意

2、在党深入开展学习贯彻习近平新时代中国特色社会主义思想主题教育，是贯彻落实党的二十大精神的重要举措，对于统一全党思想，解决党内存在的突出问题，始终保持党同人民群众血肉联系，推动党和国家事业发展具有重要意义。开展这次主题教育的总要求是（ ）。

- A、学理论、强力量、重定效、树新风
- B、学思想、强党性、重实践、建新功
- C、固根本、开新路、生理想、明心志
- D、聚共识，明道路、激斗志、立国威

3、党的二十大报告指出，改革开放和社会主义现代化建设深入推进，书写了_____两大奇迹新篇章，我国发展具备了更为坚实的物质基础，更为完善的制度保证，实现中华民族伟大复兴进入了不可逆转的历史进程。

- A、经济快速发展和社会长期稳定
- B、国家民主富裕和人民共同富裕
- C、民主主义革命胜利和社会主义革胜利
- D、建成社会主义经济强国和社会主义文化强国

4、领导干部要学懂弄通做实党的创新理论，掌握马克思主义理论、观点、方法，夯实敢于斗争，善于斗争的思想根基，理论上清醒，政治上才能坚定，斗争起来才有底气、才有力量。这是基于（ ）。

- A、意识是对物质的能动反映
- B、意识决定客观世界的发展
- C、意识能够改变事物的本质和规律

D、精神的力量可以转化为物质的力量

5、中华优秀传统文化是我们文化发展的母体，是中华民族最根本的文化基因。时代革新、矛盾转化，需要我们把传承传统文化和发展现实文化有机统一、紧密结合起来，在继承中发展，在发展中继承。这段话说明（ ）。

A、发展是对立面互相否定

B、联系是对立面互相依存

C、辩证的否定是事物发展和联系的环节

D、发展是事物由一种质态向另一种质态飞跃

6、榫卯是中国古代建筑的结构方式，即采用在两个木件上以凹凸结合的方式相连接，这种不用钉子的构建连接不仅美观，而且可以承受较大的荷载。这印证了（ ）。

A、部分的功能变化制约整体的性质功能

B、部分功能的变化决定整体功能的发挥

C、整体和部分的性质和功能是无差别的

D、整体的功能大于各个部分功能之总和

7、党的百年历史，是一部践行党的初心使命的历史，是一部党与人民心连心、同呼吸、共命运的历史。赢得人民信任，得到人民支持，党就能够克服任何困难，就能够无往而不胜。这段话重在说明（ ）。

A、人民群众是社会历史的主体

B、人民群众是社会存在和发展的基础

C、人民群众和英雄人物共同创造历史

D、社会意识对社会发展起能动的反作用

8、“我将无我，不负人民。我愿意做到一个‘无我’的状态，为中国的发展奉献自己。”这句话主要启示我们（ ）。

A、价值的选择具有社会历史性

B、人的价值在于得到多数人的认可

C、实现人生价值需要一定客观条件

D、积极投身为人民服务的实践是拥有幸福人生的根本途径

9、我国已全面放开养老服务市场，积极引导社会资本进入养老服务业，提升养老服务质量。对这一政策目的的理解，下列选项正确的是（ ）。

A、减轻政府财政赤字，社会力量替代政府部分职能

B、弥补公共服务短板，满足养老服务多样化的需求

C、创新政府服务模式，强化政府管理能力

D、推动养老服务改革，转变政府经济职能

10、一人成团，专车专导·····近年来，定制旅游逐渐受到消费者青睐。定制旅游之所以走向大众，得益于众多主体进入市场，为消费者量身打造旅游线路，价格门槛也不断降低。这说明（ ）。

A、绿色消费是促进消费升级的有效方式之一

B、享受资料消费将逐渐取代生存资料消费

C、生产为消费创造动力

D、物以稀为贵

11、中国人民银行等五部委联合印发《关于防范比特币风险的通知》，要求各金融机构和支付机构不得以比特币为产品或服务定价。这是因为（ ）。

A、比特币密钥容易被篡改

B、比特币只是虚拟货币而不是法定货币

C、普通民众没有参与比特币交易的自由

D、比特币的发行会冲击我国的金融体系

12、为维护美元霸权，向世界输出通货膨胀，近日美国联邦储备委员会宣布将联邦基金利率目标区间上调 25 个基点到 4.75%至 5%之间。这对新兴国家经济最可能产生的影响是（ ）。

A、改变出口商品结构

B、对外投资规模扩大

C、加重国家外债负担

D、本币存贷款利率随之上调

13、为解决大中城市新市民的居住等问题，国家住建部等九部门联合印发《关于在人口净流入的大中城市加快发展住房租赁市场的通知》，支持相关国有企业转型为住房租赁企业。国企能承担此角色的最主要理由是（ ）。

A、由社会主义市场经济主体地位决定的

B、国企对住房租赁市场的稳定器、压舱石作用

C、享有土地出让优惠政策

D、租购同权下主流消费观念改变

14、近年来，越来越多的商家和企业采用“饥饿营销”“限量版”等营销手段，催生了“炒鞋”行业。

“炒鞋”导致正品鞋溢价过高，容易诱发球鞋内幕交易、假鞋生产等现象，让球鞋爱好者成为“被割的韭菜”。下列选项正确的是（ ）。

- A、营造理性市场环境有助于遏制行业“炒鞋”乱象
- B、内幕交易有助于推动行业的快速发展
- C、“限量版”商品有助于消费者树立正确消费观念
- D、“饥饿营销”有助于提升商家和企业的市场份额

15、手机支付已经走进人们生活的每个角落，范围覆盖了餐饮、超市、休闲等衣食住行消费场所。对上述现象的解释，下列说法正确的是（ ）。

- A、手机支付能保证持卡人资金账户的绝对安全
- B、手机支付减少现金的使用，提高支付效率
- C、手机支付使用的是“虚拟货币”
- D、手机支付能简化收款手续，从而增加就业机会

16、根据宪法和法律的规定，设立居民委员会依据的原则是（ ）。

- A、便于居民自治原则
- B、便于经济发展原则
- C、便于行政指导原则
- D、便于治安管理原则

17、甲遭乙追击，生命受到威胁，情急之下夺过丙的摩托车骑上就跑，丙跌倒摔伤。乙驾驶汽车继续追击，甲为逃命从疾驶的摩托车上飞身跳入河中，价值一万元的摩托车被损毁。关于甲的行为，下列说法正确的是（ ）。

- A、构成抢夺罪
- B、属于正当防卫
- C、属于紧急避险
- D、故意毁坏财物罪

18、关于监察机关对被调查人采取留置措施的规定，下列说法错误的是（ ）。

- A、监察机关采取留置措施，应当由监察机关领导人员集体研究决定
- B、设区的市级以下监察机关采取留置措施的，应当报上一级监察机关批准
- C、监察机关决定采取留置措施后，不得延长留置时间
- D、如果被调查人可能逃跑、自杀的，监察机关已经掌握其涉嫌贪污贿赂的部分违法犯罪事实及证据，

仍有重要问题需要进一步调查的，可以将其留置在特定场所

19、美容店向顾某推荐一款海谜牌护肤品。顾某对该护肤品价格过于便宜表示怀疑，店家解释为店庆优惠。顾某买回使用后，面部出现红肿、瘙痒症状。经质检部门认定，该护肤品为假冒伪劣产品，顾某要求美容店赔偿。对此，下列说法正确的是（ ）。

- A、美容店不知道该护肤品为假冒伪劣产品，不应承担责任
- B、美容店仅是该护肤品的销售者，不承担责任，应由生产者承担责任
- C、顾某怀疑该护肤品的质量却仍然购买，应承担部分责任
- D、美容店的行为构成加害给付，应承担全部责任

20、根据《民法典》的规定，合理使用他人肖像的，可以不经肖像权人的同意。下列使用他人肖像的行为中，可以不经肖像权人同意的是（ ）。

- A、李老师在艺术课堂中投屏刘德华的照片
- B、照相馆把为顾客拍摄的照片陈列在大堂墙壁上展示
- C、小王在班级活动中拍摄“女神”的照片用于私下观赏
- D、小李将与小张一起外出旅游的照片发布在微信朋友圈中

21、下列案件中，不属于行政诉讼受案范围的是（ ）。

- A、李某对政府征收其房屋的补偿决定不服的
- B、赵某对公安机关限制其人身自由的行政强制措施不服的
- C、张某认为行政机关没有依法向其支付抚恤金、最低生活保障待遇或者社会保险待遇的
- D、王某认为市政府制定、发布的具有普遍拘束力的决定、命令不合理的

22、赵某新购一套别墅，在向登记机构申请产权登记的过程中，登记机构不得做出的行为是（ ）。

- A、就有关登记事项询问赵某
- B、要求赵某对别墅的价值进行评估
- C、查验赵某提供的权属证明和其他必要材料
- D、认为赵某申请登记的别墅相关情况需要进一步证明，要求赵某补充材料，并在必要时实地查看

23、一位人大代表指出，要把调查研究作为增强人大工作实效的切入点，在下得去、坐得住、落得实上下功夫，在听民言、察民情、解民忧上做文章。通过扎实细致的调查研究，最大限度掌握基层呼声和人民群众的诉求，为人大及其常委会依法科学决策提供可靠依据。

这段话表明人大代表需要（ ）。

- A、坚持公民主体地位，大兴调查研究

- B、积极行使立法权，建立健全法律制度
- C、依法科学决策，为社会发展建言献策
- D、心系群众重调研，俯下身子听民意

24、为了进一步规范政府采购行为，营造公平竞争的政府采购市场环境，某省财政厅印发政府采购负面清单，明确规定了在政府采购招标文件中不得设置的条款。这一做法（ ）。

- A、有利于杜绝腐败现象，提高政府采购效率
- B、有利于政府转变执政理念，减少行政审批
- C、有利于规范政府采购行为，提升政府公信力
- D、有利于政府依法行政，在资源配置中起决定性作用

25、从建立政务新媒体发布厅到强化“键对键”的政务服务，从开通领导留言板广纳民情民意到通过微博直播庭审助力信息公开·····政务新媒体犹如雨后春笋般不断涌现。推动政务新媒体有序发展，有利于政府（ ）。

- A、强化行政职能，竭尽全力管好社会
- B、适应媒介生态，开展媒体技术研发
- C、回应解决民生问题，提升治理效能
- D、完全公开权力运行过程，接受监督

26、某地在构建新型村级治理体系进程中，探索推行融“党的领导、群众主体和依法治理”于一体的“支部统领、主体分工”做法，即在农村建立起“党支部领导、议事会协商决策、村委会执行、理事会落实、监事会监督、网格化管理”的治理机制。

关于“支部统领、主体分工”做法的作用，下列表述错误的是（ ）。

- A、加强乡村党支部的建设，发挥党组织的战斗堡垒作用
- B、创新村民自治实现手段，切实维护村民的主人翁地位
- C、规范村级各类事务治理，充分保障村民民主管理权利
- D、丰富基层民主协商形式，健全基层行政系统决策机制

27、我国置身世界大发展大变革大调整中，不惑于纷乱现象，不畏于艰难险阻，以元首外交引领扩大全球朋友圈，以开放合作谋求各国共同发展，大力倡导多边主义，推动全球治理改革，不断开创中国特色大国外交新局面。

这表明，中国特色大国外交（ ）。

- A、以各国共同利益为出发点，促进共同发展

- B、坚持合作共赢，推动构建人类命运共同体
- C、主导全球多边治理，建立国际政治经济新秩序
- D、强调对外开放、共建共享是我国外交政策的基本立场

28、一些痴迷于技术和算法的新闻客户端出于用户数量的考虑，推送信息越来越“简单粗暴”。点开一篇文章，它会迅速用大量相似的内容刷屏，用户没有拒绝的权利，阅读者被“信息茧房”包围，被算法、流量和点击量绑架。

这种文化现象的存在（ ）。

- A、限制了网络特有的共享、沟通、互动等功能
- B、源于文化市场的自发性和大众传媒的商业性
- C、导致落后腐朽文化蔓延，阻碍大众文化传播
- D、拓宽了阅读者的视野，改变了其思维的方式

29、蚊子的体重一般在 2-10 毫克之间，最大的雨滴重量可以达到 100 毫克，也就是说雨滴的重量有时是蚊子体重的 50 倍。如果你是蚊子，那么在下雨的时候，天上掉下来的就是挖掘机，而且每隔 25 秒，你都有可能被挖掘机砸中。可是为什么我们并没有在雨后发现大量被雨滴砸死的蚊子呢？

下列解释不正确的是（ ）。

- A、蚊子有强韧的外骨骼，其承受力是雨滴压力的数倍
- B、蚊子身上有一层防水膜，像钢盔一样保护着它们瘦小的身体
- C、蚊子体重轻，被雨滴击中时，与雨滴融为一体，顺应雨滴的趋势落下
- D、蚊子身形小巧，雨滴很难砸中要害，往往砸中的是它们的大长腿和翅膀

30、公文标题具有“画龙点睛”的作用。下列公文标题拟制正确的是（ ）。

- A、《中国共产党第××届中央委员会第××次全体会议公报》
- B、《××市人民政府关于请求解决重大项目建设用地的请示报告》
- C、《××厅关于反馈××省人民政府关于加快国有林场管理体制改革的若干意见（征求意见稿）的意见函》
- D、《××市人民政府转发××省人民政府转发国务院关于进一步加强安全生产工作的通知的通知的通知》

二、言语理解与表达。本部分包括表达与理解两方面的内容。请根据题目要求，在四个选项中选出一个最恰当的答案。

31、从“书山有路勤为径，学海无涯苦作舟”的_____，到鲁迅先生把别人喝咖啡的时间用来写

作的努力，都揭示出一个简单的道理：踏踏实实、努力奋斗才是成功的_____所在。

- A、良训 秘诀
- B、告诫 关键
- C、古训 秘密
- D、劝诫 窍门

32、网络主权是国家主权在网络空间的自然_____，也是现实主权在虚拟空间的映射。网络主权连接国际与国内，沟通现实与虚拟，贯穿政治与法律，因而成为一个既有现实承载，又有具体_____，还有内在逻辑，且植根于现代法理之中的科学概念。

- A、延长 涉及
- B、延展 关涉
- C、延续 涉猎
- D、延伸 指涉

33、在制定实施宏观经济政策时，要充分考虑“人口、人气、人才”的因素，将其作为政策落脚点，_____人口向城镇集聚，通过产业集聚提升人气，再进一步_____人才战略，激发人力资源潜力，以_____跨越发展的需求，达到良性循环。

- A、推动 实施 满足
- B、促使 建构 适合
- C、发展 布署 实现
- D、促进 开发 适应

34、现代写意雕塑基于“天人同构”的宇宙意识，彰显于本体之“道”的深广体验，是本心之灵动、文化之丰厚、科学之理性、技艺之精湛、人性之圆融的_____、_____、_____与_____。

- A、互渗 辉映 凝练 汇合
- B、辉映 互渗 汇合 凝练
- C、汇合 凝练 辉映 互渗
- D、凝练 汇合 互渗 辉映

35、朱熹在南宋士林中颇有影响，但他对坚持抗金、力主北伐的虞允文颇有微词，说他是“轻薄巧言之士”“只志在脱赚富贵而已”。显然，朱熹所论有失公允。但即便如此，虞允文对朱熹还是非常敬重，当孝宗皇帝问及朱熹时，虞允文给予高度评价，说朱熹的才华不在程颐之下，于是朝廷召朱熹入京。

根据上述材料可知虞允文是一位_____的人。

- A、爱才如命、任人唯贤
- B、与人无争、唯才是举
- C、宽宏大量、以德报怨
- D、不计前嫌、重用贤才

36、韦伯是带着对西方文明发展命运的深切关心来探讨农业问题的，他由此确立的是一个包含面极广的农业社会学传统。可以说，韦伯传统因为既包含马克思传统中的宏观政治经济分析，又照顾到恰亚诺夫传统中的微观行动及文化分析，有可能成为综合分析农业问题的基础。

接下来作者最有可能论述的是（ ）。

- A、农业社会学的三大理论传统
- B、韦伯传统与马克思传统的区别
- C、韦伯传统与恰亚诺夫传统的区别
- D、韦伯传统对之后相关研究的影响

37、在中国，诺罗敦·西哈努克亲王是最知名的柬埔寨人，诺罗敦是他的姓氏，西哈努克是他的名字。他儿子叫诺罗敦·拉那列。不过，在柬埔寨，只有贵族才有继承父姓的权利，平民一般用父亲的名字作自己的姓氏，有的也以祖父的名字为姓氏，因而在柬埔寨，平民家庭中的姓氏代代不同。

上述材料主要介绍的是（ ）。

- A、柬埔寨人父姓继承的风俗习惯
- B、柬埔寨贵族与平民姓氏的区别
- C、柬埔寨平民以（祖）父名作为自己的姓
- D、在柬埔寨只有贵族才有继承父姓的权利

38、数据资源已经成为一种财产，明晰产权是建立数据流通规则和秩序的前提条件。换句话说，对于年龄、性别、消费偏好、活动范围等商用数据，个人具有部分或全部的占有、使用、收益和处分的权利。此外，数据主体的权利还包括告知权、可获得权、修正权、被遗忘权与拒绝自动画像权等。这些新型的数据权利赋予了个体与平台谈判的权利，在获取和利用数据上甚至存在讨价还价的可能。

从上述材料可以得知（ ）。

- A、大数据应用不能以牺牲个人数据财产权为代价
- B、个人将私密数据交付网络使用时可与平台谈判
- C、明晰数据的使用权有助于数据发挥更大的价值
- D、建立数据流通规则是保障私密数据的前提条件

39、不管维罗纳有多少珍贵的古罗马和文艺复兴的古迹，人们对这座城市最神往的还是有关朱丽叶的“遗址”。《罗密欧与朱丽叶》的故事并非确凿的真人真事，甚至有人认为基本上是艺术虚构。但是，联合国教科文组织将维罗纳列为世界文化遗产时，此地关于罗密欧和朱丽叶的相关传说与“遗迹”反倒是依据之一。如果你到了维罗纳，这一切似乎更加确凿无疑。

上述材料重在说明（ ）。

- A、朱丽叶“遗址”是维罗纳最令人神往的景点
- B、罗密欧与朱丽叶的故事纯属虚构，不可当真
- C、维罗纳保存着许多古罗马和文艺复兴的古迹
- D、维罗纳申遗成功主要归功于朱丽叶“遗迹”

40、在历史研究中，这种情况经常出现：在某个历史时期，此类史料受重视，彼类史料被排抑；事过境迁，又出现相反的情形。史料本身没有发生变化，是研究者赋予了史料截然相反的价值属性，特别是随着宏观历史时代的变迁，有些史料反映的内容属于遥远的过去，后来的研究者根本难索其解。我们可以不理解史料，但我们不能厚诬古人：只有研究者不懂的史料，没有无价值的史料。

上述材料主要讨论的是（ ）。

- A、史料的主观性
- B、史料的客观性
- C、史料的丰富性
- D、史料的时代性

41、所谓文化-基因密码，是使该文明成为“它自己”并保留其“本我”的内在因素。换言之，文化-基因密码是一个民族实现自我认同的核心内容，_____。如果不理解这个核心内容，就无法感知到自己是该民族的一份子。填入横线处最恰当的是（ ）。

- A、也是种族观念和民族信仰的主要载体
- B、也是一个民族文明最重要的稳定机制
- C、也是个体实现自我认同的基础与前提
- D、也是一种文明之所以存续的强大动力

42、遥感，通常指在航天或航空平台上对地球系统或其他天体进行特定电磁波谱段的成像观测，并获取被观测对象多方面特征信息的技术。它利用成像光谱仪在连续的几十个甚至上百个光谱通道获取地物辐射信息，在取得地物空间图像的同时，每个像元都能够得到一条包含地物诊断性光谱特征的连续光谱曲线。

上述材料说明的是（ ）。

- A、遥感的定义与原理
- B、遥感的概念与特点
- C、遥感的成因与价值
- D、遥感的技术与应用

43、人生，其实_____。在平原上同伴可以结伙而行，欢乐地前推后挤、相濡以沫。一旦进入森林，丛草和荆棘挡路，各人便专心走各人的路，寻找各人的方向。那推推挤挤的群体情感，那无忧无虑无猜忌的同侪深情，在人的一生中也只有少年期才有。离开这段纯洁而明亮的阶段，路其实可能愈走愈孤独。填入横线处最恰当的是（ ）。

- A、像一条经过宽阔的平原的荆棘之路
- B、像一条从宽阔的平原走进森林的路
- C、有广大宽阔的平原，也有荆棘丛生的森林
- D、有推推挤挤的欢乐，也有各走各路的孤独

44、像人类一样，老鼠会在大脑海马体中存储这个世界的心理地图。在老鼠探索周围环境时，将电极植入其大脑后显示，不同的地方被一起放电的不同海马体神经元组合所记录和记忆。这些“位置细胞”不仅在老鼠处于特定位置时放电，还会在它们睡觉时放电，好像其正在梦见曾到过的地方。不仅如此，当老鼠看到在它们无法通过的通道另外一头的食物，然后小睡一下时，其大脑中代表那条通道的神经元会在老鼠睡着时放电，好像它们正在做梦跑过那个通道抓住食物。由上述材料可知，作者最想要传递的信息是（ ）。

- A、老鼠像人类一样会做梦
- B、老鼠会梦到以前去过的地方
- C、老鼠会梦到想去的地方
- D、老鼠以做梦来构建心理地图

45、“沉默的螺旋”是指在现实生活中，优势性意见占明显的主导位置，其他意见则从公共图景中消失，并进入螺旋式循环。诚然，网络社会中依然会有沉默的螺旋式思维带来的影响，因为我们害怕被孤立。但网络的匿名化、背对背和“去责任化”特征，又使更多人敢于发表不同见解。而网络社会的兼容性和圈群化，还使一些少数的不同声音得以“另起炉灶”，寻找到与之相同或相似的平台。于是在网络上，“反沉默螺旋”式理念逐渐形成。根据上述材料，下列说法正确的是（ ）。

- A、“沉默的螺旋”式思维对网络社会影响很大
- B、网络可在一定程度上减弱“沉默的螺旋”效应

C、“沉默的螺旋”与网络社会的兼容性和圈群化相悖

D、网络“反沉默螺旋”理念的出现主要基于怕被孤立

46、CRISPR 是一种近年来最火爆的“基因编辑”生物技术。该技术来自细菌，被科学家改造后，可以应用于各种物种的细胞，包括人。该技术的功能非常强大，几乎可以随意改变细胞的 DNA，可以敲除基因、添加基因、修改基因。CRISPR 横空出世后，那些“前辈”瞬间就无人问津。原因包括 CRISPR 技术简单，容易上手，效率高等，但更为关键的是 CRISPR 便宜。材料中的“前辈”指的是（ ）。

A、CRISPR 之前的低效生物技术

B、CRISPR 之前的基因编辑技术

C、CRISPR 之前的细胞重组技术

D、CRISPR 之前的复杂生物技术

47、“酸奶增寿”说的确不靠谱。在我国，酸奶从来就没被列为保健食品。酸奶的意义在于它弥补了东亚人基因中的一个缺陷：让那些有乳糖不耐受的人可以安心食用牛奶。“酸奶无益”说也矫枉过正，酸奶中的益生菌是对人体健康有益的细菌，它们可抑制有害菌在肠道内的繁殖，加快肠道蠕动，从而提高肠道机能，促进营养吸收。上述材料重在说明（ ）。

A、酸奶有益健康，但不一定增寿

B、“酸奶无益说”缺乏科学依据

C、酸奶中的益生菌可提高肠道机能

D、酸奶有助于乳糖不耐受人群食用牛奶

48、食物银行无柜台，没有自动取款机，也不办理其他金融业务，只有摆满各种食物的货架，只办理一种业务，将募集而来的可能被浪费的食物打包、派送给社区困难家庭及农民工子弟，以倡导“惜食分享”理念，减少食物浪费。虽然食物银行概念来自国外，但是惜食分享核心理念中国早已有之。隋朝时期出现以赈灾自助为目的的义仓，南宋朱熹则首创储藏粮食的社仓。目前，国内还没有太多食物银行，但募捐食物再分配给贫困人员的“类食物银行”济困方式还是很多的。对上述材料理解正确是（ ）。

A、我国多样的济困方式导致食物银行不流行

B、食物银行的核心理念我国隋朝时已经提出

C、食物银行是一种“社会资源再利用”模式

D、赈灾济困是中国减少食物浪费的主要手段

49、科幻大师阿西莫夫提出机器人三定律：第一定律，机器人不得伤害人类，或者目睹人类遭受危险而袖手不管；第二定律，机器人必须服从人类的命令，当该命令与第一定律冲突时例外；第三定律，机器

人在不违背第一、第二定律的情况下要尽可能保护自己。根据上述材料，下列机器人违背了第一定律的是（ ）。

- A、扫地机器人程序出错不能替代女主人劳作
- B、机器人保姆因电量不足无法正常看护幼儿
- C、情感治疗机器人在互不相爱的男女间撒谎
- D、火星探测机器人遇到放射性物质徘徊不前

50、近年来悬“网”诊脉、“隔空看病”的网络问诊愈发流行，不出门、不排队、不挂号，网络问诊简单省事、保密性强。但这种表面上的便捷高效，也存在风险隐患。目前对于网络问诊，还没有明确的法律法规予以规范。专家表示有关部门在做好网络问诊引导的同时，需加大监管力度，消除监管的真空地带。上述材料意在强调（ ）。

- A、网络问诊受追捧
- B、网络问诊不靠谱
- C、网络问诊存隐患
- D、网络问诊需规范

51、普罗透斯效应就像现实版的“庄周梦蝶”。它告诉我们，人类有时候很难分清虚拟和现实之间的界限，甚至会让虚拟世界中发生的事情影响现实世界。随着虚拟现实技术的迅速发展，这种效应再次受到广泛关注。如果说，在传统的虚拟社区和网络游戏中使用虚拟形象还是一种较浅的沉浸体验，那么虚拟现实技术带给人们的将是前所未有的全方位的沉浸体验。通过数字技术构建出来的现实如此逼真，辨别虚拟和现实之间的界限变得更加困难，普罗透斯效应也会更强。从上述材料无法推断（ ）。

- A、虚拟现实技术会让人们拥有全方位的沉浸体验
- B、虚拟现实技术会对人的现实行为产生较大影响
- C、现实中的人会被虚拟世界建构的自我形象影响
- D、虚拟世界中发生的事会在现实世界中得到印证

52、简谱的记谱法与中国民间流行的工尺谱接近，且简谱记录音符的高低长短更简便、精确，所以简谱在中国得以长足发展。特别在民乐方面，简谱契合了中国民乐口授心传这一特点，因为简谱记录的只是旋律的大致框架，需要师生间面对面的交流；而在乐器演奏上，中国民乐很多特殊的表情力度符号，使用简谱清晰明了，如果用五线谱则变得复杂，这些都是简谱备受中国民乐推崇的重要原因。中国民乐推崇简谱的原因是（ ）。

- A、简谱记谱法与民间流行的工尺谱相似

- B、简谱契合了中国民乐口授心传的特点
- C、简谱能记录很多特殊的表情力度符号
- D、简谱的音符更适合中国民乐乐器演奏

53、新开发的一种检测方法能快速诊断呼吸道病毒感染，提高治疗效率并减少抗生素使用几率。新方法主要利用棉签采集病人的分泌物样本，然后放到一台便携式检测仪器中处理，再结合一个分子检测就能在1小时内快速地获得诊断结果，传统方法则需要在实验室中分析数天。医护人员利用这个方法能在短时间内获知病人感染何种病毒，以便及时隔离并服用药物，帮助降低传染他人的几率。在快速诊断出病人感染的病毒是否属于对抗生素具有耐药性的种类后，医护人员在治疗中就能有针对性地避免使用抗生素。下列说法中，不符合文意的是（ ）。

- A、新方法可快速确诊呼吸道病毒感染
- B、新方法有助对抗生素耐药性问题
- C、新方法能有效治疗呼吸道病毒感染
- D、与传统方法相比，新方法更为快捷

54、一项历时10年的研究表明：一直被视为单一物种的中国大鲵至少由5个隐存物种组成。这一发现意味着本已危机四伏的中国大鲵保护工作面临更大的挑战——近年来，规模化养殖、野外放归等一系列“保护”行为，也许直接污染了大鲵不同物种的基因独特性。“保护”直接导致的后果，很可能是基因同质化，也许其中一些隐存物种已经遭遇灭顶之灾。最适合做这段文字标题的是（ ）。

- A、大鲵虽有隐存物种但仍濒临消失
- B、基因同质化让中国大鲵遭遇危机
- C、新发现给保护大鲵带来新的问题
- D、对大鲵的“错爱”也许是一种伤害

55、有人认为，科技强国的主要标志是军事强国，只要有先进的国防科技，就能成为世界强国，与产业不一定有直接关系，实际上，国防安全也要建立在“掌握竞争和发展主动权”的基础上。产业自主性强了，国家安全才真正有保障。就网络信息安全而言，我国必须有一批自主可控并且具有世界一流技术的网络信息安全企业，才能为国防和机要部门提供可信的设备与软件。上述材料重在强调（ ）。

- A、网络信息安全是国家安全的保障
- B、先进科技是国家安全保障的基础
- C、国防科技是科技强国的主要指标
- D、科技强国必须以产业自主为前提

三、判断推理。本部分包括图形推理、定义判断、类比推理和逻辑判断四种类型的试题，在四个选项中选出一个最恰当的答案。

56、①被毒虫咬伤

②送医院救治

③紧急临时排毒处理

④野外郊游

⑤胸闷气短，体温升高

A、④—①—②—③—⑤

B、④—⑤—②—①—③

C、④—①—②—⑤—③

D、④—①—③—⑤—②

57、①形成自主学习能力

②制定学习计划

③设定学习目标

④顺利完成学习

⑤反思评估学习情况

A、①—③—②—⑤—④

B、①—②—③—④—⑤

C、②—③—⑤—①—④

D、③—②—④—⑤—①

58、①竹外桃花三两枝

②四时无止息，年去又年来

③墙角数枝梅，凌寒独自开

④满园金菊郁金黄

⑤映日荷花别样红

A、③—⑤—①—④—②

B、①—⑤—④—③—②

C、②—④—⑤—①—③

D、⑤—①—③—④—②

59、①工作更加便捷

②提升满意度

③整合数据资源

④打破数据壁垒

⑤提升办事效率

A、④—③—①—⑤—②

B、③—④—①—⑤—②

C、④—⑤—②—③—①

D、③—⑤—④—①—②

60、①交通中断城市冰封

②遭遇强暴风雪天气

③居民生活节奏被扰

④全员出动清雪除冰

⑤同心协力共渡难关

A、②—③—①—⑤—④

B、②—①—③—④—⑤

C、②—①—③—⑤—④

D、②—④—③—①—⑤

61、填入问号处最恰当的是（ ）。

檀	香	复
---	---	---

赢	赛	?
---	---	---

康 徽 赢 质

A B C D

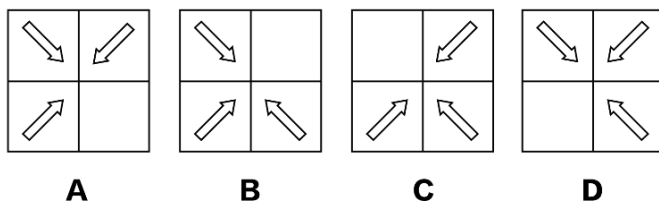
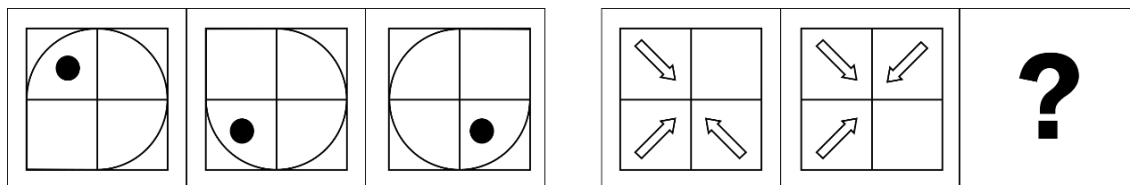
A、A

B、B

C、C

D、D

62、填入问号处最恰当的是（ ）。



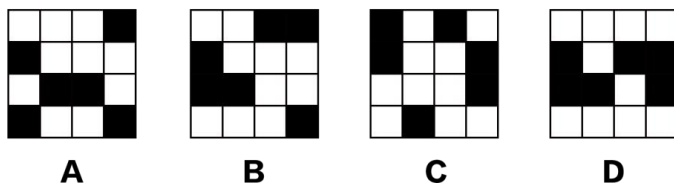
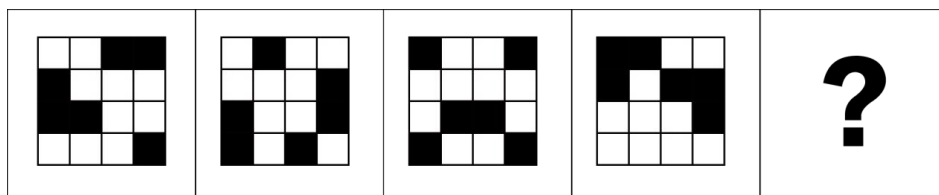
A、A

B、B

C、C

D、D

63、填入问号处最恰当的是（ ）。



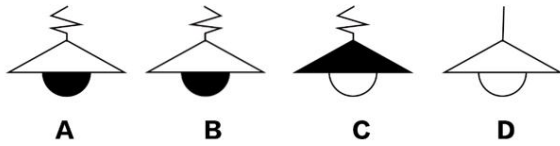
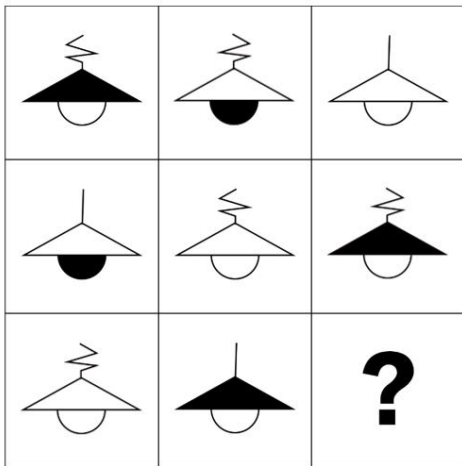
A、A

B、B

C、C

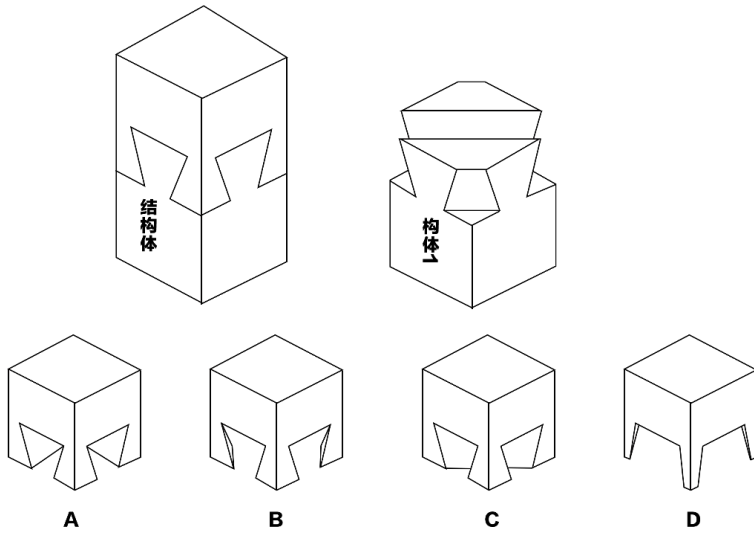
D、D

64、填入问号处最恰当的是（ ）。



- A、A
- B、B
- C、C
- D、D

65、下图所示的榫卯结构体，与构件1能正确连接的是（ ）。



- A、A
- B、B
- C、C
- D、D

66、黄连——甜

A、蜡像——假

B、皮肤——糙

C、企稳——跌

D、面粉——黑

67、律诗——绝句

A、童话——民谣

B、横笛——短箫

C、绪论——批语

D、家谱——年表

68、踟蹰——徘徊

A、踌躇——彷徨

B、蜿蜒——崎岖

C、窈窕——翩跹

D、蜘蛛——蟑螂

69、蜂窝——蜂窝煤

A、天花——天花粉

B、马尾——马尾辫

C、水泥——水泥板

D、铜版——铜版画

70、出师未捷身先死——长使英雄泪满襟

A、不畏浮云遮望眼——只缘身在最高层

B、寂寞空庭春欲晚——梨花满地不开门

C、独在异乡为异客——每逢佳节倍思亲

D、身无彩凤双飞翼——心有灵犀一点通

71、鲛鱼效应，挪威人爱吃活的沙丁鱼，市场上活鱼价格要比死鱼价格高好几倍，但由于沙丁鱼生性懒惰，不爱运动，在海上捕获沙丁鱼后返航的路途又长，往往刚回到码头就死了。渔民为了让沙丁鱼活着回港，就把几条鲛鱼放进沙丁鱼中。鲛鱼是沙丁鱼的天敌，为了躲避鲛鱼，沙丁鱼需要在水中拼命游动，反而激发出旺盛的生命力，解决了沙丁鱼长途运输的困难。

根据上述定义，下列情形无法用鲰鱼效应来解释的是（ ）。

A、飞驰公司销售部副经理张大斌富有危机意识，奔腾公司把张大斌挖来取代了原销售部经理，并公开宣布公司职位的开放性，这极大地调动了销售部员工们的工作热情

B、某牧场有狼群出没，经常吞噬牧民的羊，牧民于是求助军队将狼群杀尽。若干年后，羊的繁殖能力下降，体弱多病，羊毛质量也大不如前

C、迪士尼进入香港后，抢占了大片市场。香港海洋公园为保住市场份额，出资 55 亿港元进行扩建，将游乐项目增加到 70 项，还兴建了 3 家特色酒店，面积也由 108 亩增至 137 亩，大幅改善了服务水平

D、某工厂为了扩大经营规模，向工人支付远高于当地平均水平的工资，人们纷纷前来求职，在该工厂外排起了长队，同时极大地提高了工人的积极性与工作效率

72、豆芽现象，是指豆芽生长的速度很快，短短一夜之间，竟能抽长六七厘米，且外表看起来壮硕又饱满，令人叹为观止，然而，豆芽的质地却异常脆弱，稍遇外力便应声断裂。其深层含义在于，那些快速成长的事物往往是以牺牲质量和内涵为代价的。

根据上述定义，下列属于豆芽现象的是（ ）。

A、高二学生小钟，聪颖好学，尤其是数学成绩突出，被某重点大学破格录取

B、大学生小王创办了一家网上购物中心，严格把控货物质量，殷勤周到地服务客户，选择快捷安全的物流，销售额获得了较大提升

C、某公司为求短期内迅速抢占市场份额，不惜以低于成本价的方式销售商品，短期内商品的销量大幅增长，但亮丽的业绩背后是巨额亏损

D、某企业通过资产重组，资源配置更趋合理，并形成规模优势，企业业绩大幅上升

73、普惠金融，是指立足机会平等和商业可持续原则，通过制定政策引导扶持、加强金融体系建设、健全金融基础设施，以可负担的成本为有融资需求的社会各阶层和群体提供适当有效的金融服务，并确定农民、小微企业、城镇低收入人群、残疾人、老年人等特殊群体为普惠金融的服务对象。

根据上述定义，下列不属于普惠金融的是（ ）。

A、支持农村小额信贷组织发展，持续向农村贫困人群提供融资服务

B、鼓励政策性商业银行向私募基金提供免息贷款，降低私募基金交易成本

C、针对残疾人创新发展，提供免抵押、免担保、财政贴息的贷款

D、大幅改善对创业农民，大中专学生等初始创业者的金融支持

74、海绵城市是一种形象的表述，它是借用海绵的物理特性来比喻城市对雨水吸附吐纳能力的管理方式，其学术术语也被称为“低影响雨水开发构建系统”。也就是说，城市能够像海绵一样，在适应环境变

化和应对自然灾害等方面具有良好的弹性。下雨时吸水、蓄水、渗水、净水，干旱时将蓄存的水释放并加以利用。

根据上述定义，下列不属于海绵城市管理的是（ ）。

A、甲市通过渗、滞、蓄、净、用、排等多种生态化技术，构建低影响开发、具有自然循环功能的雨水系统

B、乙市的市政管理遵循“雨水排得越多、越快、越顺畅”理念，力图将雨水安全快捷地排放出去，以解决逢雨必涝的问题

C、丙市利用绿地空间、水系等环境要素来积存、渗透、净化、释放雨水，让雨水在城市中的迁移更加自然通畅

D、丁市实行楼顶绿化，大雨被植物过滤吸收并从根系渗漏到蓄水池里，待到旱季将其释放出来增加空气湿度

75、公地悲剧，是指一群牧民同在一块公共草场上放牧，虽然大家明知草场上的羊群已经够多了，再增加数量会导致草场质量下降，但每个牧民都为了提高收入而扩大养殖规模，导致草场质量持续退化，直至无法放牧，最终所有牧民破产。其深层含义是：人们过度使用公共资源，会造成资源枯竭。

根据上述定义，下列不能用公地悲剧解释的是（ ）。

A、共享单车问世以来，各大城市的共享单车都出现了侵占、毁损、违规占道等乱象，管理成本急剧上升

B、某小区长期无人管理，许多住户将生活垃圾随意丢放，楼道臭气弥漫，人们只能掩鼻而过

C、某市基础设施服务跟不上，公共服务水平低下，人口流失严重，百业萧条

D、在沿海地区，渔民使用细网捕鱼，大鱼小虾被一网打尽

76、小陈竞选省游泳队主教练成功，大家说小陈至少拿过一次省级比赛的游泳冠军。

下列最有助于证明上述逻辑正确的是（ ）。

A、小陈拿过两次省级游泳比赛的冠军

B、小陈拿过一次全国跳水比赛的冠军

C、并不是游泳不好的人一定不能被选为主教练

D、只有省级以上游泳冠军才可以被选为省游泳队主教练

77、如果天不刮风，就会下雨。如果上述断定是假的，那么下列一定为真的是（ ）。

A、天在刮风但没有下雨

B、天不刮风，也不会下雨

C、或者天刮风，或者天下雨

D、只有下雨，天不会刮风

78、据调查显示，截至 2022 年底，F 国共有餐饮门店 79 万家，F 国餐饮收入实现 3750 亿元，比上年增长 2.3%。如果利润率排名位于后 15%的餐饮门店被视为管理效率低，则近三年 F 国管理效率低的餐饮门店数量在持续上升。

如果上述调查中的数据是真实的，可以推出的结论是（ ）。

A、三年来，F 国餐饮收入的增速在持续下降

B、近三年，F 国餐饮门店数量一直在持续上升

C、近三年，F 国管理效率不低的餐饮门店数量在持续下降

D、随着餐饮收入的增长，F 国管理效率低的餐饮门店数量不断增加

79、媒体调查发现，近年来“童星培训”套路重重，家长上当受骗的现象越来越多。事实上社会对“童星”的需求是逐年增长的，有人由此得出结论：家长上当受骗的数量逐年增加也是正常的。

下列最能削弱上述结论的是（ ）。

A、不少家长希望孩子参加“童星培训”，提高竞争力

B、“童星培训”机构打着科学、专业的旗号诱骗家长

C、社会对“童星”的要求是保持童真，不是培训后的同质化状态

D、一个愿打一个愿挨，不参加“童星培训”就不会被骗

80、U 盘里删除掉的文件很可能被一些恢复软件还原回来，因此损坏的涉密 U 盘不能拿给外人维修。

下列最能加强上述论证的是（ ）。

A、损坏的涉密 U 盘里的文件很可能被恢复

B、删除掉的电子文件不一定都能被恢复

C、不是所有的涉密 U 盘都保存涉密文件

D、不是所有的涉密 U 盘都能修好

81、在某大学的一个班级里：

I. 所有的人都不吃早餐。

II. 没有一个人不吃早餐。

III. 该班的小李不吃早餐。

假设以上三句话只有一句为真，能够必然推出（ ）。

A、该班的小李不吃早餐

- B、该班的小李吃早餐
- C、该班所有人都吃早餐
- D、该班有的人吃早餐

82、只有在产业需求对接、师资队伍建设、校企深度合作方面做好工作，高职扩招才能够真正得到落实。下列最不符合上述论断的是（ ）。

- A、如果没有做好产业需求对接，高职扩招就很难落实
- B、如果高职扩招得到落实，它肯定做好了师资队伍建设工作
- C、只要在产业需求对接、师资队伍建设、校企深度合作方面做好工作，高职扩招就能够真正得到落实
- D、除非在产业需求对接、师资队伍建设、校企深度合作方面做好工作，否则高职扩招不能真正得到落实

83、某高校科研处根据提交的申报书，初步统计了本年度各个学院科研项目的申报情况。在初步统计情况公布后，各个学院又有新的一批申报书提交到科研处。下列初步统计最不可能被补充申报后的新数据推翻的是（ ）。

- A、历史学院仅有 5 位教师申报，申报了至少 6 项
- B、化学学院至少有 3 位教师申报，申报不多于 5 项
- C、计算机学院至多有 9 位教师申报，申报不到 10 项
- D、经济管理学院至少有 8 位教师申报，申报了至少 11 项

84、有六位选手甲、乙、丙、丁、戊、庚参加足球队队员选拔。已知：

- (1) 如果选拔甲，那么必须同时选拔乙和丙
- (2) 如果选拔戊，则必须同时淘汰丙和丁
- (3) 除非选拔戊，否则淘汰庚
- (4) 甲是主力，必须选拔。

根据以上信息，下列一定为真的是（ ）。

- A、选拔戊并且淘汰丙
- B、同时选拔丙和丁
- C、同时淘汰戊和庚
- D、选拔戊并且淘汰丁

85、电扇能提高人体的“热不适”阈值，即用电扇促进室内空气流动会将人们“热不适”温度阈值提高大约 3 至 4 摄氏度。该温度阈值提高后，人们会在一天中更长的时间里感觉舒适，只有在气温超过这一

阈值后才会打开空调，从而最大限度地减少空调的总体使用量。专家由此得出结论，在不必降低气温的情况下使人感到凉爽是可能的。

如果下列均为真，上述论证所必需的假设是（ ）。

- A、在气温达到升高后的温度阈值时再打开空调，可以使全球能源使用量减少约 76%
- B、老年人比较难出汗，皮肤上可蒸发的汗水也比较少，必须采用各种可持续降温的方法
- C、越来越多地使用空调可能导致与气候变化有关的“正反馈循环”，进一步加剧地球变暖
- D、当周围的温度超过某个阈值时会让人感到热得难受，“热不适”是人们使用空调的主要原因

四、数量关系。在这部分试题中，每道题呈现一段表述数字关系的文字，要求你迅速、准确地计算出答案。

86、1342， 5786， 2314， 6758， 3412， 7856， （ ）， 8576

- A、4215
- B、4232
- C、4012
- D、4132

87、 $\frac{7}{120}$ ， $\frac{7}{30}$ ， $\frac{21}{20}$ ， $\frac{28}{5}$ ， （ ）， 252

- A、 $\frac{35}{3}$
- B、35
- C、70
- D、140

88、7， 11， 19， 27， 39， （ ）， 55

- A、48
- B、49
- C、50
- D、51

89、4， 9， 25， 8， 125， （ ）， 16

- A、52
- B、48
- C、1000

D、34

90、2, 5, 9, 15, 23, 35, (), 107

A、55

B、53

C、51

D、49

91、把一根绳子对折3次，然后在正中间剪开，则这条绳子被剪成了()段。

A、8

B、9

C、12

D、16

92、春节将至，某食品厂要制作一批盒装糕点，每盒装2块A型糕点和4块B型糕点。制作一块A型糕点要用0.05千克面粉，0.01千克糖。制作一块B型糕点要用0.02千克面粉，0.005千克糖。该厂现有面粉450千克和糖98千克，最多能生产这种盒装糕点()盒。

A、2350

B、2400

C、2450

D、2500

93、在大于50且小于100的连续10个自然数中，最多有()个质数。

A、1

B、2

C、3

D、4

94、客运列车在A与B站之间运行，从A到B站之间有3个车站，那么此列车需要设计()种不同的车票。

A、12

B、16

C、18

D、20

95、有一杯盐水，第一次往杯内加入一些水后浓度变为 12%，第二次再加入同样多的水后浓度变为 8%，第三次再加入同样多的水后浓度变为（ ）。

- A、7%
- B、6%
- C、5%
- D、4%

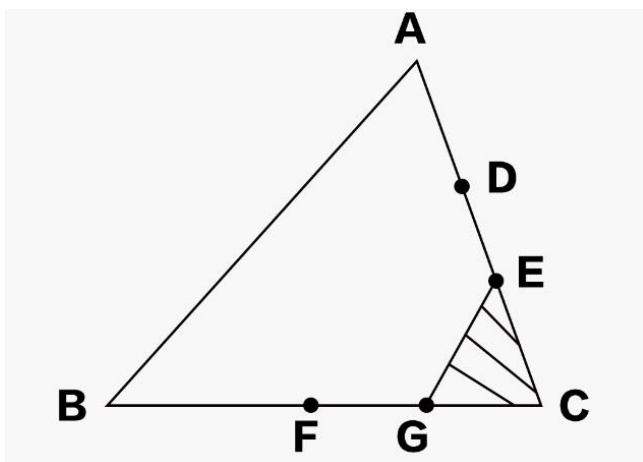
96、设有五个自然数，计算其中任意三个数的和，得到十个计算结果，它们是：15、16、18、19、21、22、23、26、27、29，则这五个自然数的和是（ ）。

- A、21
- B、22
- C、32
- D、36

97、小红到一家商店买了相同数量的红球和黄球，红球原价 2 元 3 个，黄球原价 3 元 5 个。新年优惠，两种颜色的球售价都是 1 元 2 个，结果小红少花了 8 元钱。小红一共买了（ ）个球。

- A、30
- B、35
- C、60
- D、70

98、如下图， $AD=DE=EC$ ， F 是 BC 的中点， G 是 FC 的中点，如果三角形 ABC 的面积是 24，则三角形 CEG 的面积是（ ）。



- A、2

B、3

C、4

D、5

99、小明和小红同向匀速骑行，小明骑车速度是小红的3倍，每隔10分钟就有一辆公共汽车超过小红，每隔20分钟就有一辆公共汽车超过小明。假设公共汽车从起始站每次间隔相同的时间发车并匀速行驶，则公共汽车的速度是小红的（ ）倍。

A、4

B、5

C、5.2

D、6

100、有四个数a、b、c和d，满足以下条件： $b > a + c$ ， $a + b = c + d$ ， $b + c < a + d$ ，则这四个正数以小到大的排列是（ ）。

A、 $c < a < b < d$

B、 $c < a < d < b$

C、 $a < c < d < b$

D、 $a < c < b < d$

五、资料分析。所给出的图、表、文字或综合性资料均有若干个问题要你回答。你应根据资料提供的信息进行分析、比较、计算和判断处理。

(一)

2022年，M地区汽车行业规模以上企业累计实现主营业务收入83345.25亿元，同比增长率为13.79%（以下如无特别说明，增长率均为同比增长率），比2021年上升9.06个百分点。累计实现利润6886.24亿元，增长率为10.66%。从2022年M地区汽车行业规模以上企业累计主营业务收入增长率变动情况来看：一季度增长率为8.90%；上半年增长率为9.90%，比一季度提高1个百分点；前三季度增长率为13.25%，比上半年提高3.35个百分点；全年增长率为13.79%，比前三季度提高0.54个百分点。

表 2022年M地区汽车行业规模以上企业累计主营业务收入增长率变动情况

单位：%

年\月	1-2	1-3	1-4	1-5	1-6	1-7	1-8	1-9	1-10	1-11	1-12
2022	7.54	8.90	8.83	9.12	9.90	11.01	11.98	13.25	13.54	13.73	13.79
2021	6.22	4.84	4.55	3.95	3.84	3.03	2.50	2.36	2.83	4.18	4.73

101、2020年，M地区汽车行业规模以上企业累计实现主营业务收入约为（ ）。

- A、69937 亿元
- B、72822 亿元
- C、73245 亿元
- D、74829 亿元

102、2022年，M地区汽车行业规模以上企业主营业务收入全年增长率比上半年提高（ ）个百分点。

- A、3.01
- B、3.89
- C、4.01
- D、4.67

103、下列选项中，M地区汽车行业规模以上企业主营业务收入增长率比上年同期提高最多的是（ ）。

- A、2022年第一季度
- B、2022年上半年
- C、2022年前三季度
- D、2022年全年

104、关于M地区汽车行业规模以上企业主营业务收入，下列说法不正确的是（ ）。

- A、2022年，各月的增长率均不低于1月到该月的累计增长率
- B、2022年，各季度的增长率均不低于一季度到该季度的累计增长率
- C、2022年，第二季度的增长率高于上年同期
- D、2022年，第三季度的增长率高于上年同期

105、根据资料，可以推出的是（ ）。

- A、2022年，上半年M地区汽车行业规模以上企业累计实现主营业务收入超过全年的一半
- B、2022年，上半年M地区汽车行业规模以上企业累计实现主营业务收入不到全年的一半
- C、2022年，M地区汽车行业规模以上企业主营业务利润率低于2021年
- D、2022年，12月份的M地区汽车行业规模以上企业主营业务收入环比增长0.06个百分点

（二）

2018年，全国城镇非私营单位就业人员年平均工资为82460元，比上年增长（以下如无特别说明均为同此名义增长）11.0%，增速比年提高1个百分点，扣除价格因素，实际增长8.7%；全国城镇私营单位就业人员年平均工资为49575元，比上年增长8.3%，增速比上年提高1.5个百分点，扣除价格因素，实际增长

6.1%。

图 1 2009-2018 年全国城镇非私营单位就业人员年平均工资及名义增速



图 2 2009-2018 年全国城镇私营单位就业人员年平均工资及名义增速



106、2018 年，全国城镇非私营单位就业人员年平均工资实际增长约（ ）。

- A、6600 元
- B、7170 元
- C、8172 元
- D、9070 元

107、2017年，全国城镇私营单位就业人员年平均工资约为（ ）。

- A、43147 元
- B、45776 元
- C、46725 元
- D、53690 元

108、2009-2018年，全国城镇非私营单位就业人员年平均工资同比增量最大的年份为（ ）。

- A、2011
- B、2012
- C、2016
- D、2018

109、2009-2018年，全国城镇非私营单位就业人员年平均工资同比增速高于私营单位的年份有（ ）。

- A、2 个
- B、3 个
- C、4 个
- D、5 个

110、根据给定资料，下列说法错误的是（ ）。

- A、2009-2018年，全国城镇非私营单位就业人员年平均工资均高于私营单位
- B、2009-2018年，全国城镇非私营单位就业人员和私营单位就业人员年平均工资增长速度最快的年份都是2011年
- C、2009-2018年，全国城镇非私营单位与私营单位就业人员年平均工资的差距逐年缩小
- D、2009-2018年，全国城镇非私营单位与私营单位就业人员年平均工资逐年持续上涨

参考答案

1、本题考查政治常识。

2023年3月30日，中共中央政治局召开会议，研究部署在全党深入开展学习贯彻习近平新时代中国特色社会主义思想主题教育工作。会议要求，各级党委（党组）要高度重视、精心组织，加强党的创新理论掌握运用，抓好调查研究成果转化，解决群众急难愁盼问题，专项整治突出问题，最终以群众满意不满意作为根本评判标准。

故正确答案为C。

2、本题考查政治常识。

2023年4月3日，学习贯彻习近平新时代中国特色社会主义思想主题教育工作会议在北京召开。中共中央总书记、国家主席、中央军委主席习近平出席会议并发表重要讲话。习近平强调，这次主题教育要牢牢把握“学思想、强党性、重实践、建新功”的总要求。

故正确答案为B。

3、本题考查政治常识。

党的二十大报告提出，改革开放和社会主义现代化建设深入推进，书写了经济快速发展和社会长期稳定两大奇迹新篇章，我国发展具备了更为坚实的物质基础、更为完善的制度保证，实现中华民族伟大复兴进入了不可逆转的历史进程。科学社会主义在二十一世纪的中国焕发出新的蓬勃生机，中国式现代化为人类实现现代化提供了新的选择，中国共产党和中国人民为解决人类面临的共同问题提供更多更好的中国智慧、中国方案、中国力量，为人类和平与发展崇高事业作出新的更大的贡献！

故正确答案为A。

4、本题考查政治常识。

A项错误，辩证唯物主义认为，物质是不依赖于人的意识、并能为人的意识所反映的客观实在。物质决定意识，意识是对物质的反映。意识对物质具有能动作用。表述正确，但与题意无关。

B项错误，物质决定意识，意识对物质具有能动的反作用，正确的意识能促进客观事物的发展，错误的意识会阻碍客观事物的发展。选项表述错误。

C项错误，意识能动作用首先表现在，意识不仅能够正确地反映事物的外部现象，而且能够正确地反映事物的本质和规律。但是意识不能改变事物的本质和规律。

D项正确，在一定条件下，精神力量可以转化为物质力量。精神力量可以促进物质力量的发展，可以使物质力量发挥更大更好的作用。题干中理论上清醒，政治上才能坚定，斗争起来才有底气、才有力量，这是基于精神的力量可以转化为物质的力量。

故正确答案为 D。

5、本题考查政治常识。

A 项错误，发展是揭示事物运动、变化的整体趋势和方向性的范畴，是具有前进性质的运动，是事物由低级向高级、由简单向复杂、由无序向有序的上升运动。发展的实质是新事物的产生和旧事物的灭亡。发展并不是简单对立面互相否定。

B 项错误，联系是指事物之间和事物内部诸要素之间相互影响、相互作用和相互制约的关系。联系具有普遍性、客观性、条件性、多样性。表述错误。

C 项正确，辩证的否定是事物自身的否定，是克服和保留的统一，其实质是扬弃。辩证的否定有两个重要特点：其一，辩证的否定是事物发展的环节，事物的发展从根本上说，就是旧事物的灭亡和新事物的产生；其二，辩证的否定是事物联系的环节，新事物对旧事物的否定，不是把旧事物简单地全盘抛弃，而是在抛弃旧事物消极的不合理的因素的同时，保留并改造吸收旧事物中积极的、合理的因素，作为自己生存和发展的基础。题干中，中华优秀传统文化，在时代革新、矛盾转化，需要我们把传承传统文化和发展现实文化有机统一、紧密结合起来，在继承中发展，在发展中继承。体现的就是辩证的否定是事物发展和联系的环节。

D 项错误，质变是指事物从一种质态向另一种质态的转变。质变的过程中，事物处于显著变动状态，质变一般是明显的、突发的、非连续性的，因而也叫飞跃，渐进过程中的中断或革命。

故正确答案为 C。

6、本题考查政治常识。

A 项正确，整体由部分构成，离开了部分，整体就不复存在，部分的功能及其变化会影响整体的功能。题干中，榫卯采用在两个木件上以凹凸结合的方式相连接，以承受较大的荷载。体现的是部分的功能及其变化会影响整体的功能。

B 项错误，整体对部分起支配、统帅、决定的作用；部分处于被支配、被决定的地位；关键部分的功能及其变化甚至对整体的功能起决定作用。

C 项错误，唯物辩证法认为，整体和部分既相互区别又相互联系。整体是由部分构成的，离开了部分，整体就不复存在。部分的功能及其变化会影响整体的功能，关键部分的功能及其变化甚至对整体的功能起决定作用。整体与部分的性质和功能是有差别的。

D 项错误，唯物辩证法认为，整体和部分既相互区别又相互联系。整体居于主导地位，统率着部分。当各部分以合理结构形成整体时，整体功能就会大于部分之和；当部分以欠佳的结构形成整体时就会损害整体功能的发挥。

故正确答案为 A。

7、本题考查政治常识。

A 项正确，习总书记指出，我们党的百年历史，就是一部践行党的初心使命的历史，就是一部党与人民心连心、同呼吸、共命运的历史，得到人民支持，党就能够克服任何困难，就能够无往而不胜。体现出了人民群众的重要性，人民群众是历史的主体，是历史的创造者。

B 项错误，马克思认为，物质资料的生产方式是社会存在和发展的基础。

C 项错误，历史唯物主义认为，人民群众是历史的创造者，是社会历史的主体。这是因为，人民群众是社会物质财富和精神财富的创造者，是社会变革的决定力量。该选项否定了“人民群众是历史的创造者”这一观点。

D 项错误，社会存在决定社会意识，社会意识对社会存在具有能动的反作用。先进的、科学的社会意识对社会发展起促进作用；落后的、不科学的社会意识对社会发展起阻碍作用。

故正确答案为 A。

8、本题考查政治常识。

“我将无我，不负人民。我愿意做到一个‘无我’的状态，为中国的发展奉献自己。”这体现了习近平总书记为了人民的根本利益、党和国家的长治久安，以身许党许国，为民不遗余力，无私无我的精神境界。启示我们要自觉站在最广大人民的立场上，牢固树立为人民服务的思想，把献身人民的事业、维护人民的利益作为自己最高的价值追求。个人要把自我价值的实现融入国家发展、人民需要的实践中去。

A 项错误，价值的选择具有社会历史性，是指人们的价值选择会因为所处时间、地点、条件的变化而不同。该选项与题意不符。

B 项错误，人的价值在于创造价值，在于对社会的责任和贡献，即个人通过自己的活动满足社会、他人和自己的需要。表述错误。

C 项错误，实现人生价值需要一定客观条件，指的是实现人生价值要以一定的生产力为基础，一个社会的生产力水平、物质生产条件制约着人生价值的实现。该选项与题意不符。

D 项正确，积极投身为人民服务的实践是拥有幸福人生的根本途径，因为人生价值的最终实现离不开积极投身为人民服务的实践。题干中“我将无我，不负人民。我愿意做到一个‘无我’的状态，为中国的发展奉献自己。”启示我们要积极投身为人民服务的实践，把献身人民的事业、维护人民的利益作为自己最高的价值追求。

故正确答案为 D。

9、本题考查政治常识。

A 项错误，全面放开养老服务市场，积极引导社会资本进入养老服务业，是为了弥补政府在养老领域的不足，这是在创新政府的服务模式，而不是为了让社会力量代替政府部分职能。

B 项正确，随着我国人口老龄化趋势的加重，养老服务市场缺口也随之增大，全面放开养老服务市场，积极引导社会资本进入养老服务业，有利于增加养老服务业的竞争，弥补政府公共服务在养老服务上的短板，给老年人提供更多样化的养老服务。

C 项错误，全面放开养老服务市场，引导社会资本进入养老服务业，是政府服务模式的一种创新，但并不是政府强化管理能力的表现。

D 项错误，全面放开养老服务市场，积极引导社会资本进入养老服务业，提升养老服务质量，是政府在推动养老服务改革的举措，这是政府对民负责，为民服务，是履行社会建设职能的体现，而不是转变政府经济职能的体现。

故正确答案为 B。

10、本题考查经济常识。

A 项错误，绿色消费是指“可持续消费”，是各种有益健康和保护生态环境的消费行为和消费方式的统称，绿色消费可以促进消费升级。但与题意无关。

B 项错误，生存资料是维持和延续人们生命的基本生活资料。如必要的食物、衣服、住房、交通工具等。生存资料消费不可能被取代，“享受资料消费将逐渐取代生存资料消费”表述错误。

C 项正确，生产为消费创造动力是指产业发展、产品不断优化，会刺激新的消费欲望。定制旅游之所以走向大众，得益于众多主体进入市场，为消费者量身打造旅游线路，价格门槛也不断降低。说明定制旅游的大众化主要是由于从事定制旅游的商家增多，进而导致市场上旅游服务多样化、价格走势趋低。这体现了生产对消费的决定作用，生产为消费创造动力。

D 项错误，“物以稀为贵”是说物品的稀缺导致该物品价格的上涨，体现了供求对价格的影响作用。该选项与题意无关。

故正确答案为 C。

11、本题考查经济常识。

A 项错误，比特币本质上是区块链上的一串字符，记录着该比特币诞生以来的所有交易记录，由于区块链属于去中心化的结构，用户通过一个公开的地址和只有自己知道的密钥来宣示所有权，某种程度上，谁掌握了这个密钥，谁就实质性地拥有了对应地址中的比特币资产。区块链是比特币的底层技术，具有不可篡改、匿名性等特性。

B 项正确，和法定货币相比，比特币没有一个集中的发行方，而是由网络节点的计算生成，谁都有可能

参与制造比特币，而且可以全世界流通，可以在任意一台接入互联网的电脑上买卖，不管身处何方，任何人都可以挖掘、购买、出售或收取比特币，并且在交易过程中外人无法辨认用户身份信息。虽然比特币被称为“货币”，但由于其不是由货币当局发行，不具有法偿性与强制性等货币属性，并不是真正意义上的货币。从性质上看，比特币是一种特定的虚拟商品，不具有与货币等同的法律地位，不能且不应作为货币在市场上流通使用。

C项错误，比特币交易作为一种互联网上的商品买卖行为，普通民众在自担风险的前提下拥有参与的自由。

D项错误，比特币主要是有较高的投机风险，较高的洗钱风险，以及被违法犯罪分子或组织利用的风险。从目前的形势看，由于比特币的总量较小，交易市场规模有限，各金融机构也没有直接参与比特币的交易和投资活动。因此，比特币的相关风险尚达不到冲击我国金融体系的程度。

故正确答案为B。

12、本题考查经济常识。

美联储，是美国的一家私有中央银行，负责履行美国的中央银行的职责。联邦基金利率目标区间上调即美联储加息，从金融市场来看，美联储加息意味着美元流动性的减少，是一种紧缩性货币政策。一般加息可以提高银行利息，从而减少货币供应量，美元会升值。从国际资本流动来看，美联储加息会导致新兴经济体大量的资本出逃，原本流入新兴经济体的资金，转头进入美国市场，去追求更高的利息回报和金融资产投资回报。新兴经济体资本外逃，货币贬值，加重国家外债负担。另外新兴国家外债以美元债务为主，美联储加息，美元升值，意味着这些国家债务负担进一步加重。

故正确答案为C。

13、本题考查经济常识。

A项错误，我国实行以公有制为主体多种所有制共同发展的基本经济制度，其中公有制经济在社会主义市场经济中占主体地位。在我国社会主义的现阶段，公有制经济包括国有经济、集体经济和混合所有制经济中的国有成分和集体成分。其中国有经济控制国民经济命脉，对经济发展起主导作用。故题干中社会主义市场经济主体地位说法错误。

B项正确，国有企业是中国特色社会主义的重要物质基础和经济基础，在国民经济中发挥着稳定器和压舱石的作用。支持相关国有企业转型为住房租赁企业，可以充分发挥国有企业在稳定租金和租期、积极盘活存量房屋用于租赁、增加租赁住房有效供给等方面的引领和带动作用。

C项错误，土地出让一般指国有土地出让。国有土地出让是指国家以土地所有者的身份将土地使用权在一定年限内让与土地使用者，并由土地使用者向国家支付土地使用权出让金的行为。是否享有土地出让优

惠政策不是国企能承担此角色的最主要理由。

D项错误，租购同权就是在保障当事人的合法权利的前提下，使得租房居民能够与买房居民享有同等权利的举措。租购同权下主流消费观念改变是消费者观念的改变，不是国企能承担此角色的最主要理由。

故正确答案为B。

14、本题考查经济常识。

A项正确，监管部门和行业协会对“炒鞋”行为应该通过严格监管和积极引导，让“鞋穿不炒”成为一种共识。唯有构建理性市场和交易环境，才能让更多真正热爱球鞋的人享受到球鞋带来的愉悦，引导行业健康发展。

B项错误，内幕交易指相关信息的知情人员利用其掌握的未公开的价格敏感信息进行买卖活动，从而谋取利益或减少损失的欺诈行为。内幕交易会严重破坏市场交易秩序，严重干扰市场功能发挥，不利于推动行业的发展。

C项错误，“限量版”是商家的营销手段，目的在于给消费者产生“物以稀为贵”的错觉，吸引消费者购买。大量“限量版”商品涌入市场，会让大众产生求异心理和攀比心理，不利于消费者树立正确消费观。

D项错误，商家和企业推出联名款、纪念款或特色配色的球鞋限量发售，是一种常见的营销策略。但过度使用“饥饿营销”，让大量球鞋流入混乱无序的“二级市场”，使得大量真正热爱相关品牌的消费者难以买到心仪的球鞋，品牌形象和美誉度都将受损。暴利还会鼓励盗版，进一步损害企业的长远发展。选项仅表示有助于提升商家和企业的市场份额，过于绝对。

故正确答案为A。

15、本题考查经济常识。

A项错误，从支付的安全性来看，移动支付通过人工智能引擎在0.1秒时间内从多个维度通过上百个风险模块对用户的每笔交易进行安全扫描，确保交易安全。但仍然存在资损率（即资金被盗而产生损失），故选项中“绝对安全”表述错误。

B项正确，对于消费者，手机支付可以在实体店直接扫描二维码，轻松付款。而无需携带现金，无需找零，无需刷卡签字，很大程度上节约了时间，提高支付效率，并且可以避免假币问题带来的麻烦。

C项错误，虚拟货币是以数字形式存在的，可以用来支付商品和服务的货币，通常是在去中心化的区块链网络上发行的，并且不受任何政府或组织的控制。目前大多数电子支付的消费场景并非“虚拟货币”，故选项表述错误。

D项错误，根据题干表述，“手机支付覆盖了餐饮、超市、休闲等衣食住行消费场所”，在这类消费场所中，手机支付简化了收款手续，即减少了“收银员”等就业。故选项中“增加就业机会”表述不准确。

故正确答案为 B。

16、本题考查宪法。

A 项正确，B、C、D 项错误。根据《城市居民委员会组织法》第二条规定：“居民委员会是居民自我管理、自我教育、自我服务的基层群众性自治组织。”第六条规定：“居民委员会根据居民居住状况，按照便于居民自治的原则，一般在一百户至七百户的范围内设立。居委会的设立、撤销、规模调整，由不设区的市、市辖区的人民政府决定。”

故正确答案为 A。

17、本题考查刑法。

A 项错误，根据《刑法》第二百六十七条规定，抢夺罪是指以非法占有为目的，抢夺公私财物，数额较大的，或者多次抢夺的行为。本题中甲遭受追击，情急之下夺过丙的摩托车避险，甲并非是以非法占有为目的公然抢夺车辆，因此甲不构成抢夺罪。

B 项错误，根据《刑法》第二十条第一款规定：“为了使国家、公共利益、本人或者他人的人身、财产和其他权利免受正在进行的不法侵害，而采取的制止不法侵害的行为，对不法侵害人造成损害的，属于正当防卫，不负刑事责任。”正当防卫必须针对不法侵害人本人实行。本题中，甲的生命受到了乙的威胁，情急之下夺过丙的摩托车避险，由于乙紧追不舍，导致甲损害了“第三人”丙的摩托车，甲并没有对不法侵害人采取直接措施，所以甲的行为不构成正当防卫。

C 项正确，根据《刑法》第二十一条规定：“为了使国家、公共利益、本人或者他人的人身、财产和其他权利免受正在发生的危险，不得已采取的紧急避险行为，造成损害的，不负刑事责任。”本题中，甲夺过丙的摩托车是迫不得已，是为了避免自己的生命遭受威胁而侵害了第三人丙的健康权和财产权，根据法律规定，甲构成紧急避险。

D 项错误，根据《刑法》第二百七十五条规定：“故意毁坏公私财物，数额较大或者有其他严重情节的，处三年以下有期徒刑、拘役或者罚金；数额巨大或者有其他特别严重情节的，处三年以上七年以下有期徒刑。”本题中甲并非故意毁坏丙的摩托车，因此不成立故意毁坏财物罪。

故正确答案为 C。

18、本题考查宪法。

A、B 项正确。根据《监察法》第四十三条第一款规定：“监察机关采取留置措施，应当由监察机关领导人员集体研究决定。设区的市级以下监察机关采取留置措施，应当报上一级监察机关批准。省级监察机关采取留置措施，应当报国家监察委员会备案。”

C 项错误，根据《监察法》第四十三条第二款规定：“留置时间不得超过三个月。在特殊情况下，可以

延长一次，延长时间不得超过三个月。省级以下监察机关采取留置措施的，延长留置时间应当报上一级监察机关批准。监察机关发现采取留置措施不当的，应当及时解除。”因此，监察机关决定采取留置措施后，特殊情况下，可以延长留置时间。

D项正确，根据《监察法》第二十二条规定：“被调查人涉嫌贪污贿赂、失职渎职等严重职务违法或者职务犯罪，监察机关已经掌握其部分违法犯罪事实及证据，仍有重要问题需要进一步调查，并有下列情形之一的，经监察机关依法审批，可以将其留置在特定场所：……（二）可能逃跑、自杀的；……”

本题为选非题，故正确答案为C。

19、本题考查经济法。

根据《产品质量法》第四十三条规定：“因产品存在缺陷造成人身、他人财产损害的，受害人可以向产品的生产者要求赔偿，也可以向产品的销售者要求赔偿。属于产品的生产者的责任，产品的销售者赔偿的，产品的销售者有权向产品的生产者追偿。属于产品的销售者的责任，产品的生产者赔偿的，产品的生产者有权向产品的销售者追偿。”

A项错误，美容院有保证商品和服务安全的义务，所以不能以不知道护肤品为假冒伪劣产品为由拒绝承担责任。

B项错误，如果是产品生产的问题，美容院可以向生产厂商追偿，这并不影响美容院对顾某的赔偿责任。

C项错误，顾某作为消费者，对产品缺陷无需承担责任。

D项正确，本题中，美容院销售的产品存在缺陷造成顾某人身损害，违反了保证商品和服务安全的义务，应当承担全部责任。

故正确答案为D。

20、本题考查法律常识。

A项正确，根据《民法典》第一千零二十条规定：“合理实施下列行为的，可以不经肖像权人同意：（一）为个人学习、艺术欣赏、课堂教学或者科学研究，在必要范围内使用肖像权人已经公开的肖像；（二）为实施新闻报道，不可避免地制作、使用、公开肖像权人的肖像；（三）为依法履行职责，国家机关在必要范围内制作、使用、公开肖像权人的肖像；（四）为展示特定公共环境，不可避免地制作、使用、公开肖像权人的肖像；（五）为维护公共利益或者肖像权人合法权益，制作、使用、公开肖像权人的肖像的其他行为。”老师在艺术课堂中投屏刘德华的照片符合上述第（一）项规定的情形，可以不经肖像权人同意。

B、C、D项错误，根据《民法典》第一千零一十九条规定：“任何组织或者个人不得以丑化、污损，或者利用信息技术手段伪造等方式侵害他人的肖像权。未经肖像权人同意，不得制作、使用、公开肖像权人的肖像，但是法律另有规定的除外。未经肖像权人同意，肖像作品权利人不得以发表、复制、发行、出租、

展览等方式使用或者公开肖像权人的肖像。”照相馆把为顾客拍摄的照片陈列在大堂墙壁上展示、小王在班级活动中拍摄“女神”的照片用于私下观赏、小李将与小张一起外出旅游的照片发布在微信朋友圈中，需要经过肖像权人同意才能实施上述行为。

故正确答案为 A。

21、本题考查法律常识。

A、B、C 项正确，根据《行政诉讼法》第十二条第一款规定：“人民法院受理公民、法人或者其他组织提起的下列诉讼：……（二）对限制人身自由或者对财产的查封、扣押、冻结等行政强制措施和行政强制执行不服的；……（五）对征收、征用决定及其补偿决定不服的；（十）认为行政机关没有依法支付抚恤金、最低生活保障待遇或者社会保险待遇的；……”因此，A、B、C 项都属于行政诉讼范围。

D 项错误，根据《行政诉讼法》第十三条规定：“人民法院不受理公民、法人或者其他组织对下列事项提起的诉讼：……（二）行政法规、规章或者行政机关制定、发布的具有普遍约束力的决定、命令；……”因此，本项不属于行政诉讼的受案范围。

本题为选非题，故正确答案为 D。

22、A、C 项正确，根据《民法典》第二百一十二条第一款规定：“登记机构应当履行下列职责：（一）查验申请人提供的权属证明和其他必要材料；（二）就有关登记事项询问申请人；……”因此，不动产登记机构可以就有关登记事项询问赵某，也可以查验赵某提供的权属证明和其他必要材料。

B 项错误，根据《民法典》第二百一十三条规定：“登记机构不得有下列行为：（一）要求对不动产进行评估；……”因此，登记机构不得要求赵某对别墅的价值进行评估。

D 项正确，根据《民法典》第二百一十二条第二款规定：“申请登记的不动产的有关情况需要进一步证明的，登记机构可以要求申请人补充材料，必要时可以实地查看。”因此，登记机构认为赵某申请登记的别墅相关情况需要进一步证明，可以要求赵某补充材料，并在必要时实地查看。

本题为选非题，故正确答案为 B。

23、本题考查政治常识。

A 项错误，人民是国家的主人，国家的一切权力属于人民。人大代表是人民代表大会的主体，是国家权力机关的组成人员，担负着代表人民管理国家事务的责任。党的十八大以来，习近平总书记多次强调，要坚持人民主体地位，发挥代表主体作用。故人大代表应坚持“人民主体地位”而非“公民主体地位”。

B 项错误，立法权是依照法定程序制定、修改、补充、解释或者废止法律法规的权力。根据《中华人民共和国宪法》第五十八条规定：“全国人民代表大会和全国人民代表大会常务委员会行使国家立法权。”

故立法权是人民代表大会及其常委会的职权，题干中“人大代表”无法直接行使立法权。

C项错误，我国人大代表代表人民参与到民主决策中，但不等于享有决策权。决策权、决定权属于决策机关。我国决策机关是人民代表大会，政府是权力机关的执行机关，具有一定决策权，称为政府决策。故选项中人大代表“科学决策”表述错误。

D项正确，根据题干表述，进行调查研究工作时，各级人大代表应深入群众中间，俯下身子听民意，充分发挥人大代表在围绕中心、服务大局的职能作用，稳步提高广大群众对政府工作的知晓率与支持度，用实际行动践行以人民为中心的发展理念。

故正确答案为D。

24、本题考查政治常识。

A项错误，印发政府采购负面清单有利于杜绝腐败说法太过绝对。

B项错误，印发政府采购负面清单未体现政府转变执政理念、减少行政审批，不符合题意。

C项正确，某省财政厅印发政府采购负面清单，明确规定了在政府采购招标文件中不得设置的条款，目的是为了 避免政府人员在采购中通过设置一些不合理和歧视性准入条件，排斥潜在供应商参与政府采购活动以及违规给予特定供应商优惠待遇等违反公平竞争的行为，有利于规范政府采购行为，营造公平竞争的政府采购环境，从而提高政府的公信力。

D项错误，印发政府采购负面清单在资源配置中起决定性作用表述错误，市场应在资源配置中起决定性作用。

故正确答案为C。

25、本题考查政治常识。

A项错误，推动政务新媒体有序发展，不是为了强化行政职能。

B项错误，推动政务新媒体有序发展，适应媒介生态、创新传播手段的努力，也彰显着转变政府职能、打造服务型政府的决心。不是为了开展媒体技术研发。

C项正确，《国务院办公厅关于推进政务新媒体健康有序发展的意见》中指出：“政务新媒体是移动互联网时代党和政府联系群众、服务群众、凝聚群众的重要渠道，是加快转变政府职能、建设服务型政府的重要手段·····是探索社会治理新模式、提高社会治理能力的重要途径”。推动政务新媒体有序发展，有利于政府回应解决民生问题，提升治理效能。

D项错误，推动政务新媒体有序发展，有利于完全公开权力运行过程，说法太过绝对。

故正确答案为C。

26、本题考查政治常识。

A 项正确，“支部统领”即坚持党的领导，有利于加强乡村党支部的建设，发挥党组织的战斗堡垒作用。

B 项正确，“主体分工”即坚持群众主体，有利于创新村民自治实现手段，切实维护村民的主人翁地位。

C 项正确，“支部统领、主体分工”中融入了依法治理、网格化管理理念，涵盖“议事会协商决策、村委会执行、理事会落实、监事会监督”等不同分工，有利于规范村级各类事务治理，充分保障村民民主管理权利。

D 项错误，“支部统领、主体分工”与丰富基层民主协商形式，健全基层行政系统决策机制无关。

本题为选非题，故正确答案为 D。

27、本题考查政治常识。

A 项错误，国际关系的实质是一种利益关系，维护国家利益是我国对外活动的出发点和落脚点，而不是以各国共同利益为出发点。

B 项正确，二十大报告指出，构建人类命运共同体是世界各国人民前途所在。万物并育而不相害，道并行而不相悖。只有各国行天下之大道，和睦相处、合作共赢，繁荣才能持久，安全才有保障。

C 项错误，中国积极致力于全球多边治理，但不是“主导”，中国尊重各国人民自主选择发展道路的权利，维护国际公平正义，反对把自己的意志强加于人，反对干涉别国内政，反对以强凌弱。

D 项错误，对外开放是我国长期的基本国策，共商共建共享是我国践行的全球治理观。独立自主原则才是我国外交政策的基本立场。

故正确答案为 B。

28、本题考查政治常识。

A 项错误，题干中的表述并没有限制网络传媒特有的共享沟通互动等功能，新闻客户端的操作只是导致了用户获取大量的相似内容。

B 项正确，文化市场具有自发性：文化市场主体在价值规律支配下，会自发地追求自身的利益。传媒具有商业性：在市场经济条件下，传媒以盈利作为市场活动的目的。题干中的表述是由于文化市场的自发性和传媒的商业性，引发了令人忧虑的现象。

C 项错误，落后文化是指各种带有迷信、愚昧、颓废、庸俗等色彩的文化，常以传统习俗的形式表现出来；腐朽文化是指封建主义和资本主义的腐朽思想，如殖民文化、淫秽色情文化等。选项夸大了题干中文化现象的影响。

D 项错误，阅读者被“信息茧房”包围，重复获得内容相似的推送，不会拓宽阅读者的视野，反而会使阅读者的思维变得简单狭隘。

故正确答案为 B。

29、本题考查科技常识。

A 项正确，蚊子体表有外骨骼，起到保护和支撑体内柔软器官的作用，其坚硬的质地可以承受雨滴的压力，蚊子外骨骼的承受力是雨滴压力的 5 倍到 20 倍。

B 项错误，蚊子身上并没有钢盔一样的防水膜，而是有一层疏水性的细毛，这些细毛使得蚊子的身体在随着雨滴下落的过程中与雨滴保持分隔状态，进而顺利和水滴分离。

C 项正确，蚊子体重很轻，在被雨水砸到后，它们不会减速太多，而是会随着雨滴下沉几厘米，之后在百分之一秒内转身，抖落身上的雨滴，重新飞到空中。

D 项正确，蚊子的头部、胸部、腹部都很小巧，反而是三对足都很细长，因此雨滴很难砸中它的要害，一般只会砸到它们的足。

本题为选非题，故正确答案为 B。

30、本题考查公文写作与处理。

A 项正确，根据《党政机关公文处理工作条例》第八条规定：“公报适用于公布重要决定或者重大事项”，是党政机关和人民团体公开发布重大事件或重要决定事项的报道性公文，会议公报的标题由会议名称+文种名称组成。选项符合要求。

B 项错误，选项文种使用不规范，根据《党政机关公文处理工作条例》，公文必须一文一事。不得在报告等非请示性公文中夹带请示事项。

C 项错误，选项标题冗长，该标题中存在两个“关于”，应当删除第一个“关于”。

D 项错误，转发类通知是用于转发上级机关、同级机关和不相隶属机关的文件时使用的通知。“通知的通知的通知”属于文种重叠，可以省略中间环节。

故正确答案为 A。

31、第一空，“书山有路勤为径，学海无涯苦作舟”出自唐代诗人韩愈的《古今贤文·劝学篇》，旨在劝人们不怕困难多读书，只有勤奋学习才能成功，故横线处应该体现出正向的劝解之意，感情色彩积极。

A 项“良训”指有益的规劝，符合文意及感情色彩，保留；B 项“告诫”指警告劝诫某人不要做某事，与文意不符，排除；C 项“古训”指古代流传下来的、可以作为准则的话，虽能搭配但作为中性词，不如“良训”感情色彩适合，排除；D 项“劝诫”指劝告人们改正缺点错误、警惕未来，文段没有体现改正错误，排除。

第二空代入验证，A 项“秘诀”指能产生良好效果而不让人知道的巧妙方法或技术，符合文意，当选。

故正确答案为 A。

32、第一空，搭配“国家主权”，且根据后文“网络主权连接国际与国内，沟通现实与虚拟，贯穿政治与法律……且植根于现代法理之中的科学概念”可知，网络主权是国家主权在网络空间的一种

体现。A项“延长”向长的方向发展，多用于时间、长度等，与“国家主权”搭配不当，排除；B项“延展”延长并伸展、C项“延续”照原来的样子持续下去、D项“延伸”在宽度、大小、范围上向外伸展，均符合文意，保留。

第二空，根据前后文“既有现实承载”“还有内在逻辑”可知，网络主权有具体内容，B项“关涉”指关系到或有关，C项“涉猎”指涉及或泛读，均与文段无关，排除；D项“指涉”动作的指向和涉及的事物，含有具体内容，符合文意，当选。

故正确答案为D。

33、本题第一空不易区分，可从第二空入手。

第二空，搭配“人才战略”，A项“实施”指实际施行，常搭配“政策”“制度”“战略”“工程”等，C项“布署”指安排或布置，常搭配“工作”“战略”等，置于此处均搭配得当，保留；B项“建构”指建立构成，常搭配“生态”“格局”“命运共同体”等，D项“开发”指对矿山、森林、水力等自然资源开始加以利用，或开拓发展，均与“人才战略”搭配不当，排除。

第三空，搭配“需求”，A项“满足需求”是固定搭配，保留；C项“实现”常搭配“目标”“价值”等，与“需求”搭配不当，排除。

第一空代入验证，A项“推动”使事物前进或发展，符合文意，当选。

故正确答案为A。

34、文中“人性之圆融”指人性是没有矛盾、障碍的一种境界，根据文意可知，后文应该体现本心之灵动、文化之丰厚、科学之理性、技艺之精湛、人性之圆融，这5个方面的关系，且是由浅入深、由轻到重的关系，故四个空应形成递进关系。选项中“互渗”指互相渗透、缓慢地试图透到对方中去，“辉映”指映射或互相照耀，“凝练”指言简意赅或提取精华，“汇合”指聚集并有所接触。故关系应首先互相照耀使感受到对方、试图渗透到对方中间去，再是结合为一体，最后是提取汇合后的精华，故应是“辉映”“互渗”“汇合”“凝练”，对应B项。

故正确答案为B。

35、文段先讲了朱熹对虞允文颇有微词、有失公允，然后通过转折词“但”介绍虞允文对朱熹还是非常敬重，在孝宗皇帝面前给予其高度评价。文中转折句是重点，体现了虞允文是心胸宽广、海纳百川、以德报怨的人，对应C项。

A项“爱才如命”“任人唯贤”、D项“重用贤才”均只能体现爱才，不能体现虞允文在朱熹对自己有失公允的情况下仍给予高度评价，偏离文意；且爱才的是孝宗皇帝，不是虞允文，虞允文仅仅给予公正评价，排除；

B项“与人无争”指不跟社会上的人发生争执，是一种消极的回避矛盾的处世态度，文中未有体现，表述无中生有，排除。

故正确答案为C。

36、本题为接语选择题，需重点关注文段尾句。尾句以“可以说”总结前文，指出“韦伯传统”因为包含面较广，所以可能成为综合分析农业问题的基础。故接下来应继续围绕韦伯传统对综合分析农业问题的影响论述，对应D项。

A项，“农业社会学的三大理论传统”无中生有，且与尾句核心话题不一致，排除；

B、C项，“马克思传统”“恰亚诺夫传统”并非尾句核心话题，属于表述片面的原因解释，非重点，且“区别”不符合尾句话题，排除。

故正确答案为D。

37、文段开篇通过“诺罗敦·西哈努克亲王”的例子，引出柬埔寨人姓氏的话题。随后通过转折词“不过”强调贵族继承父姓，平民姓氏不能继承父姓，姓氏往往代代不同。故文段主要论述了柬埔寨人父姓继承的风俗习惯，对应A项。

B项，“区别”表述不明确，贵族与平民姓氏的区别正是在于“父姓继承”，相较之下A项更加明确，排除；

C项“平民以（祖）父名作为自己的姓”和D项“只有贵族才有继承父姓的权利”均表述片面，文段讨论的是柬埔寨平民与贵族父姓继承的习惯，排除。

故正确答案为A。

38、A项，“不能牺牲个人数据财产权”文段未提及，无中生有，排除；

B项，根据文段信息“这些新型的数据权利赋予了个体与平台谈判的权利”可知，该项表述是基于文段的合理推断，符合文意，当选；

C项，根据文段信息“明晰产权是建立数据流通规则和秩序的前提条件”可知，“有助于数据发挥更大的价值”无中生有，排除；

D项，根据文段信息“明晰产权是建立数据流通规则和秩序的前提条件”可知，文段仅论述了“建立数据流通规则的前提条件”，选项“保障私密数据的前提条件”无中生有，排除。

故正确答案为B。

39、文段开篇通过程度词“最”强调有关朱丽叶的“遗址”令人向往，随后以转折词“但是”指出有关朱丽叶的传说和“遗迹”为维罗纳被列为文化遗产助力，尾句补充说明如果可以到维罗纳亲眼所见，更会相信朱丽叶的传说与“遗迹”。故文段为“总分”的结构，重点在于首句，对应A项。

B项，“故事纯属虚构，不可当真”属于转折前的表述，非重点，排除；

C项，“保存着许多古罗马和文艺复兴的古迹”对应首句，话题引入，且位于转折之前，非重点，排除；

D项，“主要归功于”与文意不符，文段仅说明“遗迹”是依据之一，排除。

故正确答案为A。

40、文段首句介绍一种历史研究现象，即同一史料之前受重视，后期又不受重视。接着分析了产生这种现象的原因，即史料的价值是研究者人为赋予的，某些史料研究者难索其解。尾句作者对于这种现象进行评价，提出观点，即可以不理解史料，但是不能认为史料无价值。故文段为“分总”结构，意在强调史料是客观的，不应人为赋予史料价值高低，对应B项。

A项，文段仅体现“史料价值赋予”较为主观，未体现史料内容本身具有主观性，排除；

C项，“丰富性”偏离重点，排除；

D项，“时代性”对应“随着宏观历史时代的变迁”部分，属于转折前内容，非重点，排除。

故正确答案为B。

41、横线在中间，故所填句子应承上启下，把握前后文核心话题。横线前对“文化-基因密码”下定义，即它是“本我”的内在因素，是民族实现自我认同的核心内容。横线后通过反面论证再次强调，如果不理解这个核心内容，那么会无法感知自己是该民族的一份子。因此横线前后均在围绕“自我认同”这个核心话题论述，横线处也应包含此话题，对应C项。

A、B、D项均未提到“自我认同”这一主题词，无法承接上下文，排除。

故正确答案为C。

42、文段首句介绍了遥感是什么，即它是一种成像观测，是一种能获取被观测对象信息的技术。第二句则介绍了遥感是利用成像光谱仪获取相关的信息，得到连续光谱曲线，即遥感的原理。文段为并列关系，需概括两方面内容，对应A项。

B项的“特点”、C项的“价值”与D项的“应用”，文段均未提及，无中生有，排除。

故正确答案为A。

43、横线在开头，故所填句子起到总领全文的作用，应结合后文核心内容进行分析。后文首先介绍平原上同伴们结伴而行、相濡以沫，而一旦进入森林遇到荆棘后，各人便开始走各人的路了。最后两句指出人生都会经历这一过程，即从无忧无虑、结伴而行的少年期走向孤独。因此首句需要概括全文，以“从平原走进森林”的路程作比，体现人生经历“从群体到孤独”的成长阶段，对应B项。

A项，“荆棘之路”仅是人生路的一部分，表述片面，排除；

C项，“平原”与“森林”，D项，“欢乐”与“孤独”，前后二者为并列结构，均不能体现人生都是

从平原走进森林的成长过程，排除。

故正确答案为 B。

44、文段首句提出老鼠在其大脑海马体中有心理地图，并通过电极植入其大脑，证明老鼠的海马体确实在探索周围环境时进行了记录和记忆。接下来介绍了老鼠的海马体除了记录位置，还会让老鼠睡觉时好像能梦到曾去过的地方。尾句通过程度词“不仅如此”表递进，进一步强调老鼠大脑中的神经元还能让其做梦去到之前无法通过的通道抓住食物。故文段重点在程度词之后，对应 C 项。

A 项，对应文段首句，非重点，且“做梦”表述不明确，未提及做梦的具体内容，排除；

B 项，“梦到以前去过的地方”对应程度词之前，非重点，排除；

D 项，根据“老鼠会在大脑海马体中存储这个世界的心理地图”可知，选项表述偷换概念，排除。

故正确答案为 C。

45、A 项，根据“网络社会中依然会有沉默的螺旋式思维带来的影响”可知，选项偷换语气，文段仅是带来影响，而不是影响很大，排除；

B 项，根据“网络的匿名化……不同声音得以‘另起炉灶’”可知，网络弱化了“‘沉默的螺旋’效应”，表述正确，当选；

C 项，根据“网络社会的兼容性和圈群化，还使一些少数的不同声音得以‘另起炉灶’”可知，文段并未提及网络的特性与“沉默的螺旋”相悖，无中生有，排除；

D 项，根据“网络社会中依然会有沉默的螺旋式思维带来的影响，因为我们害怕被孤立”可知，选项偷换概念，排除。

故正确答案为 B。

46、本题为词句理解题，首先定位原文“前辈”，并结合文本内容进行分析。文段开篇介绍 CRISPR（基因编辑生物技术）的由来和强大功能。接着指出 CRISPR 出现后，它的“前辈”便无人问津。故文段中的“前辈”指的是 CRISPR 基因编辑技术诞生之前的相关技术，对应 B 项。

A、D 项，“生物技术”均扩大范围，文段特指基因编辑生物技术，排除；

C 项，“细胞重组技术”无中生有，排除；

故正确答案为 B。

47、文段开篇提出“酸奶增寿”的说法不靠谱。后文详细解释酸奶从未列为我国保健食品，只是为了让乳糖不耐受的人群安心摄入牛奶，以论证首句观点。接着通过并列标志词“也”指出“酸奶无益”的说法也存在纠正过度的情况。酸奶中的确存在有益健康的物质，而非完全没有益处。故文段为并列结构，对应 A 项。

B项，“酸奶无益说”对应文段后半段，表述片面，排除；

C项，“提高肠道机能”对应文段后半段，表述片面，排除；

D项，“乳糖不耐受人群食用牛奶”对应文段前半段，表述片面，排除。

故正确答案为A。

48、A项，根据“国内还没有太多食物银行，但募捐食物再分配给贫困人员的‘类食物银行’济困方式还是很多的”可知，“多样济困方式”与“食物银行不流行”之间并无因果逻辑关系，故此项偷换概念，排除；

B项，根据“虽然食物银行概念来自国外，但是惜食分享核心理念中国早已有之。隋朝时期……”可知，隋朝时期出现了惜食分享理念，而非“食物银行核心理念”，故此项偷换概念，排除；

C项，根据“将募集而来的可能被浪费的食物打包、派送给社区困难家庭及农民工子弟，以倡导‘惜食分享’理念，减少食物浪费”可知，选项表述正确，当选；

D项，“赈灾济困是中国减少食物浪费的主要手段”，文段没有论述中国减少食物浪费的主次要手段，无中生有，排除。

故正确答案为C。

49、A、B项，根据原文“第一定律，机器人不得伤害人类，或者目睹人类遭受危险而袖手不管”可知，机器人因故障无法替代主人劳作或因电量不足无法正常工作，均未故意伤害人类，没有违背第一定律，A、B项排除；

C项，根据原文“第一定律……”，可知情感治疗机器人在没有相爱的男女间撒谎，伤害了男女感情，违背了第一定律，当选；

D项，根据原文“第一定律……”，可知机器人探索过程中遇到可能会伤害自身的放射性物质，选择徘徊，并未伤害人类，没有违背第一定律，排除。

本题为选非题，故正确答案为C。

50、文段开篇通过“近年来”引出话题“网络问诊”，并指出网络问诊具有方便简单且保密等多种好处。随后通过转折词“但”强调网络问诊存在问题，存在风险隐患。接着详细说明其风险隐患所在，即目前网络问诊缺少法律法规的明确规范。尾句通过专家的观点提出对策，即应对网络问诊缺少监管的问题，相关部门应加大监管力度。故文段重点在于尾句对策，对应D项。

A项，“受追捧”属首句背景引入，转折前非重点，排除；

B项，“不靠谱”表述绝对，网络问诊有好处也存在隐患，文段更强调其存在风险隐患，而非完全批判，故排除；

C项，“存隐患”对应问题表述，非重点，排除。

故正确答案为D。

51、A项，根据“如果说，在传统的虚拟社区和网络游戏中……那么虚拟现实技术带给人们的将是前所未有的全方位的沉浸体验”可知，该项表述正确，排除；

B项，根据“它告诉我们，人类有时候很难分清虚拟和现实之间的界限，甚至会让虚拟世界中发生的事情影响现实世界”及“通过数字技术构建出来的现实如此逼真，辨别虚拟和现实之间的界限变得更加困难，普罗透斯效应也会更强”可知，虚拟现实技术会使普罗透斯效应更强，即对人的现实行为产生较大影响，该项表述正确，排除；

C项，根据“它告诉我们，人类有时候很难分清虚拟和现实之间的界限，甚至会让虚拟世界中发生的事情影响现实世界”及“在传统的虚拟社区和网络游戏中使用虚拟形象还是一种较浅的沉浸体验”可知，该项表述正确，排除；

D项，根据文段可知，虚拟世界中发生的事情会影响现实世界，但文段未提及这些事情是否会在现实世界中得到印证，故该项无法从文段中推断出，当选。

本题为选非题，故正确答案为D。

52、A项，根据“简谱的记谱法与中国民间流行的工尺谱接近，且简谱记录音符的高低长短更简便、精确，所以简谱在中国得以长足发展”可知，“简谱记谱法与民间流行的工尺谱相似”是简谱在中国得以长足发展的原因，而非中国民乐推崇简谱的原因，排除；

B项，根据“特别在民乐方面，简谱契合了中国民乐口授心传这一特点……这些都是简谱备受中国民乐推崇的重要原因”可知，该项属于中国民乐推崇简谱的原因之一，当选；

C项，根据“在乐器演奏上，中国民乐很多特殊的表情力度符号，使用简谱清晰明了”可知，于中国民乐本身具有很多特殊的符号而言，简谱的使用优点是“清晰明了”而非“能记录”，偷换概念，表述错误，排除；

D项，根据“在乐器演奏上，中国民乐很多特殊的表情力度符号，使用简谱清晰明了，如果用五线谱则变得复杂”可知，简谱相比五线谱而言更“清晰明了”，但“更适合”得不出，无中生有，排除。

故正确答案为B。

53、A项，根据“新开发的一种检测方法能快速诊断呼吸道感染”可知，表述正确，排除；

B项，根据“在快速诊断出病人感染的病毒是否属于对抗生素具有耐药性的种类后，医护人员在治疗中就能有针对性地避免使用抗生素”可知该方法确实有助于应对抗生素耐药性问题。（通过避免使用抗生素应对）

C项，“新开发的一种检测方法能快速诊断呼吸道感染，提高治疗效率·····”新方法只能“快速诊断”，有助于提高治疗效率意为速度提高了，效率就高了，但不代表是新方法在“治疗”，表述错误，当选。

D项，根据“新方法主要利用棉签采集病人的分泌物样本，然后放到一台便携式检测仪器中处理，再结合一个分子检测就能在1小时内快速地获得诊断结果，传统方法则需要在实验室中分析数天”可知，与传统方法相比，新方法更为快捷，故该项表述正确，排除。

本题为选非题，故正确答案为C。

54、文段开篇通过一项研究结果引出话题，即“被视为单一物种的中国大鲵至少由5个隐存物种组成”。接着指出这一发现意味着过去我们对中国大鲵的保护行为也许对其带来了消极影响。最后通过结论词“导致”再次强调这一危害。故文段整体为分总结构，旨在强调我们所认为的保护对于中国大鲵来说反而是一种伤害，对应D项。

A项，表述绝对，文段仅论述“也许其中一些隐存物种已经遭遇灭顶之灾”，且无法体现是人们的“保护”导致的，排除；

B项，“基因同质化”属于大鲵遭遇危机的表现而非原因，该项逻辑有误，且表述绝对，排除；

C项，“新发现”“新的问题”表述不明确，排除。

故正确答案为D。

55、文段开篇通过“有人认为·····”引出话题，即“科技强国的主要标志是军事强国，·····，与产业不一定有直接关系”。接着进行转折，强调“掌握竞争和发展主动权”才是国防安全的基础，产业自主性才是国家安全的保障，最后就“网络信息安全”这一方面进行举例说明。故文段整体为分总分结构，旨在强调产业自主的重要性，对应D项。

A项，“网络信息安全是国家安全的保障”文段未提及，无中生有，排除；

B项，“先进科技是国家安全保障的基础”文段未提及，无中生有，排除；

C项，对应转折之前，非重点，排除。

故正确答案为D。

56、第一步：先确定逻辑关系最为明显的逻辑顺序。

观察题干，五个事件主要讨论的是“被毒虫咬伤”的过程。逻辑关系的先后顺序比较明显的是事件①和事件④，先有去“野外郊游”，后来发生“被毒虫咬伤”的事件，事件④在事件①前，且二者应相连，排除B项。

第二步：逐一对照选项并判断正确答案。

根据第一步得到的结果，A、C、D项符合，通过分析事件②和事件③可知，应该先“紧急临时排毒处理”，再“送医院救治”，即事件③在事件②前面，据此排除A、C项。

故正确答案为D。

57、第一步：先确定逻辑关系最为明显的逻辑顺序。

观察题干，五个事件主要讨论的是“如何学习”的过程。逻辑关系的先后顺序比较明显的是事件④和事件⑤，应该先“顺利完成学习”，再“反思评估学习情况”，即事件④在事件⑤前面，据此排除A、C项。

第二步：逐一对照选项并判断正确答案。

根据第一步的结果可以判断只有B、D项符合。通过分析事件②和事件③可知，应该先设定学习目标再制定学习计划，因此③应在②之前，排除B项。

故正确答案为D。

58、第一步：先确定逻辑关系最为明显的逻辑顺序。

观察题干，五个事件是描述的是不同季节的景色，所以可以根据其出现的季节顺序来排列。竹外桃花三两枝是春天的景色，映日荷花别样红是夏天的景色，满园金菊郁金黄是秋天的景色，墙角数枝梅，凌寒独自开是冬天的景色，按照季节的时间顺序，应该是①⑤④③，排除A、C、D项。

第二步：逐一对照选项并判断正确答案。

根据第一步得到的结果，只有B项符合。

故正确答案为B。

59、第一步：先确定逻辑关系最为明显的逻辑顺序。

观察题干，五个事件主要讨论的是“优化工作流程”的过程。逻辑关系的先后顺序比较明显的是事件③、事件④，只有先“打破数据壁垒”，才能“整合数据资源”，且只有打破数据壁垒，整合数据资源后，才会有①②⑤中所提到的工作效果，即事件④在事件③之前且二者应紧密相连，据此排除B、C、D项。

第二步：逐一对照选项并判断正确答案。

根据第一步的结果可以判断只有A项符合。

故正确答案为A。

60、第一步：先确定逻辑关系最为明显的逻辑顺序。

观察题干，五个事件主要讨论的是“遭遇暴风雪后全员除冰共渡难关”的过程。逻辑关系的先后顺序比较明显的是事件①和事件③，“交通中断城市冰封”导致“居民生活节奏被扰”，即事件①在事件③前面，据此排除A、D项。

第二步：逐一对照选项并判断正确答案。

根据第一步的结果可以判断只有 B、C 项符合。通过分析事件④和事件⑤可知，同心协力共渡难关，是全员出动清雪除冰的最终结果，因此⑤应该是尾句，排除 C 项。

故正确答案为 B。

61、元素组成相似，优先考虑样式规律。观察发现，第一组汉字构成的图形中，均包含“日”字，考虑局部遍历。第二组前两个汉字构成的图形中均包含“贝”字，故？处应选择包含“贝”的图形，只有 D 项符合。




故正确答案为 D。

62、元素组成相同，优先考虑位置规律。观察发现，第一组图形中，图 1 经过上下翻转得到图 2，图 2 经过左右翻转得到图 3。第二组图形中，图 1 经过上下翻转得到图 2，故？处应选择由图 2 经左右翻转得到的图形，只有 D 项符合。

故正确答案为 D。

63、元素组成相同，优先考虑位置规律。观察发现，每幅图黑块位置明显发生变化，优先考虑平移。每列黑块数量相同，优先考虑按列平移。第一列小黑块依次向下平移一格，第二列小黑块依次向下平移两格，第三列小黑块依次向上平移一格，第四列小黑块依次向上平移两格，到头时均循环走，故？处应选择由图 4 按此规律得到的图形，只有 B 项符合。

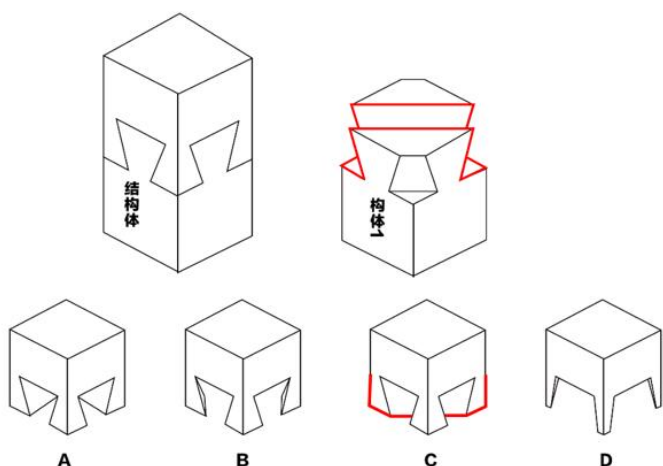
故正确答案为 B。

64、元素组成相似，优先考虑样式规律。观察发现，相同元素重复出现，优先考虑遍历。九宫格优先横向看，前两行图形中，每行白三角、白半圆各出现 2 次，、、竖线、黑三角、黑半圆各出现 1 次。故？处应选择由、白三角、黑半圆组成的图形，只有 A 项符合。

故正确答案为 A。

65、本题为立体拼合。

根据有凹必有凸，有凸必有凹的原则，如下图所示，构件 1 中红线凹陷部分必有对应的凸出部分与之相连，只有 C 项符合。



故正确答案为 C。

66、第一步：判断题干词语间逻辑关系。

黄连是入口极苦的中药，甜不是黄连的属性，二者为反向属性的对应关系。

第二步：判断选项词语间逻辑关系。

A 项：蜡像是超级写实主义雕塑艺术，假可以是蜡像的属性，二者为属性对应，与题干逻辑关系不一致，排除；

B 项：糙可以是皮肤的属性，二者为属性对应，与题干逻辑关系不一致，排除；

C 项：企稳是指股票价格在一段时间内经过下跌后，停止继续下跌并保持在一定水平上波动，跌可以是企稳的属性，二者为属性对应，与题干逻辑关系不一致，排除；

D 项：面粉通常指一种由小麦磨成的粉状物，又称白面，黑不是面粉的属性，二者为反向属性的对应关系，与题干逻辑关系一致，当选。

故正确答案为 D。

67、第一步：判断题干词语间逻辑关系。

律诗通常每首八句，绝句通常每首四句，二者都是中国传统诗歌的一种体裁，为反对关系。

第二步：判断选项词语间逻辑关系。

A 项：童话是儿童文学的一种体裁，民谣是民间流行的、赋予民族色彩的歌曲，二者没有明显的逻辑关系，与题干逻辑关系不一致，排除；

B 项：横笛和短箫是不同的吹奏乐器，二者为反对关系，与题干逻辑关系一致，当选；

C 项：绪论指书籍或论文开头说明主旨和内容的部分，批语指对文章、作业等的评语，二者没有明显的逻辑关系，排除；

D 项：家谱是一种以表谱形式，记载一个家族的世系繁衍及重要人物事迹的书，年表是依照年代顺序排

列人物事件的表格，是纪传体史书的一种体裁，家谱可能会用到年表这种体裁，二者为对应关系，与题干逻辑关系不一致，排除。

故正确答案为 B。

68、第一步：判断题干词语间逻辑关系。

踟蹰指徘徊，心中犹疑，要走不走的样子；徘徊指在一个地方来回走动，或比喻犹豫不决，二者是近义关系。

第二步：判断选项词语间逻辑关系。

A 项：踌躇指犹豫不决，拿不定主意；彷徨指徘徊，走来走去，犹豫不决，不知往哪个方向去，二者是近义关系，与题干逻辑关系一致，当选；

B 项：蜿蜒意思是蛇类行走的样子，也有曲折延伸的意思；崎岖，意思是地面高低不平的样子，二者不是近义关系，与题干逻辑关系不一致，排除；

C 项：窈窕意思是指心灵仪表兼美的女子样子；翩跹形容轻快地跳舞，二者不是近义关系，与题干逻辑关系不一致，排除；

D 项：蜘蛛和蟑螂是两种不同的节肢动物动物，二者是并列关系，与题干逻辑关系不一致，排除；

故正确答案为 A。

69、第一步：判断题干词语间逻辑关系。

蜂窝煤是因为形状像蜂窝而得名，二者是形状与命名方式的对应关系。

第二步：判断选项词语间逻辑关系。

A 项：天花是由天花病毒引起的传染病，天花粉是一味中药材，二者无明显逻辑关系，与题干逻辑关系不一致，排除；

B 项：马尾辫是因为形状像马尾而得名，二者是形状与命名方式的对应关系，与题干逻辑关系一致，当选；

C 项：水泥是水泥板的原材料，二者是原材料的对应关系，与题干逻辑关系不一致，排除；

D 项：铜版画是一种在金属版上用腐蚀液腐蚀或直接用针或刀刻制而成的版画，二者之间是原材料的对应关系，与题干逻辑关系不一致，排除。

故正确答案为 B。

70、第一步：判断题干词语间逻辑关系。

“出师未捷身先死，长使英雄泪满襟”意思是出师伐魏还没有取得胜利就先去世了，常常使后代英雄感慨泪湿衣服，两句诗之间是因果关系。

第二步：判断选项词语间逻辑关系。

A项：“不畏浮云遮望眼，只缘身在最高层”意思是不害怕浮云遮住远眺的视线，只因为站在最高的峰顶，两句诗之间是因果关系，但与题干前后顺序相反，排除；

B项：“寂寞空庭春欲晚，梨花满地不开门”意思是寂寞幽寂的庭院里春天已临近尽头，梨花落满地面而院门紧闭，描述的是一副凄凉寂寥的景象，两句诗之间是并列关系，不是因果关系，与题干逻辑关系不一致，排除；

C项：“独在异乡为异客，每逢佳节倍思亲”意思是一个人漂泊在他乡，每到过节的时候就加倍的思念新人，两句诗之间是因果关系，与题干逻辑关系一致，当选；

D项：“身无彩凤双飞翼，心有灵犀一点通”意思是身上虽没有彩凤的双翼，不能比翼齐飞，但你我内心却像灵犀一样，感情息息相通，两句诗之间没有因果关系，与题干逻辑关系不一致，排除。

故正确答案为C。

71、第一步：找出定义关键词。

“鲶鱼是沙丁鱼的天敌，为了躲避鲶鱼，沙丁鱼需要在水中拼命游动，反而激发出旺盛的生命力”

第二步：逐一分析选项。

A项：富有危机意识的经理张大斌即“鲶鱼”，员工即“沙丁鱼”，张大斌的到来和公司职位的开放性，激发了员工的工作热情，符合“鲶鱼是沙丁鱼的天敌，为了躲避鲶鱼，沙丁鱼需要在水中拼命游动，反而激发出旺盛的生命力”，符合定义，排除；

B项：狼即“鲶鱼”，羊即“沙丁鱼”，狼群杀尽后，羊的繁殖能力下降，体弱多病，羊毛质量也大不如前，说明狼的威胁可以激发羊的生命力，符合“鲶鱼是沙丁鱼的天敌，为了躲避鲶鱼，沙丁鱼需要在水中拼命游动，反而激发出旺盛的生命力”，符合定义，排除；

C项：迪士尼即“鲶鱼”，香港海洋公园即“沙丁鱼”，迪士尼的进入促使香港海洋公园进行一系列提升，符合“鲶鱼是沙丁鱼的天敌，为了躲避鲶鱼，沙丁鱼需要在水中拼命游动，反而激发出旺盛的生命力”，符合定义，排除；

D项：工厂向工人支付远高于当地平均水平的工资，不存在威胁工人的“鲶鱼”，不符合“为了躲避鲶鱼，沙丁鱼需要在水中拼命游动，反而激发出旺盛的生命力”，不符合定义，当选。

本题为选非题，故正确答案为D。

72、第一步：找出定义关键词。

“快速成长的事物”、“以牺牲质量和内涵为代价”。

第二步：逐一分析选项。

A项：小钟数学成绩突出，被某重点大学破格录取，并未牺牲质量与内涵，不符合“以牺牲质量和内涵为代价”，不符合定义，排除；

B项：小王严格把控货物质量，殷勤周到地服务客户，并未牺牲质量与内涵，不符合“以牺牲质量和内涵为代价”，不符合定义，排除；

C项：某公司短期内商品的销量大幅增长，符合“快速成长的事物”，以低于成本价的方式销售商品，符合“以牺牲质量和内涵为代价”，符合定义，当选；

D项：某企业通过资产重组，资源配置更趋合理，并未牺牲质量与内涵，不符合“以牺牲质量和内涵为代价”，不符合定义，排除。

故正确答案为C。

73、第一步：找出定义关键词。

“通过制定政策引导扶持、加强金融体系建设、健全金融基础设施”、“农民、小微企业、城镇低收入人群、残疾人、老年人等特殊群体为普惠金融的服务对象”

第二步：逐一分析选项。

A项：支持农村小额信贷组织发展，符合“通过制定政策引导扶持、加强金融体系建设、健全金融基础设施”，向农村贫困人群提供融资服务，符合“农民、小微企业、城镇低收入人群、残疾人、老年人等特殊群体为普惠金融的服务对象”，符合定义，排除；

B项：向私募基金提供免息贷款，不符合“农民、小微企业、城镇低收入人群、残疾人、老年人等特殊群体为普惠金融的服务对象”，不符合定义，当选；

C项：针对残疾人，符合“农民、小微企业、城镇低收入人群、残疾人、老年人等特殊群体为普惠金融的服务对象”，免抵押、免担保、财政贴息的贷款符合“通过制定政策引导扶持、加强金融体系建设、健全金融基础设施”，符合定义，排除；

D项：创业农民、大中专学生符合“农民、小微企业、城镇低收入人群、残疾人、老年人等特殊群体为普惠金融的服务对象”，改善金融支持符合“通过制定政策引导扶持、加强金融体系建设、健全金融基础设施”，符合定义，排除。

本题为选非题，故正确答案为B。

74、第一步：找出定义关键词。

“下雨时吸水、蓄水、渗水、净水，干旱时将蓄存的水释放并加以利用”。

第二步：逐一分析选项。

A项：甲市的渗、滞、蓄、净、用、排等生态化技术，符合“下雨时吸水、蓄水、渗水、净水，干旱时

将蓄存的水释放并加以利用”，符合定义，排除；

B项：乙市“雨水排得越多、越快、越顺畅”的管理理念，只是表明了对雨水处理的方式，但没有体现“下雨时吸水、蓄水、渗水、净水，干旱时将蓄存的水释放并加以利用”，不符合定义，当选；

C项：丙市实现了雨水的积存、渗透、净化、释放，符合“下雨时吸水、蓄水、渗水、净水，干旱时将蓄存的水释放并加以利用”，符合定义，排除；

D项：丁市下大雨时将雨水过滤吸收并渗漏蓄水池里，旱季时将其释放出来增加空气湿度，符合“下雨时吸水、蓄水、渗水、净水，干旱时将蓄存的水释放并加以利用”，符合定义，排除。

本题为选非题，故正确答案为B。

75、第一步：找出定义关键词。

“人们过度使用公共资源，会造成资源枯竭”。

第二步：逐一分析选项。

A项：共享单车侵占、毁损、违规占道，导致管理成本上升，符合“人们过度使用公共资源，会造成资源枯竭”，符合定义，排除；

B项：住户随意在公共区域丢弃生活垃圾，导致楼道臭气弥漫，符合“人们过度使用公共资源，会造成资源枯竭”，符合定义，排除；

C项：某市的服务跟不上，公共服务水平低下，并未体现人们过度使用公共资源，从而导致资源枯竭，不符合定义，当选；

D项：渔民用细网捕捞，大鱼小虾都被捕获，属于过度捕捞，符合“人们过度使用公共资源，会造成资源枯竭”，符合定义，排除。

本题为选非题，故正确答案为C。

76、第一步：翻译题干。

竞选省游泳队主教练成功→至少拿过一次省级比赛的游泳冠军

第二步：逐一分析选项。

A项：选项表明小陈拿过两次省级游泳比赛的冠军，但是没有提到小陈是否竞选省游泳队主教练成功，话题不一致，无法证明题干的逻辑是正确的，排除；

B项：选项表明小陈拿过一次全国跳水比赛的冠军，但是没有提到小陈是否拿过省级游泳比赛的冠军和是否竞选省游泳队主教练成功，话题不一致，无法证明题干的逻辑是正确的，排除；

C项：翻译为：游泳不好的人可能被选为主教练，由题干可知不能拿到省级比赛游泳冠军的人，是不能竞选省游泳队主教练成功的，即游泳不好的人是不能竞选主教练成功的，题干和选项出现矛盾，无法证明

题干的逻辑是正确的，排除；

D项：翻译为：被选为省游泳队主教练 \rightarrow 省级以上游泳冠军，是对题干的肯前必肯后，与题干逻辑关系一致，可以证明题干逻辑正确，当选。

故正确答案为D。

77、第一步：翻译题干。

天不刮风 \rightarrow 会下雨，已知该断定为假，则其矛盾命题“天不刮风且不会下雨”为真。

第二步：逐一分析选项。

A项：翻译为：天在刮风且没有下雨，和题干句子的矛盾命题不一致，无法推出，排除；

B项：翻译为：天不刮风且不会下雨，和题干句子的矛盾命题一致，可以推出，当选；

C项：翻译为：天刮风或下雨，和题干句子的矛盾命题不一致，无法推出，排除；

D项：翻译为：不刮风 \rightarrow 下雨，和题干句子的矛盾命题不一致，无法推出，排除。

故正确答案为B。

78、日常结论题，根据题干信息逐一分析选项。

A项：题干仅指出“截至2022年底，F国餐饮收入实现3750亿元，比上年增长2.3%”，但未说明三年来F国餐饮收入的涨速如何，选项无中生有，无法推出，排除；

B项：题干指出“利润率排名位于后15%的餐饮门店为管理效率低，而近三年F国管理效率低的餐饮门店数量在持续上升”，因此在比例不变的情况下，F国餐饮门店的总数量是在持续上升的，可以推出，当选；

C项：根据题干“利润率排名位于后15%的餐饮门店为管理效率低，近三年F国管理效率低的餐饮门店数量在持续上升”，因此在比例不变的情况下，F国餐饮门店的总数量是在持续上升的。所以，管理效率不低的餐饮门店数量应该持续上升，而非持续下降，无法推出，排除；

D项：题干仅指出2022年F国共有餐饮门店79万家，比上年餐饮收入增长2.3%，未说明餐饮收入增长与管理效率低的餐饮门店数量增加之间是否有联系，选项无中生有，无法推出，排除。

故正确答案为B。

79、第一步：找出论点和论据。

论点：家长上当受骗的数量逐年增加也是正常的。

论据：近年来“童星培训”套路重重，家长上当受骗的现象越来越多。事实上社会对“童星”的需求是逐年增长的。

论据讨论的是社会对“童星”的需求逐年增长，论点说的是家长上当受骗的数量逐年增加，论点论据话题不一致，削弱优先考虑拆桥。

第二步：逐一分析选项。

A项：该项讨论的是家长希望孩子参加“童星培训”的目的，论点讨论的是家长上当受骗的数量逐年增加是否正常，话题不一致，为无关项，无法削弱，排除；

B项：该项讨论的是“童星培训”机构诱骗家长的方式，论点讨论的是家长上当受骗的数量逐年增加是否正常，话题不一致，为无关项，无法削弱，排除；

C项：该项指出社会对“童星”的要求不是培训后的同质化状态，说明“童星培训”并不符合社会对“童星”的需求，社会对“童星”的需求增长并不代表家长上当受骗的数量逐年增加，切断了论点和论据之间的联系，为拆桥项，可以削弱，当选；

D项：该项指出不参加“童星培训”就不会被骗，论点讨论的是家长上当受骗的数量逐年增加是否正常，话题不一致，为无关项，无法削弱，排除。

故正确答案为C。

80、第一步：找出论点和论据。

论点：损坏的涉密U盘不能拿给外人维修。

论据：U盘里删除掉的文件很可能被一些恢复软件还原回来。

论据讨论的是U盘里删除掉的文件可能被还原，论点讨论的是损坏的涉密U盘是否应该拿给外人维修，论点、论据讨论的话题不一致，加强优先考虑搭桥。

第二步：逐一分析选项。

A项：选项说明损坏的涉密U盘里的文件很可能被恢复，那么拿给外人维修就很有可能导致涉密文件被外人获取，因此，损坏的涉密U盘不能拿给外人维修，可以加强，当选；

B项：选项说明有的删除掉的电子文件可能不能被恢复，但题干讨论的是损坏的涉密U盘里的文件是否能被恢复，话题不一致，无法加强，排除；

C项：选项说明有的涉密U盘没有保存涉密文件，只能说明部分涉密U盘即使恢复了被删除的文件也不会涉及保密文件，但仍然有的涉密U盘可能存有保密文件，不明确选项，无法加强，排除；

D项：选项说明有的涉密U盘不能修好，论点讨论的是涉密U盘是否应该给外人维修，话题不一致，无法加强，排除。

故正确答案为A。

81、第一步：整理题干信息。

①所有的人都不吃早餐；

②所有的人吃早餐；

③小李不吃早餐。

第二步：分析题干。

由提问可知，本题为真假推理，先找关系。①和②为反对关系，必有一假，可全部都为假，结合提问，只有一句为真，因为无法确定真话的位置，所以进行假设。

假设③为真，小李不吃早餐，根据只有一句话为真，那么①②均为假，则该班有的人吃早餐，有的人不吃早餐，此时 A、D 项能推出。

假设③为假，小李吃早餐，则①所有人都不吃早餐为假，那么②所有人都吃早餐为真，此时 B、C、D 项能推出。

两种假设均可推出 D 项，故 D 项能够必然推出。

故正确答案为 D。

82、第一步：翻译题干。

①高校扩招得到真正落实→做好产业需求对接且做好师资队伍建设且做好校企深度合作

第二步：逐一分析选项。

A 项：翻译为：¬做好产业需求对接→¬高校扩招得到真正落实，¬做好产业需求对接是对①的否后，否后必否前，可以推出，排除；

B 项：翻译为：高校扩招得到真正落实→做好了师资队伍建设工作，是对①的肯前，肯前必肯后，可以推出，排除；

C 项：翻译为：做好产业需求对接且做好师资队伍建设且做好校企深度合作→高校扩招得到真正落实，是对①的肯后，肯后得不到确定性的结论，无法推出，当选；

D 项：翻译为：高校扩招得到真正落实→做好产业需求对接且做好师资队伍建设且做好校企深度合作，是对①的肯前，肯前必肯后，可以推出，排除。

本题为选非题，故正确答案为 C。

83、根据题干信息逐一分析选项。

题干问的是，哪一个最不可能被补充申报后的新数据推翻。补充申报后的新数据只能增加申报人的个数或者申报的项目数，所以，“仅有”“至多”“不到”等绝对词都有可能被增加的数字而推翻，只有“至少”“多于”等词不可能会被推翻。

A 项：历史学院仅有 5 位教师申报，“仅有”限制人数为 5，如果补充申报后历史学院的申报教师多于 5，则有可能被补充申报后的新数据推翻，过于绝对，排除；

B 项：化学学院申报不多于 5 项，“不多于”限制项目数为 5，如果补充申报后化学学院的申报项目数

多于 5，则有可能被补充申报后的新数据推翻，过于绝对，排除；

C 项：计算机学院至多有 9 位教师申报，“至多”限制人数为 9，如果补充申报后计算机学院的申报教师多于 9，则有可能被补充申报后的新数据推翻，过于绝对，排除；

D 项：经济管理学院至少有 8 位教师申报，申报了至少 11 项，“至少”一词只限制最低数目，对最大数目无限制，则不论补充申报后经济管理学员的申报教师、申报项目增加多少，都不可能被补充申报后的新数据推翻，可以推出，当选。

故正确答案为 D。

84、第一步：分析题干。

①甲→乙且丙

②戊→¬丙且¬丁

③庚→戊

④选拔甲

第二步：根据题干条件分析选项。

题干出现确定信息，从确定信息入手。④选拔甲，是对条件①的肯前，肯前必肯后，则乙和丙都要被选拔；丙被选拔，是对条件②的否后，否后必否前，推出淘汰戊；淘汰戊是对条件③的否后，否后必否前，推出淘汰庚。因此，可得出选拔甲、乙、丙，淘汰戊、庚，丁不确定是否选拔，故只有 C 项一定为真。

故正确答案为 C。

85、第一步：找出论点和论据。

论点：在不必降低气温的情况下使人感到凉爽是可能的。

论据：电扇能提高人体的“热不适”阈值，即用电扇促进室内空气流动会将人们“热不适”温度阈值提高大约 3 至 4 摄氏度。该温度阈值提高后，人们会在一天中更长的时间里感觉舒适，只有在气温超过这一阈值后才会打开空调，从而最大限度地减少空调的总体使用量。

论点和论据的大意都是在讨论不必降低气温的情况下使人感到凉爽是可能的，话题一致，并且问假设，加强优先考虑必要条件。

第二步：逐一分析选项。

A 项：选项说明在气温达到升高后的温度阈值时再打开空调能减少全球能源使用量，论点讨论的是不必降低气温的情况人是否能感到凉爽，二者话题不一致，为无关项，无法加强，排除；

B 项：选项说明老年人必须采用各种持续降温的方法，也就是在不降低气温的情况，老年人可能不会感到凉爽，为削弱项，无法加强，排除；

C项：选项说明越来越多使用空调会加剧地球变暖，与论点讨论的不必降低气温的情况人是否能感到凉爽话题不一致，为无关项，无法加强，排除；

D项：选项说明气温超过某个阈值的时候人会热的难受，“热不适”才使用空调。如果利用风扇提高人体“热不适”的阈值，只要气温没有达到“热不适”的阈值，就可以不开空调，即有可能在不降低气温的时候，使人感到凉爽，必要条件，可以加强，当选。

故正确答案为D。

86、观察数列，项数较多，优先考虑多重数列。奇数项和偶数项分别找规律。

奇数项：1342，2314，3412，（ ），各位数字之和均为 $1+2+3+4=10$ ，只有D项满足。

偶数项：5786，6758，7856，8576，各位数字之和均为 $5+6+7+8=26$ 。

故正确答案为D。

87、观察数列，分子均为7的倍数，故原数列可转化为 $\frac{7}{120}$ ， $\frac{14}{60}$ ， $\frac{21}{20}$ ， $\frac{28}{5}$ ，（ ）， $\frac{42}{\frac{1}{6}}$ 。

数列分子为7、14、21、28、（ ）、42，公差为7的等差数列，故所求项分子为35；数列分母为

120、60、20、5、（ ）、 $\frac{1}{6}$ ，相邻两项做商可得2、3、4、（5）、（6），故所求项分母为1。则所求项为35。

故正确答案为B。

88、观察数列，无明显特征，多级和递推均无规律。将原数列各项除以4后发现余数均为3，只有D项满足该规律。

故正确答案为D。

89、观察数列，各项均为幂次数，考虑幂次数列。原数列可转化为 2^2 、 3^2 、 5^2 、 2^3 、 5^3 、（ ）、 $2^4/4^2$ ，只有C项为幂次数： $1000 = 10^3$ 。

故正确答案为C。

90、数列无明显特征，优先考虑作差。后项减前项所得新数列为：3，4，6，8，12，（ m ），（ n ），新数列无明显特征，继续作差得到：1，2，2，4，（ ），（ ），猜测此数列为简单递推积数列，则后两项为 $2 \times 4 = 8$ ， $4 \times 8 = 32$ ，故 $m = 20$ ， $n = 52$ 。因此原数列所求项 $= 35 + 20 = 55$ ，验证： $55 + 52 = 107$ ，符合。

故正确答案为A。

91、一根线对折一次以后在中间剪开即为在一根线上剪两刀，此时可得到3根线，即 $2^1 + 1$ 。折叠两

次后在中间剪开为在一根线上剪四刀，可得到 5 根线，即 $2^2 + 1$ 。依此类推，对折三次得到的线段数应为 $2^3 + 1 = 9$ 。

故正确答案为 B。

92、设生产了 x 盒这种糕点。根据题意可列方程 $\begin{cases} (2 \times 0.05 + 4 \times 0.02)x \leq 150 \\ (2 \times 0.01 + 4 \times 0.005)x \leq 98 \end{cases}$ ，解得 $\begin{cases} x \leq 2500 \\ x \leq 2450 \end{cases}$ ，故最多能生产盒装糕点 2450 盒。

故正确答案为 C。

93、大于 50 且小于 100 连续的质数为：53, 59, 61, 67, 71, 73, 79, 83, 89, 97。取连续 10 个自然数时，要使质数尽可能多，即取连续的质数，头尾的两个质数差值加 1 要小于等于 10。此时最多有 3 个质数，例如 53, 59, 61， $61 - 53 + 1 = 9 \leq 10$ 。

故正确答案为 C。

94、由题意可知共有 $3+2=5$ 个不同站点，两个站点往返车票不同，则不同的车票数为 $A_5^2 = 5 \times 4 = 20$ 种。

故正确答案为 D。

95、根据题意可知溶质质量恒定不变，可赋溶质质量为 12 和 8 的公倍数 24 克。第一次加水后，溶液质量为 $\frac{24}{12\%} = 200$ 克；第二次加水后，溶液质量为 $\frac{24}{8\%} = 300$ 克，则第二次的加水量为 $300 - 200 = 100$ 克。因此第三次的加等量水后，溶液浓度为 $\frac{24}{300 + 100} = 6\%$ 。

故正确答案为 B。

96、根据题意共 $3 \times 10 = 30$ 个自然数加和，故五个自然数各自出现的次数均为 $\frac{30}{5} = 6$ 次。
 $15 + 16 + 18 + 19 + 21 + 22 + 23 + 26 + 27 + 29 = 216$ ，因此这五个自然数的和为 $\frac{216}{6} = 36$ 。

故正确答案为 D。

97、设红球和黄球数量均为 x 个。根据题意可列式： $\frac{2}{3} \times x + \frac{3}{5} \times x = \frac{1}{2} \times (x + x) + 8$ ，解得 $x = 30$ ，因此小红一共买了 $x + x = 30 + 30 = 60$ 个球。

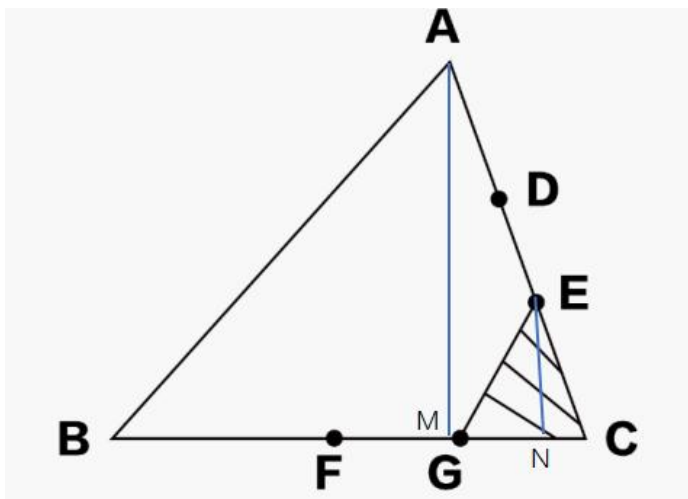
故正确答案为 C。

备注：根据选项出题人考查意图为数量红球黄球均为 3、5 的整倍数。

98、如图，作 AM 垂直于 BC 于 M 点，EN 垂直月 BC 于 N 点。则 $\triangle AMC \sim \triangle ENC$ ，根据相似结论，

$\frac{AM}{EN} = \frac{AC}{EC} = \frac{3}{1}$ 。已知三角形 ABC 的面积是 24，即 $\frac{1}{2} \times AM \times BC = 24$ ， $GC = \frac{1}{2} FC = \frac{1}{4} BC$ ，则三角形 CEG 的面积是： $\frac{1}{2} \times EN \times GC = \frac{1}{2} \times \frac{1}{4} BC \times \frac{1}{3} AM = \frac{1}{12} \times 24 = 2$ 。

故正确答案为 A。



99、设相邻两辆公交车的间距为 s 。根据追及问题公式： $S_{差} = V_{差} \times t$ 。可得 $s = (V_{车} - V_{红}) \times 10$ ； $s = (V_{车} - V_{明}) \times 20$ ；且 $V_{明} = 3V_{红}$ 。解得 $V_{车} = 5V_{红}$ 。

故正确答案为 B。

100

已知 $a + b = c + d$ ，则 $a = c + d - b$ ； $b = c + d - a$ 。又因为 $b + c < a + d$ ，则 $b + c < c + d - b + d$ ，即 $2b < 2d$ ， $b < d$ ，排除 B、C 项； $c + d - a + c < a + d$ ，即 $2c < 2a$ ， $c < a$ ，排除 D 项。

故正确答案为 A。

101、根据题干“2020 年，……约为”，结合材料时间为 2022 年，可判定本题为间隔基期问题。定位文字材料可知，2022 年，M 地区汽车行业规模以上企业累计实现主营业务收入 83345.25 亿元，同比增长率为 13.79%；定位表格可知，2021 年同比增长率为 4.73%。代入公式： $\text{间隔增长率} = r_1 + r_2 + r_1 \times r_2$ ，

可得 2022 年 M 地区汽车行业规模以上企业累计实现主营业务收入比 2020 年增长 $13.79\% + 4.73\% + 13.79\% \times 4.73\% \approx 18.52\% + 0.7\% \approx 19.2\%$ 。根据公式： $\text{基期量} = \frac{\text{现期量}}{1+r}$ ，可得所求为： $\frac{83345.25}{1+19.2\%} \approx \frac{83345.25}{1.19} \approx 70038$ 亿元，A 项最接近。

故正确答案为 A。

102、定位文字和表格材料可知，2022 年 M 地区汽车行业规模以上企业累计实现主营业务收入同比增长

率为 13.79%；2022 年上半年同比增速为 9.90%。则所求为： $13.79\% - 9.9\% = 3.89\%$ ，即提高 3.89 个百分点。

故正确答案为 B。

103、定位文字和表格材料可知，2022 年 M 地区汽车行业规模以上企业累计实现主营业务收入增长率比 2021 年上升 9.06 个百分点，2022 年第一季度、上半年、前三季度分别提高 $8.90\% - 4.84\% = 4.06\%$ 、 $9.90\% - 3.84\% = 6.06\%$ 、 $13.25\% - 2.36\% = 10.89\%$ ，即提高 4.06 个百分点、6.06 个百分点、10.89 个百分点。则提高最多的是 2022 年前三季度。

故正确答案为 C。

104、A 项：定位表格可知，2022 年 1-3 月 M 地区汽车行业规模以上企业主营业务收入同比增长 8.90%，1-4 月同比增长 8.83%。根据混合增长率的口诀“混合后居中”，可知 1-3 月增长率（8.90%） $>$ 1-4 月增长率（8.83%） $>$ 4 月增长率，因此 4 月增长率 $<$ 1-4 月累计增长率，错误；

B 项：定位文字材料可知各季度及全年累计增长率。根据混合增长率口诀“混合后居中”，可知：第一季度增速（8.90%） $<$ 上半年增速（9.90%） $<$ 第二季度增速、上半年增速（9.90%） $<$ 前三季度增速（13.25%） $<$ 第三季度增速、前三季度增速（13.25%） $<$ 全年增速（13.79%） $<$ 第四季度增速，因此各季度的增长率均不低于一季度到该季度的累计增长率，正确；

C 项：定位表格材料可知，2022 年一季度 M 地区汽车行业规模以上企业主营业务收入同比增长 8.90%，上半年同比增长 9.90%，根据混合增长率口诀“混合后居中”可知，第一季度增速（8.90%） $<$ 上半年增速（9.90%） $<$ 第二季度增速，故 2022 年第二季度增速 $>$ 9.90%；2021 年一季度 M 地区汽车行业规模以上企业主营业务收入同比增长 4.84%，上半年同比增长 3.84%，可知第一季度增速（4.84%） $>$ 上半年增速（3.84%） $>$ 第二季度增速，故 2021 年第二季度同比增速 $<$ 3.84%。则 2022 年第二季度同比增长率高于上年同期，正确；

D 项：定位表格材料可知，2022 年上半年 M 地区汽车行业规模以上企业主营业务收入同比增长 9.90%，前三季度同比增长 13.25%，根据混合增长率口诀“混合后居中”可知，上半年增速（9.90%） $<$ 前三季度增速（13.25%） $<$ 第三季度增速，故 2022 年第三季度增速 $>$ 13.25%；2021 年上半年 M 地区汽车行业规模以上企业主营业务收入同比增长 3.84%，前三季度同比增长 2.36%，可知上半年增速（3.84%） $>$ 前三季度增速（2.36%） $>$ 第三季度增速，故 2021 年第三季度同比增速 $<$ 2.36%。则 2022 年第三季度同比增长率高于上年同期，正确。

本题为选非题，故正确答案为 A。

105、A项：材料中未告知2022年上半年M地区汽车行业规模以上企业累计实现主营业务收入的数据，故A项无法推出，错误；

B项：材料中未告知2022年上半年M地区汽车行业规模以上企业累计实现主营业务收入的数据，故B项无法推出，错误；

C项：定位文字材料可知，2022年M地区汽车行业规模以上企业累计实现主营业务收入同比增长13.79%（b），累计实现利润同比增长10.66%（a）。根据两期比重结论“ $a < b$ ，比重下降”可知，2022年M地区汽车行业规模以上企业主营业务利润率低于2021年，正确；

D项：材料未告知2022年12月份和11月份的M地区汽车行业规模以上企业主营业务收入，故2022年12月的环比增速无法推出，错误。

故正确答案为C。

106、根据题干“2018年，……实际增长约”，选项带单位，可判定本题为增长量计算问题。定位文字材料可知，2018年，全国城镇非私营单位就业人员年平均工资为82460元，同比实际增长8.7%，

代入公式：
$$\text{增长量} = \frac{\text{现期量}}{1+r} \times r$$
，可得所求为：
$$\frac{82460}{1+8.7\%} \times 8.7\% \approx \frac{82460}{1+\frac{1}{11.5}} \times \frac{1}{11.5} = \frac{82460}{12.5} \approx 82000 \times 0.8 = 6560$$
元，A项最接近。

故正确答案为A。

107、根据题干“2017年，……为”，结合材料时间为2018年，可判定本题基期计算问题。定位文字材料可知，2018年，全国城镇私营单位就业人员年平均工资为49575元，比上年增长8.3%。代入

公式：
$$\text{基期量} = \frac{\text{现期量}}{1+r}$$
，可得所求为：
$$\frac{49575}{1+8.3\%} \approx \frac{49575}{1.08} \approx 45903$$
元，B项最接近。

故正确答案为B。

108、根据题干“2009~2018年，……同比增量最大的年份为”，可判定本题为增长量比较问题。定位图1，可知2009~2018年每年全国城镇非私营单位就业人员年平均工资的柱子高度，相邻两年柱子的高度差可代表同比增长量的大小。观察图形可知2018年全国城镇非私营单位就业人员年平均工资的同比增量最大。

故正确答案为D。

109、定位图1、图2，可知2009~2018年全国城镇非私营单位和私营单位就业人员年平均工资的同比增速。比较可知，有：2018年（11.00%>8.30%）、2017年（10.00%>6.80%）、2016年（8.90%>8.20%）、2015年（11.10%>8.80%）、2009年（11.60%>6.60%），共5个年份满足题干要求。

故正确答案为 D。

110、A 项：定位图 1、图 2，结合图形左侧坐标轴观察柱状图高度可知，2009~2018 年全国城镇非私营单位就业人员年平均工资均高于私营单位，正确；

B 项：定位图 1、图 2 可知，全国城镇非私营单位就业人员和私营单位就业人员年平均工资增长率最大的年份都是 2011 年，正确；

C 项：定位图 1、图 2，结合图形左侧坐标轴观察柱状图高度可知，2009 年城镇非私营单位就业人员和私营单位就业人员年平均工资相差约 $32000 - 18000 = 14000$ 元，而 2018 年相差约 $82000 - 49000 = 33000$ 元， $33000 > 12000$ ，不是逐年缩小，错误；

D 项：定位图 1、图 2 可知，2009~2018 年全国城镇非私营单位与私营单位就业人员年平均工资逐年持续上涨，正确。

本题为选非题，故正确答案为 C。